

AUTOCAD SORULARI

1. Çizim ekranı etrafında yer alan içerisinde ilgili komutların bulunduğu araç çubuklarının diğer adı nedir?

- a-) Standard menü b-) Drawing c) Toolbars d) Export

2. Aşağıdakilerden hangisi File menüsüne ait yeni bir çizim dosyası açma komutudur?

- a) Open b) New c) Close d) Undo

3. Çizim ekranının sol alt köşesinde bulunan aşağıdaki şekil nedir?

- a) Yatay kaydırma çubuğu b) Komut satırı c) Koordinat sistemi X d) Düşey kaydırma çubuğu

4. Ekranın altında bulunan durum çubuğu komutlarından hangisi nesne yakalama modunu açar veya kapatır?

- a) Grid b) Osnap c) Snap d) Move

5. Aşağıdakilerden hangisi Draw menüsüne ait komuttur?

- a) Leader b) Zoom c) Trim d) Arc

6. Aşağıdakilerden hangisi Modify menüsüne ait komuttur?

- a) Mirror b) Diameter c) Regen d) Acad

7. Aşağıdakilerden hangisi ölçülendirme menüsüdür?

- a) View b) Dimension c) Polyline d) Array

8. Aşağıdakilerden hangisi görüntü çizgilerini gizleyen view menüsü komutudur?

- a) Display b) Shade c) Clean d) Hide

9. Aşağıdakilerden hangisi çizimi yakınlaştıran veya uzaklaştıran görüntü komutudur?

- a) View b) Zoom c) Pan d) Block

10. Aşağıdakilerden hangisi işlemi geri alan Edit menüsüne ait komuttur?

- a) Undo b) Table c) Clear d) Hatch

11. Daha önceden kaydedilmiş bir dosyayı çağıran komut hangisidir?

“ DOĞRU TERCİHLER SİZİ ÇÖZÜME GÖTÜRÜR “

Bizi Tercih Ettiğiniz İçin Teşekkür Ederiz, Tüm Kursiyerlerimize Sınavlarında Başarılar Dileriz..

İLETİŞİM : 0(258) 265 57 52 - 241 75 15 - 0530 565 95 60 – 532 168 41 11

www.cozumkariver.com

a) Close b) Send **c) Open** d)

12. Aşağıdakilerden hangisi insert menüsüne ait çizimde bloklama işlemi yapan komuttur?

a) Layer b) Offset c) Copy **d) Block**

13. Aşağıdakilerden hangisi Draw menüsüne ait çokgen oluşturma komutudur?

a) Polygon b) Plot c) Reganel d) Update

14. Açısal ölçülendirme yapan komut hangisidir?

a) Radius **b) Angular** c) Open d) Donut

15. Aşağıdakilerden hangisi Modify menüsüne ait taşıma komutudur?

a) Filet b) Copy c) Explode **d) Move**

16. Cizim sırasında noktaların tüm koordinat değerlerinin orijine göre verilen koordinat sistemi nedir?

a) Artımsal Koordinat S. b) Sırsal Koordinat S. **c) Mutlak Koordinat** S. d) Açısal Koordinat S.

17. Aşağıda LINE komutu uygulanarak A noktası seçilen ve yatayla 60 derece açı yaparak açısal koordinat sistemine göre AB doğrultusunda,100 birim uzunluğunda doğruyu çizen komut satırı aşağıdakilerden hangisidir? 60 derece A

18. Line, circle, arc komutlarıyla çizilenleri eşit aralıklarla bölmeyi sağlayan komut aşağıdakilerden hangisidir?

a) Erase **b) Divide** c) Measure d) Scale

19. Çizgilerin birbirinden koparılmasını sağlayan komut aşağıdakilerden hangisidir ?

a) Extend b) Union **c) Trim** d) Hatch

20. Dosyanın aynısını başka bir adla kopyalayan komut aşağıdakilerden hangisidir?

a) Copy to clipboard b) Copy c) Save **d) Save as**

21- Render'da gölge oluşturabilmek için aşağıdakilerden hangisi kullanılmalıdır?

a)Material **b)Light** c)Background d)Fog

“ DOĞRU TERCİHLER SİZİ ÇÖZÜME GÖTÜRÜR “

Bizi Tercih Ettiğiniz İçin Teşekkür Ederiz, Tüm Kursiyerlerimize Sınavlarında Başarılar Dileriz..

İLETİŞİM : 0(258) 265 57 52 - 241 75 15 - 0530 565 95 60 – 532 168 41 11

www.cozumkariver.com

22- AutoCad'te kağıda çıktı almak için hangi komut kullanılır?

a)Plot b)Preview c)Publish d)Layout

23- Toolbar'lar aşağıdakilerden hangisi ile açılabilir?

a)View-Toolbars b)View-Display c)View-Zoom d)View-Regen

24- Aşağıdaki shade modlarından hangisi cismi gölgelendirilmiş dolu obje olarak gösterir?

a)2D wireframe b)3D wireframe c)Hidden d)Flat Shaded

25- Aşağıdaki zoom'lardan hangisi eşzamanlı büyültme-küçültme yapar?

a)Pan b)Realtime c)Previous d)Window

26- Tolerans simgesi hangi konu ile ilgilidir?

a)Design Center b)Insert c)Dimension d)Editing

27- Alan,hacim ve koordinat bilgilerini veren komutlar hangi toolbar içinde bulunur?

a)Dimension b)Shade c)Modify d)Inquiry

28- Aşağıdaki komutlardan hangisini kullanarak, seçili iki boyutlu cismi belli bir yönde südürebiliriz?

a)Scale b)Stretch c)Extend d)Measure

29- Chamfer komutunun görevi nedir?

a)İki çizgi yuvarlatılarak birleştirilir b)Objelerin boyutunu büyütüp,küçültür c)Köşelerden pah kırma işlemini yapar d)Objeleri döndürmek için kullanılır

30- Aşağıdaki komutlardan hangisi Lengthen komutunda çizgi uzatma yöntemlerinden biri değildir?

a)Delta b)Dynamic c)Percent d)Extend

31- İstenilen objeyi (çizgi,yay vb.) belirlediğimiz sayıda nokta veya blok kullanarak eşit aralıklarla işaretlemeyi sağlayan komut aşağıdakilerden hangisidir?

a)Divide b)Measure c)Array d)Hepsi

“ DOĞRU TERCİHLER SİZİ ÇÖZÜME GÖTÜRÜR “

Bizi Tercih Ettiğiniz İçin Teşekkür Ederiz, Tüm Kursiyerlerimize Sınavlarında Başarılar Dileriz..

İLETİŞİM : 0(258) 265 57 52 - 241 75 15 - 0530 565 95 60 – 532 168 41 11

www.cozumkariver.com

32- Ölçülendirmede yazının altında kalan çizgiye ne ad verilir?

a)Dimension Line b)Extension Line c)Baseline d)Leader

33- Ölçülendirmedeki ok başlarına ne ad verilir?

a)Leader b)Arrow Head c)Mark d)Fit

34- Boundary komutunun kısayolu nedir?

a)bo b)b c)ob d)bou

35- Alan ölçme komutu olan Area'nın kısayolu nedir?

a)aa b)ar c)a d)are

36- Komut iptali yapan kısayol tuşu hangisidir?

a)Mouse sağ tuş b)Space c)Esc d)Tab

37- Belirlenen açılarda imlecin takılarak çizim yapmasını sağlayan komut (koordinat sistemi) hangisidir?

a)Orthogonal b)Polar c)İzometrik d)Layout

38- Oran belirterek büyütüp,küçültme yapabildiğimiz zoom hangisidir?

a)Pan b)Window c)Scale d)Extent

39- Merkezle büyüklüğü kontrol edilebilen bir dörtgenle yaklaşma yapabilen zoom hangisidir? a)Extent b)Window c)Dynamic d)Center

40- Aşağıdakilerden hangisi 3D.....boşluğuna koyularak bir komut oluşturmaz?

a)Mirror b)Array c)Rotate d)Stretch

41. Perspektif çizim yapabilmemiz için Drafting Settings tablosundan hangisini seçmeliyiz?

a) Grid Snap b) Rectengular Snap c) Isometric Snap d) Polar Snap

42. Herhangi bir üçgenin içinde, kenarlarına teğet olacak şekilde tek bir çember çizmek için Draw menüsünün Circle komutunda hangi seçenek uygulanır?

a) 3 points b) Tan, Tan, Tan c) Tan, Tan, Radius d) 2 points

43. Çıktı alma komutu olan Plot hangi araç kutusundadır ?

“ DOĞRU TERCİHLER SİZİ ÇÖZÜME GÖTÜRÜR “

Bizi Tercih Ettiğiniz İçin Teşekkür Ederiz, Tüm Kursiyerlerimize Sınavlarında Başarılar Dileriz..

İLETİŞİM : 0(258) 265 57 52 - 241 75 15 - 0530 565 95 60 – 532 168 41 11

www.cozumkariver.com

a) Standart toolbar b) Properties toolbar c) Draw toolbar d) Modify toolbar

44. Çizilen şekilleri çizim ekranında sağa-sola, yukarı-aşağı sürüklemeyi sağlayan komut hangisidir?

a) Move b) Offset c) Pan d) Array

45. Birbirini kesmeyen ya da temas etmeyen doğru parçalarını uzatarak kesişmesini sağlayan komut hangisidir?

a) Line b) Extend c) Trim d) Redo

46. Kesişen iki doğru köşesine veya katı modeller üzerinde bulunan köşelere pah kıran komut hangisidir?

a) Radüs b) Edit c) Chamfer d) Fillet

47. Çift çizgi ya da daha fazla çizgi çizmemizi sağlayan komut aşağıdakilerden hangisidir?

a) Line b) Polyline c) Multiline d) Construction line

48. Sınırları belli kapalı bir alanı belli bir desenle taramak için kullanılan komut aşağıdakilerden hangisidir?

a) Color b) Pattern c) Regionve d) Hatch

49. Seçilen objenin belirlenen iki nokta arasında kırılmasını sağlayan komut hangisidir?

a) Break b) Divide c) Trim d) Extend

50. İçi dolu daire halkası çizen Draw menüsü komutu hangisidir?

a) Circle b) Donut c) Arc d) Elips

51. Kesişen iki doğru köşesine veya katı modeller üzerinde bulunan köşelere yuvarlatma yapan komut nedir?

a) Chamfer b) Edit c) Offset d) Fillet

52. Belirli bir mesafe girerek çizgileri ötelemeye yarayan komut aşağıdakilerden hangisidir?

a) Line b) Polyline c) Move d) ofset

53. Çizilen bir objeyi 5 kat büyültmek istenildiğinde aşağıdakilerden hangi komut işlemi yapılmalıdır?

a) Scale' den 5 b) Stretch' den 5 c) Scale' den 1/5 d) Stretch' den 1/5

“ DOĞRU TERCİHLER SİZİ ÇÖZÜME GÖTÜRÜR “

Bizi Tercih Ettiğiniz İçin Teşekkür Ederiz, Tüm Kursiyerlerimize Sınavlarında Başarılar Dileriz..

İLETİŞİM : 0(258) 265 57 52 - 241 75 15 - 0530 565 95 60 – 532 168 41 11

www.cozumkariver.com

54. Kesişebilecek çizgilerin uçlarını uzatmak için kullanılan komut hangisidir?

a) Extend b) Union c) Ray d) Trim

55. Çizilen objenin çiziminin başka bir yerinde veya başka bir çizim dosyasında kullanılmak üzere blok oluşturan komut hangisidir?

a)İnsert b)Extend c)Block d) Redo

56. Seçilen objelerin belirli bir referans noktasına göre istenilen açıda döndürülmesini sağlayan komut hangisidir?

a) Mirrör b) Rotate c) Move d) Change

57. Çokgen çizmek için kullandığımız Draw menüsü komutu nedir?

a) Polyline b) Polygon c) Offset d) Rectenqular

58. İzometrik izdüşümü elde etmek için cismin iki kenarı yatayla kaç derecelik eşit açı yapacak şekilde düzlem ölçüsüne yerleştirilir?

a) 30 derece b) 60 derece c) 45 derece d) 20 derece

59. İzometrik ölçülendirme yapabilmek için araç çubuğundan hangi seçenek tercih edilir?

a) Angular Dimension b) Ordinate Dimension c) Aligned Dimension d) Quick Dimension

60. Çizilen nesnelere katı modelleme öncesi birleştirmek için kullanılan Draw menüsüne ait komut hangisidir?

a) Stretch b) Command c) Union d) Region

61- Trim komutu aşağıdakilerden hangisine uygulanamaz?

a)Line b)Arc c)Pline d)Face

62- Extend komutu ne yapar?

a)Uzatma b)Budama c)Silme d)Yükseltme

63- Bir cismin simetrisini almak için hangi komut uygulanır?

a)Copy b)Mirror c)Move d)Blok

64- Yeni bir cisim oluşturan üretim komutları hangi menü altındadır?

a)Tools b)Draw c)Modify d)Format

“ DOĞRU TERCİHLER SİZİ ÇÖZÜME GÖTÜRÜR “

Bizi Tercih Ettiğiniz İçin Teşekkür Ederiz, Tüm Kursiyerlerimize Sınavlarında Başarılar Dileriz..

İLETİŞİM : 0 (258) 265 57 52 - 241 75 15 - 0530 565 95 60 – 532 168 41 11

www.cozumkariver.com

65- Düzenleme komutları hangi menüdedir?

a)View **b)Tools** c)Format d)Modify

66- Autocad'de dosya seçim kullanıcı tercihleri gibi seçeneklerin ayarlandığı komut hangisidir?

a)Change **b)Properties** c)Option d)Insert

67- Circle komutunun kısa yolu hangisidir?

a)c b)co **c)ci** d)Cr

68- Aşağıdakilerden hangisi (enter)'in yerini görmez?

a)Sol tuş b)Sağ tuş c)Space bar d)Hiçbiri

69- Hangisi hepsi anlamına gelir?

a)Select b)None c)Object **d)All**

70- Hangisi açılı anlamına gelir?

a)Scale b)Rotate c)Base **d)Angle**

71- "Edge" in karşılığı nedir?

a)Kesmek b)Seçmek **c)Kenar** d)Nesne

72- "Boundary" in karşılığı nedir?

a)Sınır b)Uzatmak c)Budamak d)Patlatmak

73- Hangisiyle bir merkez etrafında dairesel kopyalama yapılır?

a)Copy b)Move **c)Array** d)Align

74. Autocad'de çizgi çizmemizi sağlayan komut aşağıdakilerden hangisidir?

a-) circle b-) trim **c-) line** d-) polygon

75. Autocad' de yazı yazmamızı sağlayan komut aşağıdakilerden hangisidir?

a-) text b-) text style c-) hatch d-) erase

“ DOĞRU TERCİHLER SİZİ ÇÖZÜME GÖTÜRÜR “

Bizi Tercih Ettiğiniz İçin Teşekkür Ederiz, Tüm Kursiyerlerimize Sınavlarında Başarılar Dileriz..

İLETİŞİM : 0(258) 265 57 52 - 241 75 15 - 0530 565 95 60 – 532 168 41 11

www.cozumkariver.com

76. Erase komutu autocad'de aşağıdakilerden hangisi yapmaktadır?

a-) obje silme b-) radius çizme c-) daire çizme d-) çizgi çizme

77. Çizilmiş olan parçayı hem döndürebildiğimiz hem de tersini yansıtabildiğimiz komut nedir?

a-) rotate b-) array **c-) mirror** d-) region

78. Çizilmiş olan bir parçayı block yapmak için aşağıdakilerden hangi komut kullanılır?

a-) make block b-) paste c-) region d-) copy with base point

79. Autocad'de çizgileri birbirinden koparılmasını sağlayan komut aşağıdakilerden hangisidir ?

a-) extend b-) union **c-) trim** d-) hatch

80. Yakalama modlarından (O Snap) çizginin dikine yakalamayı sağlayan yardımcı mod aşağıdakilerden hangisidir?

a- insert b-) Nearest **c-) Perpendicular** d-) Node

81. Yakalama modlarından node ne işe yarar?

a-) dikine yakalar b-) paralel yakalar **c-) nokta yakalar** d-) teğet yakalar

82. Autocad' de tarama yapmamızı sağlayan komut aşağıdakilerden hangisidir?

a-) text **b-) hatch** c-) region d-) line

83. Autocad' deki copy komutunu kullanırken kopyalamayı tekrar etmek için ne yapmak gerekir?

a-) multiple b-) choice c-) erase **d-) hiçbir sey gerekmez**

84. Belirli bir mesafe girerek çizgileri ötelemeye yarayan komut aşağıdakilerden hangisidir?

a-) line b-) offset **c-) move** d-) polyline

85. Autocad'deki donut (çift daire içini boyayarak çizen) komutu hangi menü içerisinde yer almaktadır?

a-) format menüsünde **b-) draw menüsünde** c-) modify menüsünde d-) dimension menüsünde

“ DOĞRU TERCİHLER SİZİ ÇÖZÜME GÖTÜRÜR “

Bizi Tercih Ettiğiniz İçin Teşekkür Ederiz, Tüm Kursiyerlerimize Sınavlarında Başarılar Dileriz..

İLETİŞİM : 0(258) 265 57 52 - 241 75 15 - 0530 565 95 60 – 532 168 41 11

www.cozumkariver.com

86. Autocad' de Ucs ne işe yarar?

a-) Sadece orjindir **b-) Orjindir ve kullanıcı koordinat sistemidir** c-) Çizgileri siler d-) hiç bir işe yaramaz

87. Dosyamın aynısını başka bir adla kopyaladığım komut aşağıdakilerden hangisidir?

a-) copy to clipboard b-) copy c-) save **d-) save as**

88. Çizilen bir objeyi 5 kat büyültmek istenildiğinde ne yapılmalıdır?

a-) scale' den 5/1 b-) stretch' den 5/1 c-) scale' den 1/5 d-) stretch' den 5/1

89. Autocad' de objeleri döndürmeyi sağlayan komut aşağıdakilerden hangisidir?

a-) mirror b-) scale c-) donut **d-) rotate**

90. Autocad' deki sivri köşeleri radüs atma komutu aşağıdakilerden hangisidir?

a-) edit text **b-) fillet** c-) chamfer d-) circle

91. Dimension style menüsü autocad'de ne işe yarar ?

a-) Ölçülendirme yapılıır **b-) Ölçülendirme ayarı ve yeni ölçülendirme karakterleri yaratılır**
d-) Sadece ölçülendirme ayarı yapılıır d-) Dimension menüsünü açmaya yarar

92. Çizilen şekilleri çizim alanında sağa-sola, yukarı-aşağı sürüklemeyi sağlayan komut hangisidir?

a-) move b-) offset **c-) pan** d-) array

93. Çizilen tüm resimleri ekranda görmemi sağlayan zoom komutu klavyeden nasıl kullanılır?

a-) Zoom-dynamic b-) Zoom-v **c-) Zoom-A** d-) Zoom- P

94. Çizilmiş iki daire arasına radüsü bilinen başka bir daire çizmek için ne yapılmalıdır?

a-) C ? ttr ? radüs yazılır ? daireler seçilir ? **b-) c ? ttr ? daireler seçilir ? radüs yazılır ?**
c-) c ? ttt ? daireler tıklanır ? radüs yazılır ? d-) c ? tr ? daireler pencere içine alınır ? r ?

95. Çıktı alma komutu olan plot hangi araç kutusundadır ?

a-) standart toolbar b-) properties toolbar c-) draw toolbar d-) modify toolbar

96. Autocad' de çift çizgi ya da daha fazla çizgi çizmemizi sağlayan komut aşağıdakilerden hangisidir?

a-) line b-) polyline **c-) multiline** d-) construction line

“ DOĞRU TERCİHLER SİZİ ÇÖZÜME GÖTÜRÜR “

Bizi Tercih Ettiğiniz İçin Teşekkür Ederiz, Tüm Kursiyerlerimize Sınavlarında Başarılar Dileriz..

İLETİŞİM : 0(258) 265 57 52 - 241 75 15 - 0530 565 95 60 – 532 168 41 11

www.cozumkariver.com

97. Autocad' de çizgileri birbirine uzatılmasını sağlayan komut aşağıdakilerden hangisidir ?

a-) extend b-) break c-) break at point d-) spline

98. Autocad' de üçgen, beşgen gibi çokgenleri çizmemizi sağlayan komut aşağıdakilerden hangisidir?

a-) polyline **b-) polygon** c-) multiline d-) move

99. Ölçülendirme ayarlarının içinde kendi yarattığımız bir karakterin sadece oklarını, yazı yüksekliği vb. ayarlarını 4 kat büyütme istediğimizde aşağıdakilerden hangisini kullanırız.

a-) Dimension style-Text bölümünden **b-) Dimension style-Fit bölümünden**
c-) Dimension style-Primary units bölümünden d-) Dimension style-Lines and arrows

100. Bir objenin bütün özelliklerini tanımlayan komut aşağıdakilerden hangisidir?

a-) match properties b-) dimension style **c-) properties** d-) insert

101. Autocad ekranındaki çizimimizi resim formatında nasıl kaydederiz?

a-) Tools/display imaj/save b-) edit/cut c-) file/save d-) modify/rotate

102. Tablo oluşturmak için hangi komutu kullanırız?

a-) table b-) draw c-) insert d-) select

103. Çizim ekranı etrafında yer alan içerisinde ilgili komutların bulunduğu araç çubuklarının diğer adı nedir?

a-) Standard menü b-) Drawing **c) Toolbars** d) Export

104. Aşağıdakilerden hangisi File menüsüne ait yeni bir çizim dosyası açma komutudur?

a) Open **b) New** c)Close d) Undo

105. Ekranın altında bulunan durum çubuğu komutlarından hangisi nesne yakalama modunu açar veya kapatır?

a) Grid **b) Osnap** c)Snap d) Move

106. Aşağıdakilerden hangisi Draw menüsüne ait komuttur?

a) Leader b) Zoom c)Trim **d) Arc**

“ DOĞRU TERCİHLER SİZİ ÇÖZÜME GÖTÜRÜR “

Bizi Tercih Ettiğiniz İçin Teşekkür Ederiz, Tüm Kursiyerlerimize Sınavlarında Başarılar Dileriz..

İLETİŞİM : 0(258) 265 57 52 - 241 75 15 - 0530 565 95 60 – 532 168 41 11

www.cozumkariver.com

107. Aşağıdakilerden hangisi Modify menüsüne ait komuttur?
a) **Mirror** b) Diameter c) Regen d) Acad
108. Aşağıdakilerden hangisi ölçülendirme menüsüdür?
a) View b) **Dimension** c) Polyline d) Array
109. Aşağıdakilerden hangisi görüntü çizgilerini gizleyen view menüsü komutudur?
a) Display b) Shade c) Clean d) **Hide**
110. Aşağıdakilerden hangisi çizimi yakınlaştıran veya uzaklaştıran görüntü komutudur?
a) View b) **Zoom** c) Pan d) Block
111. Aşağıdakilerden hangisi işlemi geri alan Edit menüsüne ait komuttur?
a) **Undo** b) Table c) Clear d) Hatch
112. Daha önceden kaydedilmiş bir dosyayı çağıran komut hangisidir?
a) Close b) Send c) **Open** d) Donut
113. Aşağıdakilerden hangisi insert menüsüne ait çizimde bloklama işlemi yapan komuttur?
a) Layer b) Offset c) Copy d) **Block**
114. Aşağıdakilerden hangisi Draw menüsüne ait çokgen oluşturma komutudur?
a) **Polygon** b) Plot c) Reganel d) Update
115. Açısal ölçülendirme yapan komut hangisidir?
a) Radius b) **Angular** c) Open d) Donut
116. Aşağıdakilerden hangisi Modify menüsüne ait taşıma komutudur?
a) Filet b) Copy c) Explode d) **Move**
117. Çizim sırasında noktaların tüm koordinat değerlerinin orijine göre verilen koordinat sistemi nedir?
a) Artımsal Koordinat S. b) Sırasal Koordinat S. c) **Mutlak Koordinat S.** d) Açısal Koordinat S.
118. Line, circle, arc komutlarıyla çizilenleri eşit aralıklarla bölmeyi sağlayan komut aşağıdakilerden hangisidir?
a) Erase b) **Divide** c) Masure d) Scale
119. Çizgilerin birbirinden koparılmasını sağlayan komut aşağıdakilerden hangisidir ?

“ DOĞRU TERCİHLER SİZİ ÇÖZÜME GÖTÜRÜR “

Bizi Tercih Ettiğiniz İçin Teşekkür Ederiz, Tüm Kursiyerlerimize Sınavlarında Başarılar Dileriz..

İLETİŞİM : 0 (258) 265 57 52 - 241 75 15 - 0530 565 95 60 – 532 168 41 11

www.cozumkariver.com

a) Extend Hatch b) Union **c) Trim** d)

120. Dosyanın aynısını başka bir adla kopyalayan komut aşağıdakilerden hangisidir?
a) Copy to clipboard Save b) Copy c) **d) Save as**

121. Donut (çift daire içini boyayarak çizen) komutu hangi menü içerisinde yer almaktadır?
a) Format menüsü **b) Draw menüsü** c) Modify menüsü d) Dimension menüsü

122. Çizimlerin köşelerine radüs atma komutu aşağıdakilerden hangisidir?
a) Edit text b) Chamfer **c) Filet** d) Circle

123. Verilen noktalardan geçen bir spiral şeklinde eğriler oluşturmak amacıyla kullanılan komut hangisidir?
a) Spline b) Arc c) Yay d) Trace

124. Doğrusal veya dairesel çoğaltma işlemini gerçekleştiren komut hangisidir?
a) Change **b) Array** c) Polyline d) Circle

125. Yapılan tasarımlarda tek ya da çok satırlı yazı yazma komutu hangisidir?
a) Angle b) Dedit **c) Text** d) Metin

126. Perspektif çizim yapabilmemiz için Drafting Settings tablosundan hangisini seçmeliyiz?
a) Grid Snap b) Rectengular Snap **c) Isometric Snap** d) Polar Snap

127. Herhangi bir üçgenin içinde, kenarlarına teğet olacak şekilde tek bir çember çizmek için Draw menüsünün Circle komutunda hangi seçenek uygulanır?
a) 3 points **b) Tan, Tan, Tan** c) Tan, Tan, Radius d) 2 points

128. Çıktı alma komutu olan Plot hangi araç kutusundadır ?
a) Standart toolbar b) Properties toolbar c) Draw toolbar d) Modify toolbar

129. Çizilen şekilleri çizim ekranında sağa-sola, yukarı-aşağı sürüklemeyi sağlayan komut hangisidir?
a) Move b) Offset **c) Pan** d) Array

130. Birbirini kesmeyen ya da temas etmeyen doğru parçalarını uzatarak kesişmesini sağlayan komut hangisidir?

“ DOĞRU TERCİHLER SİZİ ÇÖZÜME GÖTÜRÜR “

Bizi Tercih Ettiğiniz İçin Teşekkür Ederiz, Tüm Kursiyerlerimize Sınavlarında Başarılar Dileriz..

İLETİŞİM : 0(258) 265 57 52 - 241 75 15 - 0530 565 95 60 – 532 168 41 11

www.cozumkariver.com

142. Çokgen çizmek için kullandığımız Draw menüsü komutu nedir?

- a) Polyline b) **Polygon** c) Offset d)
Rectenqular

143. İzometrik izdüşümü elde etmek için cismin iki kenarı yatayla kaç derecelik eşit açı yapacak şekilde düzlem ölçüsüne yerleştirilir?

- a) **30 derece** b) 60 derece c) 45 derece d) 20
derece

144. İzometrik ölçülendirme yapabilmek için araç çubuğundan hangi seçenek tercih edilir?

- a) Angular Dimension b) Ordinate Dimension c) **Aligned Dimension** d)
Quick Dimension

145. Değişik tip ve özellikte yazı yazmamız amacıyla kullanılan komut hangisidir?

- a) Print b) **Text** c) Plot d)
Drawing

146. Dimension menüsü içerisinde bulunan komutlar hangi amaç için kullanılırlar?

- a) Düzenleme b) Çizim yapma c) Yazma d)
Ölçülendirme

147. Modiyf menüsü içerisinde bulunan komutlar hangi amaç için kullanılırlar?

- a) **Düzenleme** b) Çizim yapma c) Yazma d)
Ölçülendirme

148. Çizgi kalınlıklarını değiştiren komut hangisidir?

- a) Length b) Linetype c) **Lineweight** d) Ltscale

149. Autocad'de daire çizmemizi sağlayan komut aşağıdakilerden hangisidir?

- a) **Circle** b) trim c) line d)
polygon

150. Autocad'de yay çizmemizi sağlayan komut aşağıdakilerden hangisidir?

- a) Circle b) trim c) **arc** d)
polygon

151. Autocad'de filet komutun kısa yazılımı aşağıdakilerden hangisidir?

- a) **tr** b) m c) l d)
pl

152. Autocad'de array komutun kısa yazılımı aşağıdakilerden hangisidir?

- a) aa b) ay c) **ya** d)
ar

“ DOĞRU TERCİHLER SİZİ ÇÖZÜME GÖTÜRÜR “

Bizi Tercih Ettiğiniz İçin Teşekkür Ederiz, Tüm Kursiyerlerimize Sınavlarında Başarılar Dileriz..

İLETİŞİM : 0(258) 265 57 52 - 241 75 15 - 0530 565 95 60 – 532 168 41 11

www.cozumkariver.com

153. Autocad'de mirror komutun kısa yazılımı aşağıdakilerden hangisidir?

- a) mm
mr
b) m
c) **mi**
d)

154. Autocad'de paht kırma işlemini gerçekleştiren komut aşağıdakilerden hangisidir?

- a) Circle
polygon
b) **chamfer**
c) line
d)

155. Autocad'de çizimi döndürme sağlayan komut aşağıdakilerden hangisidir?

- a) Circle
polygon
b) trim
c) **rotate**
d)

156. Autocad'de yazı yazmamızı sağlayan komut aşağıdakilerden hangisidir?

- a) **Text**
Erase
b) text style
c) hatch
d)

157. Autocad'de nokta şekillerinin ayarı nereden yapılır?

- a) format-text style
linetype
b) format- Multiline
c) format-
d) **format-point style**

158. Erase komutu autocad'de aşağıdakilerden hangisi yapmaktadır?

- a) **obje silme**
çizgi çizme
b) radus çizme
c) daire çizme
d)

159. Pah kırma komutu olan chamfer komuta girildikten sonra nasıl kullanılır ?

- a) Objeye seç ? D ? mesafe yazılır ? çizgiler tıklanır
b) D ? tr ? mesafe yazılır ? çizgiler tıklanır
c) **D ? 1 mesafe yazılır ? ikinci mesafe yazılır ? çizgiler sırayla tıklanır**
d) D ? mesafe yazılır ? çizgiler tıklanır

160. Array komutunda dikdörtgensel çoğaltma yapmak için komuta girildikten sonra neler yapılmalıdır?

- a) R ? sütun sayısı ? satır sayısı ? sütun aralığı ? satır aralığı
b) R ? satır sayısı ? sütun sayısı ? satır aralığı ? sütun aralığı
c) Objeye seç ? R ? satır sayısı ? sütun sayısı ? satır aralığı ? sütun aralığı
d) **Objeye seç ? R ? sütun sayısı ? satır sayısı ? sütun aralığı ? satır aralığı**

161. Line, circle, arc gibi çizgileri istenilen sayı kadar bölmeyi sağlayan komut aşağıdakilerden hangisidir?

- a) erase
line
b) **divide**
c) measure
d)

162. Çizilmiş olan parçayı hem döndürebildiğimiz hem de tersini yansıtabildiğimiz komut nedir?

“ DOĞRU TERCİHLER SİZİ ÇÖZÜME GÖTÜRÜR “

Bizi Tercih Ettiğiniz İçin Teşekkür Ederiz, Tüm Kursiyerlerimize Sınavlarınızda Başarılar Dileriz..

İLETİŞİM : 0(258) 265 57 52 - 241 75 15 - 0530 565 95 60 – 532 168 41 11

www.cozumkariver.com

- a) rotate
mirror
- b) array
d) region
- c)

163. Çizilmiş olan bir parçayı block yapmak için aşağıdakilerden hangi komut kullanılır?

- a) **insert block**
- b) paste
d) copy with base point
- c)

164. Line, circle, arc gibi çizgileri eşit aralıklarla bölmeyi sağlayan komut aşağıdakilerden hangisidir?

- a) break
divide
- b)
c) measure
- d) line

165. Block olan objeleri rectangle, polygon gibi ya da yazı veya ölçülendirmeleri parçalayarak block halinden çıkartan komut aşağıdakilerden hangisidir?

- a) region
explode
- b) extend
d) extrude
- c)

166. Autocad'de çizgileri birbirinden koparılmasını sağlayan komut aşağıdakilerden hangisidir?

- a) Extend
trim
- b) union
d) hatch
- c)

167. Yakalama modlarından (O Snap) çizginin dikine yakalamayı sağlayan yardımcı mod aşağıdakilerden hangisidir?

- a) insert
Nearest
- b) **Perpendicular**
- c)
- d) Node

168. Seçilmiş olan objeyi bütün özelliğiyle aynı nitelikteki başka bir objeye aktararak değiştiren komut aşağıdakilerden hangisidir?

- a) properties
text
- b) **match propeties**
- c) edit
- d) measure

169. Yakalama modlarından node ne işe yarar?

- a) dikine yakalar
yakalar
- b) paralel yakalar
d) teğet yakalar
- c) **nokta**

170. Autocad' de tarama yapmamızı sağlayan komut aşağıdakilerden hangisidir?

- a) text
d) line
- b) **hatch**
- c) region

171. Autocad' deki copy komutunu kullanırken kopyalamayı tekrar etmek için ne yapmak gerekir?

“ DOĞRU TERCİHLER SİZİ ÇÖZÜME GÖTÜRÜR “

Bizi Tercih Ettiğiniz İçin Teşekkür Ederiz, Tüm Kursiyerlerimize Sınavlarında Başarılar Dileriz..

İLETİŞİM : 0(258) 265 57 52 - 241 75 15 - 0530 565 95 60 – 532 168 41 11

www.cozumkariver.com

a) Multiple b) choice c) erase d)
hiçbir şey gerekmez

172. Belirli bir mesafe girerek çizgileri ötelemeye yarayan komut aşağıdakilerden hangisidir?

a) line b) **ofset** c) move d)
polyline

173. Autocad'deki donut (çift daire içini boyayarak çizen) komutu hangi menü içerisinde yer almaktadır?

a) format menüsünde b) **draw menüsünde** c) modify
menüsünde d) dimension menüsünde

174. Autocad' de Ucs ne işe yarar?

a) Sadece orjindir b) **Orjindir ve kullanıcı koordinat sistemidir**
c) Çizgileri siler d) hiç bir işe yaramaz

175. Dosyamın aynısını başka bir adla kopyaladığım komut aşağıdakilerden hangisidir?

a) copy to b) copy c) save d) **save as**
clipboard

176. Çalışılan sayfa içinde çizimleri başka bir dosyaya aktarabildiğim komut aşağıdakilerden hangisidir?

a) inset block b) **make block** c) save as d)
match properties

177. Çizilmiş olan parçayı çekiştirerek üzerinde değişiklik yapmamayı sağlayan komut aşağıdakilerden hangisidir?

a) **stretch** b) scale c) spline d)
sallama

178. Çizilen bir objeyi 5 kat büyültmek istenildiğinde ne yapılmalıdır?

a) **scale' den 5/1** b) stretch' den 5/1 c) scale' den
1/5 d) stretch' den 5/1

179. Çizilen bir objeyi 5 kat küçültmek istenildiğinde ne yapılmalıdır?

a) scale' den 5/1 b) stretch' den 5/1 c) **scale' den**
1/5 d) stretch' den 5/1

180. Autocad' de objeleri istenilen ölçüde büyütme veyahutta küçültme sağlayan komut aşağıdakilerden hangisidir?

a) mirror b) **scale** c) donut d) r

“ DOĞRU TERCİHLER SİZİ ÇÖZÜME GÖTÜRÜR “

Bizi Tercih Ettiğiniz İçin Teşekkür Ederiz, Tüm Kursiyerlerimize Sınavlarında Başarılar Dileriz..

İLETİŞİM : 0(258) 265 57 52 - 241 75 15 - 0530 565 95 60 – 532 168 41 11

www.cozumkariver.com

otate

181. Autocad' deki sivri köşeleri radüs atma komutu aşağıdakilerden hangisidir?

- a) edit text **b) filet** c) chamfer d) circle

182. Dimension style menüsü autocad'de ne işe yarar ?

- a) Ölçülendirme yapılır karakterleri Yaratılır b) Ölçülendirme ayarı ve yeni ölçülendirme c) Sadece ölçülendirme ayarı yapılır **d) Dimension menüsünü açmaya yarar**

183. Çizilen şekilleri çizim alanında sağ sola, yukarı-aşağı sürüklemeyi sağlayan komut hangisidir?

- a) move ofset **c) pan** b) d) array

184. Çizilen tüm resimleri ekranda görmemi sağlayan zoom komutu klavyeden nasıl kullanılır?

- a) Zoom-dynamic **A** b) Zoom-v **c) Zoom-** d) Zoom- P

185. Çıktı alma komutu olan plot hangi araç kutusundadır ?

- a) standart toolbar** b) properties toolbar c) draw toolbar d) modify toolbar

186. Autocad' de çizgileri birbirine uzatılmasını sağlayan komut aşağıdakilerden hangisidir ?

- a) extend** b) break c) break at d) spline

187. Autocad' de üçgen, beşgen gibi çokgenleri çizmemizi sağlayan komut aşağıdakilerden hangisidir?

- a) polyline move **b) polygon** c) multiline d)

188. Bir objenin bütün özelliklerini tanımlayan komut aşağıdakilerden hangisidir?

- a) match properties style **c) properties** b) dimension d) insert

189. Autocad' de çizilmiş bir şekli geri alarak eskiye dönmeyi sağlayan komut aşağıdakilerden hangisidir?

- a) redo plot **c) undo** b) d) öyle bir komut yok

“ DOĞRU TERCİHLER SİZİ ÇÖZÜME GÖTÜRÜR “

Bizi Tercih Ettiğiniz İçin Teşekkür Ederiz, Tüm Kursiyerlerimize Sınavlarında Başarılar Dileriz..

İLETİŞİM : 0(258) 265 57 52 - 241 75 15 - 0530 565 95 60 – 532 168 41 11

www.cozumkariver.com

190. Perspektiflerden görünüş çıkarırken önce hangi görünüş çizilir?
a) Ön Arka b) Üst c) Yan d)
191. Gerçek ölçek'te, Ölçek diye belirtilir.
a) 1:2 b) 2:1 c) 1:1 d) 1:4
192. Perspektiflerden görünüş çıkarırken görünmeyen çevre ve kenarların çiziminde hangi çizgi kullanılır?
a) Sürekli ince çizgi b) Sürekli kalın çizgi c) Kesik orta çizgi d) Noktalı ince çizgi
193. Ölçülendirme yapılırken, ölçü çizgisi görünüşten yaklaşık ne kadar uzaklıkta bulunmalıdır?
a) 1-3mm b) 7-10mm. c) 15-18mm. d) 18-20mm.
194. Bir cismin bir düzlem üzerine çizilmiş şekli, Bir cismin bir düzleme düşen görüntüsü. Güneşli bir günde yürürken yerde oluşan gölgemiz, Sinemada perdeye düşen görüntü, Yukarıdaki olaylarda elde edilen görüntülere ne denir'?
a) Şekil b) Resim c) Perspektif d) İz düşüm
195. Aşağıdakilerden hangisi yaptığınız çizimin çıktısını almak için print ayarlarını gösteren diyalog sayfası adıdır'?
a) Paper b) Plot c) Layout d) Setting
196. Aşağıdakilerden hangisi yaptığımız çizimlerin pencereye göre çıktı almanızı sağlayan seçenektir?
a) Partial Previewv b) Full Previewv c) Window d) Plot Extents
197. Aşağıdakilerden hangisi yaptığımız çizimlerin çıktı almadan önce nasıl görüneceğini gösteren seçenektir?
a) Partial Previewv b) Full Previewv c) Windowv d) Plot device

“ DOĞRU TERCİHLER SİZİ ÇÖZÜME GÖTÜRÜR “

Bizi Tercih Ettiğiniz İçin Teşekkür Ederiz, Tüm Kursiyerlerimize Sınavlarında Başarılar Dileriz..

İLETİŞİM : 0 (258) 265 57 52 - 241 75 15 - 0530 565 95 60 – 532 168 41 11

www.cozumkariver.com

198. Aşağıdakilerden hangisi yaptığımız çizimlerin boyutlarına bakmadan ekrana tam olarak yayar ?

- a) Full b) Splay c) Limits **d) Extents**

199. Aşağıdakilerden hangisi kağıt üzerine aktarılacak çizimlerin ölçeğini gösteren seçenektir?

- a) Plot scale** b) Change OScale c) Properties d) Extents

200. Aşağıdakilerden hangisi yazdırılacak doğru yazıcı seçeneğidir.

- a) Plot to file **b) Plot Device** c) Properties d) Page setup

201. Aşağıdakilerden hangisi ölçülendirme araç çubuğudur?

- a) Surfaces **b) Dimension** c) Object Snap d) Modify

202. Aşağıdakilerden hangisi merkez işareti koymak için kullanılan komuttur?

- a) Dimcenter** b) Dimcontinue c) Dimdiameter d) Dimradius

203. Aşağıdakilerden hangisi sürekli ölçülendirme yapan komuttur?

- a) Dimdiameter **b) Dimcontinue** c) Dimcenter d) Dimedit

204. Aşağıdakilerden hangisi ölçülendirme yazı menüsüne girmek için kullanılır?

- a) Lines and Aitows b) Primary Units c) **Text** d) Tolerance

205. Aşağıdakilerden hangisi AutoCAD ekranına yazı eklemek için kullanılır?

- a) Text **b) Mtext** c) Dimtext d) Textstyle

206. Aşağıdakilerden hangisi yazılara sembol eklemek için kullanılan komuttur?

- a) Textsymbol b) Align **c) Symbol** d) Character

“ DOĞRU TERCİHLER SİZİ ÇÖZÜME GÖTÜRÜR “

Bizi Tercih Ettiğiniz İçin Teşekkür Ederiz, Tüm Kursiyerlerimize Sınavlarında Başarılar Dileriz..

İLETİŞİM : 0 (258) 265 57 52 - 241 75 15 - 0530 565 95 60 – 532 168 41 11

www.cozumkariver.com

207. Aşağıdakilerden hangisi daha önceden yazılmış yazının özelliklerini değiştirmek için kullanılır ?
a) Dimtext Import Text b) **Text properties** c) Multiline Text Editör d)

208. Antedi oluşturulmuş bir çizim kağıdı farklı kaydet(save as) seçeneği ile kaydedilerek nasıl bir fayda sağlanır?
a) Antede daha doğru bilgiler yazılır. b) Görünüşler daha rahat çıkartılır.
c) **Her çizim için antet oluşturma gerekmez.** d) Ölçülendirme rahat yapılır.

209. Aşağıdaki durumların hangisinde "array" komutunun kullanılması uygun olur?
a) Bir çizimin simetrisinin oluşturulması, **b) Bir objeyi belirli sayıda çoğaltma**
c) Bir çizgiyi budama. d) Bir bloğu çizime çoklu olarak ekleme.

210. Bir objenin özelliklerini başka bir objeye aktarmak için hangi komut kullanılır?
a) Copy **matchprop** b) ofset c) trim d)

211. Tarama işlemi aşağıdaki komutlardan hangisi ile yapılır?
a) Chamfer b) ofset c) **hatch** d) trim

212. Çizimin bir bölgesini seçerek belirleyerek çıktı alma işlemi aşağıdakilerden hangisi ile gerçekleştirilir?
a) Plot arca/ limits b) **Plot area/window** c) Plot area/extents d) Plot arca/ display

213. Yeni bir dosya açmak için hangi komut kullanılır?
a) Open **b) New** c) Save d)
Plot

214. Bir dosyayı değişik isimle kaydetmek için hangi komut kullanılır?
a) Save as Exit b) Plot c) Save d)
215. Programdan çıkmak için hangi komut kullanılır'?
a) Close Save b) Page sttıp c) Exit d)
216. Line komutunun işlevi aşağıdakilerden hangisidir?
a) Çizgi Çokgen b) Yay c) Çember d)
217. 2 Boyutlu çizimde kullanılmayan eksen aşağıdakilerden hangisidir?
a) WC Z b) X c) Y d)
218. Çizimde 300 derece ile -60 derece aynıdır?
a) Hiçbir zaman Durumlarda b) Hayır d) Evet c) Bazı
219. Aşağıdakilerden hangisi Print komutunun çalıştırılması için kullanılamaz?
a) Alt+P - Tuş kombinasyonu b) Ctrl+P - Tuş kombinasyonu
c) Komut satırından – Print d) Komut satırından – PLOT
220. Aşağıdakilerden hangisi Undo komutunun tuş kombinasyonudur?
a) Alt+Z Alt+U b) Ctrl+U c) Ctrl+Z d)
221. 270 derecelik bir çizgi hangi yöne çizilir?
a) Sola Sağa b) Yukarı c) Aşağı d)

“ DOĞRU TERCİHLER SİZİ ÇÖZÜME GÖTÜRÜR “

Bizi Tercih Ettiğiniz İçin Teşekkür Ederiz, Tüm Kursiyerlerimize Sınavlarında Başarılar Dileriz..

İLETİŞİM : 0(258) 265 57 52 - 241 75 15 - 0530 565 95 60 – 532 168 41 11

www.cozumkariver.com

222. Çemberler kaç adet yakalama (snap) noktasına sahiptir?

- a) 5
b) 2
c) 3
d) 4

223. Aşağıdakilerden hangisi mavi kareler için kullanılan doğru terimdir?

- a) Grips
b) Mavi Kareler
c) Grabbers
d) Seçim İşareti

224. Aşağıdakilerden hangisi kayıt etme komutudur?

- a) Alt+s
b) Ctrl+a
c) Ctrl+s
d) Alt+v

225. Aşağıdakilerden hangisi ekrandaki tüm çizimleri seçme komutudur?

- a) Alt+a
b) Ctrl+a
c) Ctrl+v
d) Alt+c

226. Aşağıdakilerden hangisi tarama komutunun kısa yazılışdır?

- a) h
b) b
c) e
d) f

227. Aşağıdakilerden hangisi silme komutunun kısa yazılışdır?

- a) c
b) b
c) e
d) f

228. Aşağıdakilerden hangisi tr kısa yazılışın tamamıdır?

- a) copy
b) erase
c) trim
d) file

229. Aşağıdakilerden hangisi properties komutunun kısa yazılışdır?

- a) Pr
b) Pe
c) Po
d) Ps

“ DOĞRU TERCİHLER SİZİ ÇÖZÜME GÖTÜRÜR “

Bizi Tercih Ettiğiniz İçin Teşekkür Ederiz, Tüm Kursiyerlerimize Sınavlarında Başarılar Dileriz..

İLETİŞİM : 0 (258) 265 57 52 - 241 75 15 - 0530 565 95 60 – 532 168 41 11

www.cozumkariver.com

230. **divide** ne demektir?

- a) parçala
ayarla
- b) sil
- c) böl
- d)

231. **measure** ne demektir?

- a) yardım
taşı
- b) ölç
- c) böl
- d)

232. **Point** ne demektir?

- a) nokta
pencere
- b) virgül
- c) copyalama
- d)

233. **plot** ne demektir?

- a) nokta
ekran
- b) virgül
- c) çizdirmek
- d)

234. Aşağıdakilerden hangisi yaptığınız çalışmayı kaydetmek için kullanılan komuttur?

- a) File
Move
- b) Save
- c) Trim
- d)

235. Aşağıdakilerden hangisi çizgi çizmek için kullanılan komuttur?

- a) Save as
Hatch
- b) Rectangle
d) line
- c)

236. Aşağıdakilerden hangisi yay çizmek için kullanılan komuttur?

- a) Mirror
Trim
- b) Grid
- c) Arc
- d)

237. Aşağıdakilerden hangisi standart araç çubuğunda bulunmaz?

- a) format
advance setup
- b) tools
- c) dimension
- d)

238-Render'da gölge oluşturabilmek için aşağıdakilerden hangisi kullanılmalıdır?

“ DOĞRU TERCİHLER SİZİ ÇÖZÜME GÖTÜRÜR “

Bizi Tercih Ettiğiniz İçin Teşekkür Ederiz, Tüm Kursiyerlerimize Sınavlarında Başarılar Dileriz..

İLETİŞİM : 0(258) 265 57 52 - 241 75 15 - 0530 565 95 60 – 532 168 41 11

www.cozumkariver.com

a)Material **b)Light** c)Background d)Fog

239-AutoCad'te kağıda çıktı almak için hangi komut kullanılır?

a)Plot b)Preview c)Publish d)Layout

240)Toolbar'lar aşağıdakilerden hangisi ile açılabilir?

a)View-Toolbars

b)View-Display

c)View-Zoom

d)View-Regen

241-Aşağıdaki shade modlarından hangisi cismi gölgelendirilmiş dolu obje olarak gösterir?

a)2D wireframe b)3D wireframe c)Hidden **d)Flat Shaded**

242-Aşağıdaki zoom'lardan hangisi eşzamanlı büyültme-küçültme yapar?

a)Pan **b)Realtime** c)Previous d)Window

243-Tolerans simgesi hangi konu ile ilgilidir?

a)Design Center b)Insert **c)Dimension** d)Editing

244-Alan,hacim ve koordinat bilgilerini veren komutlar hangi toolbar içinde bulunur?

a)Dimension b)Shade c)Modify **d)Inquiry**

245-Aşağıdaki komutlardan hangisini kullanarak, seçili iki boyutlu cismi belli bir yönde sündürebiliriz?

a)Scale **b)Stretch** c)Extend d)Measure

246-Chamfer komutunun görevi nedir?

a)İki çizgi yuvarlatılarak birleştirilir

“ DOĞRU TERCİHLER SİZİ ÇÖZÜME GÖTÜRÜR “

Bizi Tercih Ettiğiniz İçin Teşekkür Ederiz, Tüm Kursiyerlerimize Sınavlarında Başarılar Dileriz..

İLETİŞİM : 0(258) 265 57 52 - 241 75 15 - 0530 565 95 60 – 532 168 41 11

www.cozumkariver.com

b)Objelerin boyutunu büyütüp,küçültür

c)Köşelerden pah kırma işlemini yapar

d)Objeleri döndürmek için kullanılır

247-Aşağıdaki komutlardan hangisi Lengthen komutunda çizgi uzatma yöntemlerinden biri değildir?

a)Delta b)Dynamic c)Percent d)Extend

248-İstenilen objeyi (çizgi,yay vb.) belirlediğimiz sayıda nokta veya blok kullanarak eşit aralıklarla işaretlemeyi sağlayan komut aşağıdakilerden hangisidir?

a)Divide b)Measure c)Array d)Hepsi

249-Ölçülendirmede yazının altında kalan çizgiye ne ad verilir?

a)Dimension Line b)Extension Line c)Baseline d)Leader

250-Ölçülendirmedeki ok başlarına ne ad verilir?

a)Leader b)Arrow Head c)Mark d)Fit

251-Boundary komutunun kısayolu nedir?

a)bo b)b c)ob d)bou

252-Alan ölçme komutu olan Area'nın kısayolu nedir?

a)aa b)ar c)a d)are

253-Komut iptali yapan kısayol tuşu hangisidir?

a)Mouse sağ tuş b)Space c)Esc d)Tab

254-Belirlenen açılarda imlecin takılarak çizim yapmasını sağlayan komut (koordinat sistemi) hangisidir?

a)Orthogonal b)Polar c)İzometrik d)Layout

“ DOĞRU TERCİHLER SİZİ ÇÖZÜME GÖTÜRÜR “

Bizi Tercih Ettiğiniz İçin Teşekkür Ederiz, Tüm Kursiyerlerimize Sınavlarında Başarılar Dileriz..

İLETİŞİM : 0(258)265 57 52 - 241 75 15 - 0530 565 95 60 – 532 168 41 11

www.cozumkariver.com

255-Oran belirterek büyütüp,küçültme yapabildiğimiz zoom hangisidir?

- a)Pan b)Window **c)Scale** d)Extent

256-Merkezle büyüklüğü kontrol edilebilen bir dörtgenle yaklaşma yapabilen zoom hangisidir?

- a)Extent **b)Window** c)Dynamic d)Center

257-Aşağıdakilerden hangisi 3D.....boşluğuna koyularak bir komut oluşturmaz?

- a)Mirror b)Array c)Rotate **d)Stretch**

258-Aşağıdakilerden hangisi Osnap Setting’de mevcuttur?

- a)Vertex **b)Perpendicular** c)Pivot d)Face

259-Hangisiyle bir merkez etrafında kopyalama yapılır?

- a)Copy b)3D Array **c)Array** d)Align

260-Ölçülendirmede hedef noktaya doğru uzanan çizgilerin adı nedir?

- a)Extension Line** b)Arrow Head c)Quick Leader d)Extend Beyond

261-Aşağıdakilerden hangisi block çağırma metodu değildir?

- a)Insert b)Desing Center c)Tool Paletes **d)Mirror**

262-Aşağıdakilerden hangisi AutoCad’in çıkış verdiği dosya formatlarından değildir?

- a).dwg b).dxf c).jpeg **d).avi**

263-Bir çizim nesnesinin özelliklerini başka bir çizim nesnesine kopyalayan komut hangisidir?

- a)Change **b)Match Properties** c)Quick Select d)Design Center

“ DOĞRU TERCİHLER SİZİ ÇÖZÜME GÖTÜRÜR “

Bizi Tercih Ettiğiniz İçin Teşekkür Ederiz, Tüm Kursiyerlerimize Sınavlarında Başarılar Dileriz..

İLETİŞİM : 0(258) 265 57 52 - 241 75 15 - 0530 565 95 60 – 532 168 41 11

www.cozumkariver.com

264-Aşağıdakilerden hangisi nesne özellikleri ile ilgili bir komut değildir?

- a) Change b)Match Proparties c)Proparties d)Arc

265-“Edge” in karşılığı nedir?

- a)Kesmek b)Seçmek c)Kenar d)Nesne

266-“Boundary” in karşılığı nedir?

- a)Sınır b)Uzatmak c)Budamak d)Patlatmak

267-Herhangi bir resmi çizim alanına nasıl getiririz?

- a)Insert b)Copy c)Raster İmage d)Block

268-Herhangi kapalı bir alanı hangi komutla tararız?

- a)Extrude b)Hatch c)Region d)Wipeout

269-Katı modellemede Fillet komutunda, zincir şeklinde teğetsel çizgileri aynı anda hangi seçenikle yapabiliriz?

- a)Chain b)Shift c)Edge d)Radius

270-Hangi iki komut birbirine shift tuşuyla geçiş yapabilir?

- a)Trim / Extend b)Copy / Move c)Trim / Stretch d)Trim / Scale

271-Layer’de hangisi yoktur?

- a)Render b)Kilitleme c)Çizgi kalınlığı d)Çizgi tipi

272- Multi-line komutu ile 4 adet paralel çizgiyi aynı anda çizmek için aşağıdakilerden hangisi ile bir düzenleme yapılır?

“ DOĞRU TERCİHLER SİZİ ÇÖZÜME GÖTÜRÜR “

Bizi Tercih Ettiğiniz İçin Teşekkür Ederiz, Tüm Kursiyerlerimize Sınavlarında Başarılar Dileriz..

İLETİŞİM : 0(258) 265 57 52 - 241 75 15 - 0530 565 95 60 – 532 168 41 11

www.cozumkariver.com

a) Multiple Point

b) Multi-line style

c) Text Style

d) Help

273-AutoCAD'de stiller ve biçimler oluşturmayı ve yönetmeyi sağlayan komutlar hangi menü altında toplanmıştır?

a) Draw

b) Dimension

c) File

d) Format

274- AutoCAD'e dair aşağıdakilerden hangisi doğrudur?

a) AutoCAD ile çizim dosyalarının içine müzik eklemek mümkündür.

b) AutoCAD resim dosyalarına rötüş ve montaj programıdır.

c) AutoCAD vektörel bir çizim programıdır.

d) AutoCAD film dosyaları üzerinde oynamalar yapar.

275- Fence'e dair aşağıdakilerden hangisi doğrudur?

a) Bir obje seçim aracıdır.

b) Çizim komutudur.

c) Hiç bir komutun içinde değilken de çalışır.

d) Ölçülendirme aracıdır.

“ DOĞRU TERCİHLER SİZİ ÇÖZÜME GÖTÜRÜR “

Bizi Tercih Ettiğiniz İçin Teşekkür Ederiz, Tüm Kursiyerlerimize Sınavlarında Başarılar Dileriz..

İLETİŞİM : 0(258) 265 57 52 - 241 75 15 - 0530 565 95 60 – 532 168 41 11

www.cozumkariver.com

276- View > Render > Fog komutu aşağıdakilerden hangisini yapar?

- a) Sahneyi görselleştirir.
- b) Sahne görselleştirmesine sis efekti ekler.**
- c) Sahnedeki çizimlere malzeme ataması yapar.
- d) Sahne aydınlatması yapar.

277- Redo komutu aşağıdakilerden hangisini yapar?

- a) Son geri alınan işlemi tekrar ileri alır.**
- b) Geri alma işlemi yapar.
- c) Kopyalama işlemi yapar.
- d) Sahne görüntüsünü yana kaydırır.

278-Trim komutu aşağıdakilerden hangisine uygulanamaz?

- a)Line
- b)Arc
- c)Pline
- d)Face**

279-Extend komutu ne yapar?

- a)Uzatma**
- b)Budama
- c)Silme
- d)Yükseltme

300-Bir cismin simetrisini almak için hangi komut uygulanır?

- a)Copy
- b)Mirror**
- c)Move
- d)Blok

301-Yeni bir cisim oluşturan üretim komutları hangi menü altındadır?

- a)Tools
- b)Draw**
- c)Modify
- d)Format

“ DOĞRU TERCİHLER SİZİ ÇÖZÜME GÖTÜRÜR “

Bizi Tercih Ettiğiniz İçin Teşekkür Ederiz, Tüm Kursiyerlerimize Sınavlarında Başarılar Dileriz..

İLETİŞİM : 0(258) 265 57 52 - 241 75 15 - 0530 565 95 60 – 532 168 41 11

www.cozumkariver.com

302-Düzenleme komutları hangi menüdedir?

- a)View b)Tools **c)Format** d)Modify

303-Autocad’de dosya seçim kullanıcı tercihleri gibi seçeneklerin ayarlandığı komut hangisidir?

- a)Chage b)Proporties **c)Option** d)İnsert

304-Circle komutunun kısa yolu hangisidir?

- a)c b)co **c)ci** d)Cr

305-Aşağıdakilerden hangisi (enter)’in yerini görmez?

- a)Sol tuş** b)Sağ tuş c)Space bar d)Hiçbiri

306-Hangisi hepsi anlamına gelir?

- a)Select b)None c)Object **d)All**

307-Hangisi açılı anlamına gelir?

- a)Scale b)Rotate c)Base **d)Angle**

308-“Edge” in karşılığı nedir?

- a)Kesmek b)Seçmek **c)Kenar** d)Nesne

309-“Boundary” in karşılığı nedir?

- a)Sınır** b)Uzatmak c)Budamak d)Patlatmak

310-Hangisiyle bir merkez etrafında dairesel kopyalama yapılır?

“ DOĞRU TERCİHLER SİZİ ÇÖZÜME GÖTÜRÜR “

Bizi Tercih Ettiğiniz İçin Teşekkür Ederiz, Tüm Kursiyerlerimize Sınavlarında Başarılar Dileriz..

İLETİŞİM : 0(258) 265 57 52 - 241 75 15 - 0530 565 95 60 – 532 168 41 11

www.cozumkariver.com

- a)Copy b)Move **c)Array** d)Align

AutoCAD2007 Test Soruları

311. Aşağıdaki komutlardan hangisi daire, yay, elips, elips yayın ve spline çizgilerinin bozulmuş, köşeli görüldüğü durumlarda görüntüyü eski haline getirmek için kullanılır?

- a) **Regen**
b) Purge
c) Limits
d) Units

312. AutoCAD’te ışıklandırma işlemleri hangi araç çubuğu üzerin gerçekleştirilir?

- a) Render
b) Web
c) **Lights**
d) Visual Styles

313. Aşağıdaki komutlardan hangisi hem iki hem üç boyutlu çizimler üzerinde kullanılabilir?

- a) Rotate
b) Extrude Faces
c) Subtract
d) Box

314. Seçilen objeleri belirli bir referans noktasına göre, istenilen açıda döndürülmesini sağlayan komut aşağıdakilerden hangisidir?

- a) Move
b) **Rotate**
c) Insert Block
d) Align

315. Üç boyutlu çizimlerde arkada kalan bölümlerin görünmemesi için kullanılan komut hangisidir?

- a) 2D Wireframe
b) LWT
c) UCS
d) **3D Hidden**

316. Çizgi tipi ayarlarının yapılmasında kullanılan komut hangisidir?

“ DOĞRU TERCİHLER SİZİ ÇÖZÜME GÖTÜRÜR “

Bizi Tercih Ettiğiniz İçin Teşekkür Ederiz, Tüm Kursiyerlerimize Sınavlarında Başarılar Dileriz..

İLETİŞİM : 0(258) 265 57 52 - 241 75 15 - 0530 565 95 60 – 532 168 41 11

www.cozumkariver.com

- a) Text
- b) Type
- c) Linetype
- d) Line

317. İki yada daha fazla katı modeli birleştirmek amacıyla kullanılan Solids Editing menüsü komutu hangisidir?

- a) Union
- b) Pedit
- c) Align
- d) Presspull



318. Yandaki komut için aşağıdakilerden hangisi söylenemez?

- a) İki boyutlu çizimlerde kullanılabilir
- b) Üç boyutlu katı objelerde kullanılabilir
- c) Köşe yuvarlatmak amacıyla kullanılır
- d) 3 boyutlu katı objelerde kesinlikle kullanılamaz

319. Aşağıdakilerden hangisi Print komutunun çalıştırılması için kullanılamaz?

- a) Alt+Z - Tuş kombinasyonu
- b) Ctrl+P - Tuş kombinasyonu
- c) Komut satırından – Print
- d) Komut satırından – Plot

320. Aşağıdakilerden hangisi ekrandaki tüm çizimleri seçmeye yarayan tuş kombinasyonudur?

- a) Alt+A
- b) Ctrl+A
- c) Ctrl+V
- d) Alt+C

321. Point ne demektir?

- a) Nokta
- b) Kesişim
- c) Köşe
- d) Daire

“ DOĞRU TERCİHLER SİZİ ÇÖZÜME GÖTÜRÜR “

Bizi Tercih Ettiğiniz İçin Teşekkür Ederiz, Tüm Kursiyerlerimize Sınavlarında Başarılar Dileriz..

İLETİŞİM : 0(258) 265 57 52 - 241 75 15 - 0530 565 95 60 – 532 168 41 11

www.cozumkariver.com

322. AutoCAD içerisinde yer alan CAD hangi anlama gelmektedir?

- a) Bilgisayar destekli tablo oluşturma programı
- b) Bilgisayar destekli statik çizimi
- c) Bilgisayar destekli üretim
- d) Bilgisayar destekli tasarım

323. Aşağıdakilerden hangisi araç çubukları için söylenemez?

- a) Ekranda yüzer halde bulunabilirler
- b) İstenildiğinde kapatılabilirler
- c) Yerleri her zaman aynıdır ve değiştirilemezler
- d) Herhangi bir araç çubuğuna fare ile sağ tıklanarak kapalı çubuklar açılabilirler



324. Soldaki resimde görünen komut simgeleri hangi araç çubuğunda yer alırlar?

- a) Solid Editing
- b) Render
- c) Modify
- d) Draw



325. Export komutu hangi amaçla kullanılır?

- a) Başka programlardan çizim almak için
- b) Çizimleri uzatmak için
- c) "Z" ekseninde katılık vererek üç boyutlu nesne oluşturmak için
- d) Başka programlara ait dosya formatları oluşturmak için

326. Quick Select komutu ne işe yarar?

- a) Farklı çizgilerin ortak bir özelliğini kullanarak hepsini bir seferde seçmek için
- b) Hızlı ölçülendirme yapmak için
- c) Hızlı silindirler çizmek için
- d) Line ve arclardan oluşan çizgileri polyline hale getirmek için

327. Aşağıdakilerden hangisi Ctrl+X tuş kombinasyonunun yaptığı görevi yerine getirir?



- a) 
- b) 

“ DOĞRU TERCİHLER SİZİ ÇÖZÜME GÖTÜRÜR “

Bizi Tercih Ettiğiniz İçin Teşekkür Ederiz, Tüm Kursiyerlerimize Sınavlarında Başarılar Dileriz..

İLETİŞİM : 0(258) 265 57 52 - 241 75 15 - 0530 565 95 60 – 532 168 41 11

www.cozumkariver.com

- c) 
- d) 

328. Aşağıdakilerden hangisi yanlıştır?

- a) Limits - Çizilen objelerin boyutlarını değiştirir
- b) Divide - Bir doğru ya da yayı istenilen sayıda eşit parçalara böler
- c) Scale - Seçilen nesnelere, bir noktanın etrafında büyütüp-küçültür
- d) Redo - Geri alınarak iptal edilen işlemleri ileri alarak yeniler

329. AutoCAD ilk defa açıldığında çizim alanı ne renktedir?

- a) Beyaz
- b) Mavi
- c) Siyah
- d) Kırmızı

330. Klavyedeki Boşluk tuşunun görevi değildir?

- a) Enter görevi görür
- b) Klavyeden kısa yolu yazılan komutu aktifleştirir
- c) Osnap durumunu açar
- d) Son girilen komutu tekrar eder

331. Klavyede yer alan virgül (,) tuşu hangi amaçla kullanılır?

- a) Ondalık sayı ayırıcı olarak kullanılır
- b) Spline komutunun kısa yoludur
- c) Polygon komutunda köşegen sayısını değiştirir
- d) X,Y,Z eksenlerine ait noktaları tanımlarken, eksen ayırıcı olarak kullanılır

332. Klavyede yer alan nokta (.) tuşu hangi amaçla kullanılır?

- a) Ondalık sayı ayırıcı olarak kullanılır
- b) Spline komutunun kısa yoludur
- c) Polygon komutunda köşegen sayısını değiştirir
- d) X,Y,Z eksenlerine ait noktaları tanımlarken, eksen ayırıcı olarak kullanılır

333. Klavyede bulunan küçüktür (<) tuşu hangi amaçla kullanılır?

- a) Uzunluğu küçültülmek istenilen çizgilerin ne kadar kısaltılacağını girmeden önce basılır

“ DOĞRU TERCİHLER SİZİ ÇÖZÜME GÖTÜRÜR “

Bizi Tercih Ettiğiniz İçin Teşekkür Ederiz, Tüm Kursiyerlerimize Sınavlarında Başarılar Dileriz..

İLETİŞİM : 0(258) 265 57 52 - 241 75 15 - 0530 565 95 60 – 532 168 41 11





www.cozumkariver.com

- b) Z ekseninde fazla yüksek olan cisimleri kısaltırken yazılan değerin önüne koyulur
c) Çizgiye açısal değer verip çizgi yönünü sabitlemek için açı değerinin önünde kullanılır
d) Bir çizginin diğerine göre küçük çizilmesini sağlar

334. Aşağıdakilerden hangi çizimde katman kullanmanın avantajlarından **değildir?**

- a) Karmaşık çizimlerde bazı çizgileri gizleyerek çizim kolaylığı sağlaması
b) Kullanılmayan çizgileri otomatik olarak silmesi
c) Katmana tanımlanan kalınlığı, o katmandaki bütün çizgilere uygulaması
d) Katmanın kilitlenerek, o katmana ait bütün çizgilerde işlem yapılmasını engellemesi

335. Aşağıdaki komut simgelerinden hangisi bir çizginin bütün özelliklerini başka bir çizgiye taşımak amacıyla kullanılır?






- a) 
- b) 
- c) 
- d) 

336. Farede mevcut orta tekerleğin döndürülmesi hangi görevi yerine getirir?

- a) Klavyedeki Enter tuşu görevi görür
b) Oluşturulan çizginin uzunluğunun ayarlanması için kullanılır
c) Çizime Z ekseninde katılık verilirken, katılığın açısını ayarlar
d) Çizimin belirli bölgelerini büyütüp küçültmeye yarar

337. Klavyede bulunan ESC tuşunun görevi nedir?

- a) Osnap durumunu kapatır/açar
b) Polar durumunu kapatır, Orto durumunu açar
c) Komuttan işlem yapmadan çıkmayı sağlar
d) Trim ve Extend komutları arasında geçişi sağlar

338.      Yandaki komutlar hangi diyalog penceresinde yer alırlar?

- a) Materials
b) Draw
c) Modify
d) Dimension

“ DOĞRU TERCİHLER SİZİ ÇÖZÜME GÖTÜRÜR “

Bizi Tercih Ettiğiniz İçin Teşekkür Ederiz, Tüm Kursiyerlerimize Sınavlarında Başarılar Dileriz..

İLETİŞİM : 0(258) 265 57 52 - 241 75 15 - 0530 565 95 60 – 532 168 41 11

www.cozumkariver.com

339. Plot dialog kutusundan aşağıdaki formatlardan hangisi ile çıktı alınmaz?

- a) PDF
- b) JPG
- c) PNG
- d) AVI

340. Aşağıdakilerden hangisi araç çubuğu değildir?

- a) Web
- b) Point Style
- c) Draw Order
- d) Standart

341. Hatch komutu ile ilgili olarak aşağıdakilerden hangisi söylenemez?

- a) Yapılan taramaların açıları değiştirilebilir
- b) Yapılan taramalar kopyalanabilir
- c) Tarama yapılacak alanın kesinlikle kapalı olması gerekmez
- d) Tarama yapılacak alanın mutlaka kapalı olması gerekir

342. Aşağıdakilerden hangisi AutoCAD içerisinde çap işareti olarak kullanılır?

- a) Ø
- b) @
- c) €
- d) \$

343. Aşağıdakilerden hangisi AutoCAD ilk açıldığında ekranda bulunmaz?

- a) Çekme menüleri
- b) Araç çubukları
- c) Komut satırı
- d) Dimension Style Manager

344. Draw çekme menüsü içinde "Circle" alt komutlarından biri olan, belirlenen 3 noktadan teğet geçecek şekilde daire çizmeyi sağlayan komut aşağıdakilerden hangisidir?

- a) Tan, Tan, Tan
- b) Center, Diameter
- c) Tan, Tan, Radius
- d) 3 Points

“ DOĞRU TERCİHLER SİZİ ÇÖZÜME GÖTÜRÜR “

Bizi Tercih Ettiğiniz İçin Teşekkür Ederiz, Tüm Kursiyerlerimize Sınavlarında Başarılar Dileriz..

İLETİŞİM : 0(258) 265 57 52 - 241 75 15 - 0530 565 95 60 – 532 168 41 11

www.cozumkariver.com


345. Bir objenin bütün özelliklerini tanımlayan komut aşağıdakilerden hangisidir?

- a) Match Properties
- b) Dimension Style
- c) Properties
- d) Insert


346. Koruma gerektiren bir çizim dosyasına aşağıdaki pencerelerden hangisinde şifre koyabiliriz?

- a) Point Style
- b) Save As
- c) Print
- d) Units





347. Aşağıdakilerden hangisi ile seçili çizgi silinemez?

- a) Klavyeden DEL tuşu
- b) Modify araç çubuğundan  simgesi
- c) Klavyeden E tuşuna basıp Enter tuşuna basmak
- d) Klavyeden Shift tuşu

348. Aşağıdakilerden hangisi ile seçilen çizgi kopyalanamaz?

- a) Ctrl+C tuş kombinasyonu
- b) Alt+C tuş kombinasyonu
- c) Klavyeden CO yazıp Enter tuşuna basmak
- d) Modify araç çubuğundan  simgesi

349. Aşağıdaki komutlardan hangisiyle alan hesabı yapmak mümkündür?

- a) 
- b) 
- c) 
- d) 





“ DOĞRU TERCİHLER SİZİ ÇÖZÜME GÖTÜRÜR “

Bizi Tercih Ettiğiniz İçin Teşekkür Ederiz, Tüm Kursiyerlerimize Sınavlarında Başarılar Dileriz..





İLETİŞİM : 0(258) 265 57 52 - 241 75 15 - 0530 565 95 60 – 532 168 41 11

www.cozumkariver.com





350. Aşağıdaki komutlardan hangisi üç boyutlu çizimlerde SİS efekti vermek için kullanılabilir?

- a) 
- b) 
- c) 
- d) 





351. Aşağıdaki komutlardan hangisi Zoom araç çubuğunda yer alamaz?

- a) 
- b) 
- c) 
- d) 

352. Aşağıdaki komutlardan hangisi 3 boyutlu spiral çizmek için kullanılır?

- a) 
- b) 
- c) 
- d) 

353. Aşağıdakilerden hangisi Loft komutunun simgesidir?

- a) 
- b) 
- c) 
- d) 





354. Aşağıdakilerden hangisi polyline ve region olmayan çizgilere katılık verirken kullanılabilir?

“ DOĞRU TERCİHLER SİZİ ÇÖZÜME GÖTÜRÜR “





Bizi Tercih Ettiğiniz İçin Teşekkür Ederiz, Tüm Kursiyerlerimize Sınavlarında Başarılar Dileriz..

İLETİŞİM : 0(258) 265 57 52 - 241 75 15 - 0530 565 95 60 – 532 168 41 11





www.cozumkariver.com

- a) 
- b) 
- c) 
- d) 





355. Aşağıdakilerden hangisi Light List komutuna ait simgedir?

- a) 
- b) 
- c) 
- d) 

356. Aşağıdakilerden hangisi üç boyutlu katıları, yüzeyler (Face) haline, yüzeylere uygulandığı zaman ise çizgiler haline getiren komuttur?

- a) 
- b) 
- c) 
- d) 

357. Aşağıdakilerden hangisi 3D Move komutunun simgesidir?

- a) 
- b) 
- c) 
- d) 

“ DOĞRU TERCİHLER SİZİ ÇÖZÜME GÖTÜRÜR “

Bizi Tercih Ettiğiniz İçin Teşekkür Ederiz, Tüm Kursiyerlerimize Sınavlarında Başarılar Dileriz..

İLETİŞİM : 0(258) 265 57 52 - 241 75 15 - 0530 565 95 60 – 532 168 41 11

www.cozumkariver.com



358. Yanda simgesi görünen komutun adı nedir?

- a) 3D Align
- b) Copy
- c) Offset
- d) Imprint



359. Yandaki simgesi görülen komutun adı nedir?

- a) Polyline
- b) Multiline
- c) Polysolid
- d) Mline

360. Aşağıdakilerden hangisi yapılan çizimin çıktısını almak için yazıcı ayarlarını gösteren diyalog sayfası adıdır?

- A) Paper
- B) Plot
- C) Layout
- D) Setting

361. Aşağıdakilerden hangisi kağıt tipi seçmeye yarar?

- a-) Paper size
- b-) Plot device
- c-) inches
- d-) mm

362. Aşağıdakilerden hangisi yaptığınız çizimleri oluşturduğunuz pencereye göre çıktı almanızı sağlayan seçenektir?

- a-) Paper Size
- b-) Plotter
- c-) Window
- d-) Plot Extents

363. Aşağıdakilerden hangisi yaptığınız çizimlerin çıktı almadan önce nasıl görüneceğini gösteren seçenektir?

- a-) Baskı Önizleme
- b-) Preview
- c-) Window
- d-) Plot device

“ DOĞRU TERCİHLER SİZİ ÇÖZÜME GÖTÜRÜR “

Bizi Tercih Ettiğiniz İçin Teşekkür Ederiz, Tüm Kursiyerlerimize Sınavlarında Başarılar Dileriz..

İLETİŞİM : 0(258) 265 57 52 - 241 75 15 - 0530 565 95 60 – 532 168 41 11

www.cozumkariver.com

364. Aşağıdakilerden hangisi yaptığınız çizimlerin tamamını ekrana sığdırır?

- a-) Display
- b-) Limits
- c-) Window
- d-) **Extents**

365. Aşağıdakilerden hangisi kâğıt üzerine aktarılacak çizimlerin ölçeğini gösteren seçenektir?

- a-) **Plot scale**
- b-) Change
- c-) Scale
- d-) Properties

366. Aşağıdakilerden hangisi plot penceresini açar?

- a-) Plot to file
- b-) Plot Device
- c-) Properties
- d-) **Ctrl+P**

367. Aşağıdakilerden hangisi çizdiğiniz resmin çıktısını alırken kâğıt konumunu belirleyen diyalog sayfası adıdır?

- a-) Plot to file
- b-) Plot Device
- c-) Properties
- d-) **Drawing orientation**

368. Aşağıdakilerden hangisi çizdiğiniz resmin çıktısını kâğıda 180° döndürerek yerleştirme işlemini yapmak için kullanılan seçenektir?

- a-) Potrait
- b-) Landscape
- c-) **Plot upside-down**
- d-) Display

369. Aşağıdakilerden hangisi izometrik çizimi başlatmak için kullanılan diyalog sayfasıdır?

- a-) **Drafting Settings**
- b-) Layers
- c-) Block Definition
- d-) Dimension Style

370. Aşağıdakilerden hangisi çizim alanında yeni katmanlar oluşturan komuttur?

“ DOĞRU TERCİHLER SİZİ ÇÖZÜME GÖTÜRÜR “

Bizi Tercih Ettiğiniz İçin Teşekkür Ederiz, Tüm Kursiyerlerimize Sınavlarında Başarılar Dileriz..

İLETİŞİM : 0 (258) 265 57 52 - 241 75 15 - 0530 565 95 60 – 532 168 41 11





www.cozumkariver.com

- a-) Hatch
- b-) Layer
- c-) Toolbar
- d-) Move





371. Aşağıdakilerden hangisi Layer Properties’de değiştirilemez?

- a-) Renk
- b-) Çizgi tipi
- c-) Katman adı
- d-) Ölçek





372. Aşağıdakilerden hangisi “Katman” ikonudur?

- a-) 
- b-) 
- c-) 
- d-) 

373. Aşağıdakilerden hangisi katmanın açık olduğunu ifade eder?

- a-) 
- b-) 
- c-) 
- d-)  cyan

374. Aşağıdakilerden hangisi “Tarama” ikonudur?

- a-) 
- b-) 
- c-) 
- d-) 

375. Aşağıdakilerden hangisi “Tarama” (Hatch and Gradient) diyalog sayfasında bulunmaz?

- a-) Angle
- b-) Type

“ DOĞRU TERCİHLER SİZİ ÇÖZÜME GÖTÜRÜR “

Bizi Tercih Ettiğiniz İçin Teşekkür Ederiz, Tüm Kursiyerlerimize Sınavlarında Başarılar Dileriz..

İLETİŞİM : 0(258) 265 57 52 - 241 75 15 - 0530 565 95 60 – 532 168 41 11

www.cozumkariver.com

- c-) Pattern
d-) **Revision Cloud**





376. Hangi komut bir nesneyi **dizi halinde kopyalamak** için kullanılır?

- a-) Copy
b-) Array
c-) Multiple
d-) Multiline

377. Aşağıdaki komutlardan hangisi **birbirine paralel çizgiler çizmek için** kullanılır?

- a-) 2Line
b-) Xline
c-) Line
d-) **Multiline**

378. Aşağıdakilerden hangisi “Taşıma” ikonudur?

- a-) 
b-) 
c-) 
d-) 



379. Aşağıdakilerden hangisi “Polygon” komutunun kullanım amacıdır?

- a-) **Çokgenler çizmek**
b-) İstenilen sayıda nokta çizmek
c-) İç içe daireler çizmek
d-) Birbirine 45° doğrular çizmek

380. Aşağıdakilerden hangisi nokta şeklini değiştirmek için kullanılan yoldur?

- a-) Format → Text Style
b-) Format → Point Style
c-) Regen
A) View→3D Views

381. 22. Aşağıdakilerden hangisi yüzey modelleme için kullanılan bir komut sembolüdür?

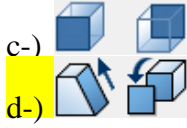
- a-) 
b-) 

“ DOĞRU TERCİHLER SİZİ ÇÖZÜME GÖTÜRÜR “

Bizi Tercih Ettiğiniz İçin Teşekkür Ederiz, Tüm Kursiyerlerimize Sınavlarında Başarılar Dileriz..

İLETİŞİM : 0(258) 265 57 52 - 241 75 15 - 0530 565 95 60 – 532 168 41 11

www.cozumkariver.com



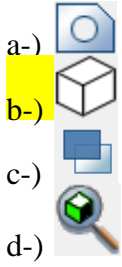
382. Aşağıdakilerden hangisi “Elev” komutunun kullanım amaçlarındandır?

- a-) Çizgiye açı vermek
- b-) Çizgiye renk vermek
- c-) Çizgiyi silmek
- d-) Çizgiye yükseklik vermek

383. Aşağıdakilerden hangisi üç boyutlu yüzey oluşturmak için kullanılan komuttur?

- a-) Face
- b-) 3D Face
- c-) 3D Rotate
- d-) Color Faces

384. Üç boyutlu çizimlerde, katı nesnenin arkasında kalan çizgileri saklayan komut sembolü hangisidir?



385. Aşağıdakilerden hangisi üç boyutlu ortamda birleşik çoklu çizgi çizmek için kullanılır?

- a-) 3D Polyline
- b-) 3D Line
- c-) Polyline
- d-) 3D First Line

386. Aşağıdakilerden hangisi üç boyutlu katı modeli iki parçaya böler?

- a-) 3D Polyline
- b-) imprint
- c-) Slice
- d-) Box3d

“ DOĞRU TERCİHLER SİZİ ÇÖZÜME GÖTÜRÜR “

Bizi Tercih Ettiğiniz İçin Teşekkür Ederiz, Tüm Kursiyerlerimize Sınavlarında Başarılar Dileriz..





İLETİŞİM : 0(258) 265 57 52 - 241 75 15 - 0530 565 95 60 – 532 168 41 11

www.cozumkariver.com





387. Aşağıdakilerden hangisi iki boyutlu kapalı ve polyline çizime üçüncü boyut vermek için kullanılır?

- a-) Align
- b-) Elev
- c-) Extrude
- d-) Subtract

388. Aşağıdakilerden hangisi çoklu kopyalama yapar?

- a-) 
- b-) 
- c-) 
- d-) 





389. Çizilen çizimi genişletmek ve daraltmak için hangisi kullanılır?

- a-) 
- b-) 
- c-) 
- d-) 

390. Yazı tipi düzenlemesini yapmak için hangi yol kullanılır?

- a-) Format → Multiline Style
- b-) Format → Point Style
- c-) Format → Text Style
- d-) Format → Dimension Style

391. Aşağıdakilerden hangisi çizgi kopyalama işlemi yapamaz?

- a-) 
- b-) 
- c-) 
- d-) 

392. Dörtgen çizmek için araç çubuğundan seçilir.


“ DOĞRU TERCİHLER SİZİ ÇÖZÜME GÖTÜRÜR “

Bizi Tercih Ettiğiniz İçin Teşekkür Ederiz, Tüm Kursiyerlerimize Sınavlarında Başarılar Dileriz..


İLETİŞİM : 0(258) 265 57 52 - 241 75 15 - 0530 565 95 60 – 532 168 41 11

www.cozumkariver.com

- a-) Dimesion – Center
- b-) Modify – offset
- c-) Draw – Polygon
- d-) Draw – Rectangle

393.  Yandaki düğmenin adı nedir?

- a-) Insert Block
- b-) Make Block
- c-) Group Block
- d-) Array

394.  Yandaki düğmenin görevi nedir?

- a-) Son noktayı yakalar.
- b-) Osnap durumunu kapatır / açar.
- c-) Osnap ayarları penceresini getirir.
- d-) Snap durumunu kapatır / açar.

395. Osnap durumu klavyeden hangi düğmeyle on / off olur?

- a-) F1
- b-) F2
- c-) F5
- d-) F3

396. Grid durumu klavyeden hangi düğmeyle on / off olur?

- a-) F6
- b-) F4
- c-) F8
- d-) F7

397.  Düğmesi ne işe yarar?

- a-) Çizim açılarını gösterir.
- b-) Çizgi renklerini gösterir.
- c-) Çizgi kalınlıklarını gösterir.
- d-) Çizgi layerlarını gösterir.

398. Aşağıdaki klavye kısa yollarından hangisi yeni katman açmak için kullanılır?

- a-) LA

“ DOĞRU TERCİHLER SİZİ ÇÖZÜME GÖTÜRÜR “

Bizi Tercih Ettiğiniz İçin Teşekkür Ederiz, Tüm Kursiyerlerimize Sınavlarında Başarılar Dileriz..

İLETİŞİM : 0(258) 265 57 52 - 241 75 15 - 0530 565 95 60 – 532 168 41 11





www.cozumkariver.com

- b-) NL
- c-) LPM
- d-) YK

399. Layer seçeneklerinden  düğmesinin görevi nedir?

- a-) Layer'ı kilitli hale getirir.
- b-) Layer'ı görünmez yapar.**
- c-) Layer'ı görünür yapar.
- d-) Layerla çizilen çizgileri beyaz yapar.





400. İki boyutlu, parçalı ve kapalı çizgileri bir bütün haline getirip “yüzey”(Face) oluşturan komut ikonu aşağıdakilerden hangisidir?

- a-) 
- b-) **
- c-) 
- d-) 



401. Aşağıdaki komutlardan hangisi bloğu **elemanlarına ayırır**?

- a-) Region
- b-) Extend
- c-) Break
- d-) Explode**

402. Hangisi çizilen çizginin x,y eksenleri yönündeki uzunluğunu **komut satırında gösterir**?

- a-) 
- b-) 
- c-) **
- d-) 

403. Aşağıdakilerden hangisi seçilen çizgilerin yada üç boyutlu katıların 2 kat büyümesini sağlar?



- a-) 
- b-) **

“ DOĞRU TERCİHLER SİZİ ÇÖZÜME GÖTÜRÜR “





Bizi Tercih Ettiğiniz İçin Teşekkür Ederiz, Tüm Kursiyerlerimize Sınavlarında Başarılar Dileriz..

İLETİŞİM : 0(258) 265 57 52 - 241 75 15 - 0530 565 95 60 – 532 168 41 11

www.cozumkariver.com

- c-) 
d-) 





404. Aşağıdakilerden hangisi “teğet nokta” yakalamakta kullanılır?

- a-) 
b-) 
c-) 
d-) 





405. Aşağıdakilerden hangisi “Draw” menüsünün öğelerindendir?

- a-) Erase
b-) Mirror
c-) Spline
d-) Trim

406. Hangisi çizimi siler?

- a-) 
b-) 
c-) 
d-) 

407. Aşağıdakilerden hangisi açı ölçmeyi sağlar?

- a-) 
b-) 
c-) 
d-) 

408. Aşağıdakilerden hangisi ölçme komutlarından değildir?

- a-) Linear
b-) Angular
c-) Baseline
d-) Chamfer

“ DOĞRU TERCİHLER SİZİ ÇÖZÜME GÖTÜRÜR “

Bizi Tercih Ettiğiniz İçin Teşekkür Ederiz, Tüm Kursiyerlerimize Sınavlarında Başarılar Dileriz..

İLETİŞİM : 0(258) 265 57 52 - 241 75 15 - 0530 565 95 60 – 532 168 41 11

www.cozumkariver.com





409. Aşağıdakilerden hangisi yapılan işlemi geri alır?

- a-) Klavyeden M tuşu
- b-) Klavyeden R tuşu
- c-) Klavyeden U tuşu
- d-) Klavyeden G tuşu

410. Snap durumunu..... tuşuna basarak açıp kapatabiliriz.

- a-) F8
- b-) F7
- c-) F10
- d-) F9

411. Aşağıdaki komutlardan hangisi ile çizgi ikiye bölünebilir?

- a-) 
- b-) 
- c-) 
- d-) 

412. Çizim alanını aşağıdakilerden hangisi ile belirleriz?




- a-) Limits
- b-) Circle
- c-) Line
- d-) Fillet



413. Yandaki şeklin köşelerini hangi komutla yapabiliriz?

- a-) Fillet
- b-) Chamfer
- c-) Offset
- d-) Point

414. Aşağıdakilerden hangisi çizginin orta noktasını yakalamak için kullanılır?

- a-) 
- b-) 
- c-) 

“ DOĞRU TERCİHLER SİZİ ÇÖZÜME GÖTÜRÜR “

Bizi Tercih Ettiğiniz İçin Teşekkür Ederiz, Tüm Kursiyerlerimize Sınavlarında Başarılar Dileriz..

İLETİŞİM : 0(258) 265 57 52 - 241 75 15 - 0530 565 95 60 – 532 168 41 11

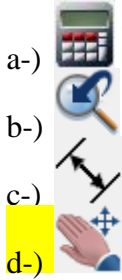
www.cozumkariver.com



415. Çizilen çizimleri seçmek için aşağıdakilerden hangisi kullanılır?

- a-) Fare sağ tuşu
- b-) Shift tuşu basılı tutulur.
- c-) **Fare sol tuşu**
- d-) Yön tuşları

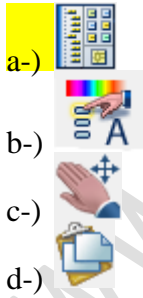
416. Ekranı kaydırmak için kullanılan komut hangisidir.



417. Yazıları ayrı ayrı yazmak için aşağıdaki yollardan hangisi izlenmelidir?

- a-) Modifiy Menüsü – Offset
- b-) Tools Menüünden – Options
- c-) **Draw Menüünden – Text – Single Line Text**
- d-) Draw Menüünden – Arc – Start – Center – End

418. Aşağıdakilerden hangisi “Properties” diyalog sayfasını açar?



419. Aşağıdakilerden hangisi açıklama oku ve yazısı eklemeye yarayan “Ölçülendirme” (Dimension) komutudur?

- a-) Center mark
- b-) **Quick Leader**
- c-) Radius
- d-) Aligned





“ DOĞRU TERCİHLER SİZİ ÇÖZÜME GÖTÜRÜR “

Bizi Tercih Ettiğiniz İçin Teşekkür Ederiz, Tüm Kursiyerlerimize Sınavlarında Başarılar Dileriz..

İLETİŞİM : 0(258) 265 57 52 - 241 75 15 - 0530 565 95 60 – 532 168 41 11

www.cozumkariver.com





420. Hangisi hızlı ölçülendirme (Quick Dimension) komutudur?

- a-) 
b-) 
c-) 
d-) 





421. Daha önce alınmış bir ölçüden başlayarak, bundan sonra tıklanan noktaların ara mesafelerinin ölçülendirilmesini komutu sağlar.

- a-) Tolerans
b-) Leader
c-) Baseline
d-) Continue



422. Aşağıdakilerden hangisi görüntüyü küçültür?

- a-) 
b-) 
c-) 
d-) 

423. Aşağıdakilerden hangisi çizimin tamamının ekranda görünmesini sağlar?

- a-) 
b-) 
c-) 
d-) 

424. Aşağıdakilerden hangisi seçilen noktanın X ya da Y ekseninde orjine olan uzaklığını verir verir?

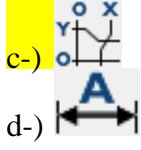
- a-) 
b-) 

“ DOĞRU TERCİHLER SİZİ ÇÖZÜME GÖTÜRÜR “

Bizi Tercih Ettiğiniz İçin Teşekkür Ederiz, Tüm Kursiyerlerimize Sınavlarında Başarılar Dileriz..

İLETİŞİM : 0(258) 265 57 52 - 241 75 15 - 0530 565 95 60 – 532 168 41 11

www.cozumkariver.com



425. Ölçülendirme yazılarının değişikliğini aşağıdakilerden hangisi ile yapabiliriz?

- a-) Edit Text
- b-) Dimension Ordinate
- c-) Dimension leader
- d-) Aligned

426. Aşağıdakilerden hangisi “Render” komutunun kısa yoludur?

- a-) RO
- b-) RE
- c-) PL
- d-) RR

427.  Yandaki şeklin görevi nedir?

- a-) Üçgen çizer
- b-) Dörtgen çizer
- c-) Katı çizimi tel kafes görünüm moduna getirir
- d-) Çokgen çizer





428. Aşağıdakilerden hangisi ile “koni” çizebiliriz?


“ DOĞRU TERCİHLER SİZİ ÇÖZÜME GÖTÜRÜR “

Bizi Tercih Ettiğiniz İçin Teşekkür Ederiz, Tüm Kursiyerlerimize Sınavlarında Başarılar Dileriz..

İLETİŞİM : 0(258) 265 57 52 - 241 75 15 - 0530 565 95 60 – 532 168 41 11





www.cozumkariver.com

- a-) 
b-) 
c-) 
d-) 





429.  Yandaki düğmenin görevi aşağıdakilerden hangisidir?

- a-) Gün ışığı ayarlarını yapmaya yarar
b-) Katıları kendi ekseninde durmaksızın döndürür
c-) Görünümünü değiştirir
d-) Görüntüyü büyük ve küçük yapmayı sağlar.

430. Aşağıdakilerden hangisi çizime **Spot Işık** ekler?

- a-) 
b-) 
c-) 
d-) 

431. Eklenen ışıkların ayarlarını hangisi ile değiştirebiliriz?

- a-) 
b-) 
c-) 
d-) 

432. Ölçülendirme ayarları hangi pencerede yapılır?

- a-) Layer Properties Manager
b-) Lights in Model
c-) Dimension Style Manager
d-) Plot-Model

“ DOĞRU TERCİHLER SİZİ ÇÖZÜME GÖTÜRÜR “


Bizi Tercih Ettiğiniz İçin Teşekkür Ederiz, Tüm Kursiyerlerimize Sınavlarında Başarılar Dileriz..

İLETİŞİM : 0(258) 265 57 52 - 241 75 15 - 0530 565 95 60 – 532 168 41 11


www.cozumkariver.com

433. Circle komutu ile daire çiziminde çap girmek için hangi komut seçilir?

- a-) Radius
- b-) Diameter**
- c-) Angle
- d-) Chamfer

434.  Yandaki komutun görevi nedir?

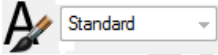
- a-) Paralel çizgi çizer
- b-) Kopyalama yapar
- c-) Çift çizgi çizer
- d-) Çizgi üzerinde serbest biçimde nokta yakalar**

435.  Yandaki komutun adı nedir?

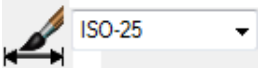
- a-) Snap To End
- b-) Snap To Quadrant
- c-) Snap To Extension**
- d-) Snap To Node

436.  Aşağıdakilerden hangisi yandaki komutun görevlerinden **değildir**?

- a-) Bir dosyanın layerlarını gösterir
- b-) Bir dosyanın ölçü stillerini gösterir
- c-) Bir dosyanın yazı stillerini gösterir
- d-) Bir dosyada çizilen çizimleri getirir**

437.  Yandaki düğme aşağıdaki komutlardan hangisinin özelliklerini ekrana getirir?

- a-) Dimension
- b-) Line
- c-) Circle
- d-) Text**

438.  Yandaki düğme aşağıdaki komutlardan hangisinin özelliklerini ekrana getirir?

- a-) Line
- b-) Text
- c-) Dimension**


“ DOĞRU TERCİHLER SİZİ ÇÖZÜME GÖTÜRÜR “


Bizi Tercih Ettiğiniz İçin Teşekkür Ederiz, Tüm Kursiyerlerimize Sınavlarında Başarılar Dileriz..


İLETİŞİM : 0(258) 265 57 52 - 241 75 15 - 0530 565 95 60 – 532 168 41 11


www.cozumkariver.com


d-) Properties


439.  Yandaki iki komutun isimleri sırasıyla aşağıdakilerden hangisidir?
- a-) Zoom dDynamic, Redo
b-) Zoom All, Bold
c-) Zoom Previous, Undo
d-) Zoom Scale, Redo

440.  Yandaki komuta hangi menüden ulaşabiliriz?
- a-) Format
b-) Draw
c-) Modify
d-) Tools

441.  Yandaki komutun görevi nedir?
- a-) Yardım dosyasını açar
b-) Pencereyi kapatır
c-) Dosyayı kapatır
d-) Yanlış yapılan son işlemi geri alır.

442.  Yandaki komutun adı nedir?
- a-) Enpoint
b-) Midpoint
c-) Intersection
d-) Node

443.  Yandaki komutun adı nedir?
- a-) Nearest
b-) Intersection
c-) Extension
d-) Quadrant

444.  Yandaki komutun görevi nedir?

“ DOĞRU TERCİHLER SİZİ ÇÖZÜME GÖTÜRÜR “

Bizi Tercih Ettiğiniz İçin Teşekkür Ederiz, Tüm Kursiyerlerimize Sınavlarında Başarılar Dileriz..

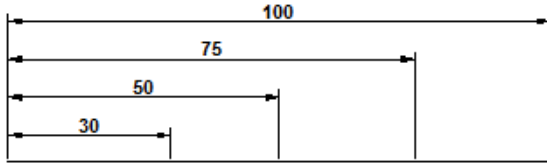
İLETİŞİM : 0(258) 265 57 52 - 241 75 15 - 0530 565 95 60 – 532 168 41 11

www.cozumkariver.com

- a-) Dörtgenin köşe noktasını yakalar
- b-) Blok çizimleri taşıma noktasından yakalar**
- c-) Nokta yakalar
- d-) Blok ekler

445. Çizgiyi orta noktasından yakalayabilmek için osnap ayarlarından.....seçilir?

- a-) Enpoint
- b-) Midpoint**
- c-) Node
- d-) Extension



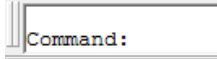
446. Yandaki ölçülendirmeyi yapabilmek için hangi komut kullanılır.

- a-) Liner
- b-) Angular
- c-) Center
- d-) Baseline**



447. Yandaki komutun görevi nedir?

- a-) Yazı ekler
- b-) Ölçü çizgisine yazı ekler
- c-) Ölçü çizgilerindeki yazıların yerini değiştirir**
- d-) Ölçü çizgilerine sembol ekler.



448. Sol resimde görülen bölümü ne amaçla kullanırız?

- a-) Yazı yazmayı sağlar
- b-) Ölçü stilini değiştirmeyi sağlar
- c-) Bütün komutları girmemizi, işlem yapmamızı sağlar**
- d-) Renk değiştirmeyi sağlar.

449. Bloklanmış bir çizimi nasıl ayrı çizimlere dönüştürbiliriz?



- a-)**
- b-)

“ DOĞRU TERCİHLER SİZİ ÇÖZÜME GÖTÜRÜR “





Bizi Tercih Ettiğiniz İçin Teşekkür Ederiz, Tüm Kursiyerlerimize Sınavlarında Başarılar Dileriz..

İLETİŞİM : 0(258) 265 57 52 - 241 75 15 - 0530 565 95 60 – 532 168 41 11

www.cozumkariver.com





- c-) 
d-) 

450.      Yandaki düğmede hangisi kapatılırsa oluşturulan katman ekranda görüldüğü halde silinemez?

- a-) 
b-) 
c-) 
d-) 

451. ByLayer Yandaki düğmeyle aşağıdaki değişikliklerden hangisini yapabiliriz?

- a-) Çizgilerin kalınlığını
b-) Çizgilerin rengini
c-) Çizgilerin tipini
d-) Çizgilerin katmanlarını

452.     Yandaki düğmelerin sırasıyla isimleri aşağıdakilerden hangisidir?

- a-) Open-Plot-New-Save
b-) New-Open-Save-Plot
c-) Plot-Save-Open-New
d-) New-Open-Plot-Save

453.  Yandaki komutun adı nedir?

- a-) Match properties
b-) Paste
c-) Plot preview
d-) Properties

454. Autocad dosyasının uzantısı nedir?

- a-) .xls
b-) .doc
c-) .dwg

“ DOĞRU TERCİHLER SİZİ ÇÖZÜME GÖTÜRÜR “

Bizi Tercih Ettiğiniz İçin Teşekkür Ederiz, Tüm Kursiyerlerimize Sınavlarında Başarılar Dileriz..

İLETİŞİM : 0(258) 265 57 52 - 241 75 15 - 0530 565 95 60 – 532 168 41 11

www.cozumkariver.com

d-) .dgv



455. Yandaki “Zoom” komutlarının isimleri sırasıyla hangi seçenekte verilmiştir?

- a-) Window-Dynamic-Scale-Center
- b-) Scale-Dynamic-In-Center
- c-) Dynamic-Windows-Out-All
- d-) Window-Dynamic-Extents-Object



456. Yandaki düğmenin görevi nedir?

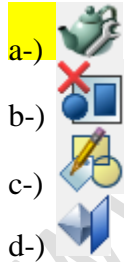
- a-) Daire çizer
- b-) Dairenin radius ölçer
- c-) Dairenin merkez noktasını belirler
- d-) Daireye + işareti ekler



457. Yandaki komutun adı aşağıdakilerden hangisidir?

- a-) Move
- b-) Offset
- c-) Mirror
- d-) Array

458. Render ayarları hangi butonla değiştirilebilir?



459. Color Faces komutu ne işe yarar?

- a-) Çizgilerin kalınlığını değiştirmeye
- b-) Elipslerin rengini değiştirmeye
- c-) Bir katının istediğimiz yüzeylerinin rengini değiştirmeye
- d-) Katıların çizgi rengini değiştirmeye





460. Aşağıdakilerden hangisi hesap makinasını açar?

“ DOĞRU TERCİHLER SİZİ ÇÖZÜME GÖTÜRÜR “

Bizi Tercih Ettiğiniz İçin Teşekkür Ederiz, Tüm Kursiyerlerimize Sınavlarında Başarılar Dileriz..

İLETİŞİM : 0(258) 265 57 52 - 241 75 15 - 0530 565 95 60 – 532 168 41 11

www.cozumkariver.com

- a-) 
- b-) 
- c-) 
- d-) 

461. Layout1 sayfası ne işe yarar?

- a-) Yeni bir dosya açar
b-) Farklı açılırları bir kâğıda yazdırma kolaylığı sağlar
c-) Katılara desen vermeye yarar
d-) Yazıcının daha kaliteli basmasını sağlar



462. Komutunun adı nedir?

- a-) Mapping
b-) Render
c-) Materials
d-) Landspace

463. Ekranı birden fazla parçaya bölüp çizime çeşitli açılardan aynı anda bakmayı sağlayan View diyolog penceresine aşağıdaki yollardan hangisi ile ulaşabiliriz?

- a-) 3D View→SW Isometric
b-) Viewports→New viewports
c-) 3d View→SE Isometric
d-) View → Clean Screen

464. Aşağıdakilerden hangisi Yay uzunluğunu ölçmek için komuttur?

- a-) Radius
b-) Angular
c-) Tolerance
d-) Arc Lenth

465. Aşağıdakilerden hangisi önceden oluşturulmuş bloğu, gerektiğinde çizim sayfasına yüklemek için kullanılan komuttur?

- a-) Block
b-) Make Block
c-) Insert Block

“ DOĞRU TERCİHLER SİZİ ÇÖZÜME GÖTÜRÜR “

Bizi Tercih Ettiğiniz İçin Teşekkür Ederiz, Tüm Kursiyerlerimize Sınavlarında Başarılar Dileriz..

İLETİŞİM : 0 (258) 265 57 52 - 241 75 15 - 0530 565 95 60 – 532 168 41 11

www.cozumkariver.com

d-) Save Block

466. Aşağıdakilerden hangisi seçilen nesnelere bloklanması için kullanılan komuttur?

- a-) Block
- b-) Description
- c-) Insert units
- d-) Object

467. Aşağıdakilerden hangisi Dimension Menüesindeki Tolerans komutunun içerisinde **yer almaz?**

- a-) Symbol
- b-) Material Condition
- c-) Datum Identifier
- d-) Dimension Style Manager

468. Aşağıdakilerden hangisi komutları çalıştırma yöntemlerinden biri **değildir?**

- a-) Komutu çalıştıran simgeyi araç çubuğunda tıklamak
- b-) Komutun kısa yolunu komut satırına yazmak ve Enter tuşuna basmak
- c-) Komutun adını komut satırına yazmak ve boşluk tuşuna basmak
- d-) Komutun numarasını klavyeden girip Shift tuşuna basmak

469. Aşağıdaki komutlardan hangisi çalıştırıldığında bir diyalog sayfası açılır?

- a-) Line
- b-) Layer
- c-) Ellipse
- d-) Scale

470. Aşağıdakilerden hangisi bilgisayarda kayıtlı bir dosyayı açmak için kullanılır?

- a-) New
- b-) Save
- c-) Close
- d-) Open

471. Aşağıdaki komutlardan hangisi Ctrl+C kısa yolu ile çalışır?

- a-) Copy

“ DOĞRU TERCİHLER SİZİ ÇÖZÜME GÖTÜRÜR “

Bizi Tercih Ettiğiniz İçin Teşekkür Ederiz, Tüm Kursiyerlerimize Sınavlarında Başarılar Dileriz..

İLETİŞİM : 0(258) 265 57 52 - 241 75 15 - 0530 565 95 60 – 532 168 41 11

www.cozumkariver.com

- b-) Paste
- c-) Circle
- d-) Close

472. Komut satırındaki “Select Objects” iletisi kullanıcının ne yapmasını istemektedir?
a-) Değişiklikleri kaydetmesini
b-) Objeleri saymasını
c-) Objeleri seçmesini
d-) Objeleri silmesini
473. Circle komutunun hangi seçeneği ile iki objeye teğet ve yarıçapı verilerek daire çizilir?
a-) Center/Radius
b-) Center/Diameter
c-) 3P
d-) Ttr
474. Offset komutu kullanılırken takip edilecek sıra aşağıdakilerden hangisidir?
a-) Objeye seçimi-Mesafe-Yön
b-) Mesafe-Yön-Objeye seçimi
c-) Mesafe-Objeye seçimi-Yön
d-) Yön-Objeye seçimi-Mesafe
475. Ekrandaki görüntünün büyüklüğünü değiştirmeden görüntüyü kaydırmak için kullanılan komut hangisidir?
a-) Zoom Window
b-) Pan Realtime
c-) Regen
d-) Zoom Extent
476. Line komutundan çıkmak için aşağıdaki işlemlerden hangisi yapılmalıdır?
a-) Fare ile çizim alanında her hangi bir nokta tıklanmalıdır
b-) Bir sonraki noktanın koordinat değeri girilmelidir
c-) Klavyeden ESC tuşuna basılmalıdır
d-) Klavyeden F1 tuşuna basılmalıdır

“ DOĞRU TERCİHLER SİZİ ÇÖZÜME GÖTÜRÜR “

Bizi Tercih Ettiğiniz İçin Teşekkür Ederiz, Tüm Kursiyerlerimize Sınavlarında Başarılar Dileriz..

İLETİŞİM : 0(258) 265 57 52 - 241 75 15 - 0530 565 95 60 – 532 168 41 11

www.cozumkariver.com

477. Menü çubuğunda hangi komut bulunmaz?
a-) Line
b-) Edit
c-) Dimension
d-) File
478. Klavyeden girilen komutları çalıştırmak için hangi tuş kullanılır?
a-) Home
b-) End
c-) Del
d-) Enter
479. Serbest elle çizim yapan komut aşağıdakilerden hangisidir?
a-) Mline
b-) Spline
c-) Sketch
d-) Ellipse
480. Area komutu aşağıdaki işlemlerden hangisini yapar?
a-) Alan hesabı
b-) Dairenin çapına + işareti koyar
c-) Sekizgen çizer
d-) Çoklu kopyalama yapar
481. Kayıtlı bir dosyayı yeni bir isimle kaydetmek için hangi komut kullanılır
a-) Plot
b-) Close
c-) Save As
d-) New
482. Zoom-Window komutunun görevi nedir?
a-) Limits komutuyla ayarlanmış çizim limitlerini ekrana yerleştirmek
b-) Pencere içine alınan bölgeyi ekranı kaplayacak şekilde büyütmek

“ DOĞRU TERCİHLER SİZİ ÇÖZÜME GÖTÜRÜR “

Bizi Tercih Ettiğiniz İçin Teşekkür Ederiz, Tüm Kursiyerlerimize Sınavlarında Başarılar Dileriz..

İLETİŞİM : 0(258) 265 57 52 - 241 75 15 - 0530 565 95 60 – 532 168 41 11

www.cozumkariver.com

- c-) Çizimin tamamını ekranda görüntülemek
d-) Çizimi yeni bir pencerede açmak

- I. Radius
II. Multiple
III. Previous

483. Yukarıdakilerden hangileri Fillet komutunun içinde yer alan özel komutlardandır?

- a-) I. ve II.
b-) II. ve III.
c-) I. ve III.
d-) Hepsi

484. Hangisi yay çizme metotlarından **değildir**?





- a-) Center-Radius
b-) Start-Center-Angle
c-) 3 Points
d-) Angle-Center-3 points

- I. Arc
II. Undo
III. Width
IV. Redo

485. Yukarıdaki seçeneklerden hangisi Polyline komutunun içinde yer alan komutlardan **değildir**?

- a-) I
b-) II
c-) III
d-) IV

486. Aşağıdaki simgelerden hangisi “Block Editor”ü açar?

- a-) 
b-) 
c-) 
d-) 




“ DOĞRU TERCİHLER SİZİ ÇÖZÜME GÖTÜRÜR “

Bizi Tercih Ettiğiniz İçin Teşekkür Ederiz, Tüm Kursiyerlerimize Sınavlarında Başarılar Dileriz..





İLETİŞİM : 0(258) 265 57 52 - 241 75 15 - 0530 565 95 60 – 532 168 41 11

www.cozumkariver.com





487. Aşağıdaki simgelerden hangisi çizimi kaydetmek için kullanılır?

- a-) 
- b-) 
- c-) 
- d-) 





488. Aşağıdakilerden hangisi seçilen çizginin panoya kopyalanmasında kullanılır?

- a-) 
- b-) 
- c-) 
- d-) 

489. Aşağıdakilerden hangisi çıktı almak için kullanılır?

- a-) 
- b-) 
- c-) 
- d-) 

490. Aşağıdakilerden hangisi çizime tablo eklemek için kullanılır?

- a-) 
- b-) 
- c-) 
- d-) 

“ DOĞRU TERCİHLER SİZİ ÇÖZÜME GÖTÜRÜR “

Bizi Tercih Ettiğiniz İçin Teşekkür Ederiz, Tüm Kursiyerlerimize Sınavlarında Başarılar Dileriz..

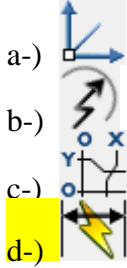
İLETİŞİM : 0(258) 265 57 52 - 241 75 15 - 0530 565 95 60 – 532 168 41 11

www.cozumkariver.com

- I. Line
II. Arc
III. Ellipse
491. Yukarıdakilerden hangisi polyline çizginin içinde yer alan alt komutlardandır?
a-) I. ve III.
b-) II. ve III.
c-) **I. ve II.**
d-) Hepsi

492. Aşağıdakilerden hangisi sonsuz çizgiler (yardımcı doğrular) çizer?
a-) Line
b-) Polyline
c-) **Construction Line**
d-) Multi Line

493. Aşağıdakilerden hangisi hızlı ölçülendirme yapmak için kullanılır?



- I. Mesafe girilip Enter tuşuna basılır
II. Klavyeden L yazılıp Enter tuşuna basılır
III. Fare yardımıyla çizginin oluşması istenilen yön izlenir
IV. Çizginin başlaması istenilen nokta farenin sol tuşuyla tıklanır
494. Yukarıda çizgi (Line) komutu kullanılırken yapılması gerekenler karışık olarak listelenmiştir. Doğru sıra aşağıdakilerden hangisi olmalıdır?
a-) IV-II-I-III
b-) **II-IV-III-I**
c-) II-III-IV-I
d-) I-II-III-IV

- I. Klavyeden C yazılıp Enter tuşuna basılır

“ DOĞRU TERCİHLER SİZİ ÇÖZÜME GÖTÜRÜR “

Bizi Tercih Ettiğiniz İçin Teşekkür Ederiz, Tüm Kursiyerlerimize Sınavlarında Başarılar Dileriz..

İLETİŞİM : 0(258) 265 57 52 - 241 75 15 - 0530 565 95 60 – 532 168 41 11

www.cozumkariver.com





- II. Yarı çap ölçüsü klavyeden yazılıp Enter tuşuna basılır
III. Daire merkezinin bulunması istenilen nokta farenin sol tuşu ile işaretlenir
IV. Sırasıyla çap, açı ve alan ölçüleri yazılır
495. Yukarıdakilerden hangisi Daire çizerken yapılan işlemlerden **değildir**?
- a-) I.
b-) II.
c-) III.
d-) **IV.**
496. Aşağıdakilerden yöntemlerden hangisiyle kapalı olan bir araç çubuğunu açabiliriz?
- a-) File menüsünden New komutunu çalıştırarak
b-) Durum çubuğundan OTRACK a fareyle sağ tıklayıp settings seçeneğini tıklayarak
c-) **Farenin imleci ekrandaki herhangi bir araç çubuğunun üzerindeyken sağ tuşa tıklayarak**
d-) Tools menüsünden Drafting Settings komutunu çalıştırarak
497. File menüsündeki “Exit” seçeneği ne amaçla kullanılır?
- a-) **Programı kapatmaya**
b-) Programı kapatmadan üzerinde çalışılan dosyayı kapatmaya
c-) Aktif komuttan işlem yapmadan çıkmaya
d-) Bilgisayarı kapatmaya
498. “Purge” komutu ne işe yarar?
- a-) Gereksiz yere çizilen çizgileri temizlemeye
b-) Çizime resim dosyası eklemeye
c-) **Çizimde kullanılmayan katman, block, çizgi tipi, vb. tanımlamaları temizlemeye**
d-) Ekrandaki noktaları silmeye
499. “Hatch” komutu hangi amaçla kullanılır?
- a-) Çizimleri gruplamaya
b-) **Tarama yapmaya**
c-) Çizime resim eklemeye
d-) Çizgileri polyline hale getirmeye

“ DOĞRU TERCİHLER SİZİ ÇÖZÜME GÖTÜRÜR “

Bizi Tercih Ettiğiniz İçin Teşekkür Ederiz, Tüm Kursiyerlerimize Sınavlarında Başarılar Dileriz..

İLETİŞİM : 0(258) 265 57 52 - 241 75 15 - 0530 565 95 60 – 532 168 41 11

www.cozumkariver.com

500. Daire çizme komutunun klavye kısa yolu aşağıdakilerden hangisidir?
a-) D
b-) DA
c-) Cİ
d-) C
501. İçi dolu küre çizmeyi sağlayan komutun simgesi aşağıdakilerden hangisidir?
a-) 
b-) 
c-) 
d-) 
502. Özellikle iki boyutlu çizimlerde, çizim unsurlarını düzenlemek için kullanılan komutlar hangi menü altında toplanmıştır?
a-) Draw
b-) File
c-) **Modify**
d-) Help
503. Çizimlere ölçülendirme yapmaya yarayan komutlar hangi menü altında toplanmıştır?
a-) Draw
b-) **Dimension**
c-) File
d-) Modify
504. AutoCAD'e dair aşağıdakilerden hangisi doğrudur?
a-) Çizim dosyalarının içerisine müzik eklemek için kullanılır
b-) Resim dosyalarına rötuş ve montaj yapan bir programdır
c-) Film dosyaları üzerinde oynama yapan bir programdır
d-) **Vektörel bir çizim programıdır**
505. Polar Array komutu hangi amaçla kullanılır?

“ DOĞRU TERCİHLER SİZİ ÇÖZÜME GÖTÜRÜR “

Bizi Tercih Ettiğiniz İçin Teşekkür Ederiz, Tüm Kursiyerlerimize Sınavlarında Başarılar Dileriz..

İLETİŞİM : 0(258) 265 57 52 - 241 75 15 - 0530 565 95 60 – 532 168 41 11

www.cozumkariver.com

- a-) Seçilen objeleri, seçilen bir merkezin çevresinde döndürerek kopyalamak için
- b-) Seçilen objeleri, seçilen bir merkezin etrafında döndürmek için
- c-) Seçilen objeleri doğrusal bir istikamette kopyalamak için
- d-) Seçilen çizgilerin seçilen bir merkeze uzaklığını öğrenmek için

506. Osnap komutu ile seçilen yakalama noktalarıyla ilgili aşağıdakilerden hangisi **yanlıştır?**

- a-) Tangent, teğet yakalar
- b-) Paralel, bir çizginin paralel açısını yakalar
- c-) End Point, çizgiyi orta noktasından yakalar
- d-) Center, dairenin merkez noktasını yakalar

507. Aşağıdakilerden hangisi Draw araç çubuğunda **bulunmaz?**

- a-) Revision Cloud
- b-) Imprint
- c-) Spline
- d-) Point

508. Aşağıdakilerden hangisi Modify araç çubunda bulunur?

- a-) 3D Rotate
- b-) Spline
- c-) Presspull
- d-) Explode

509. Seçilen çizgiyi taşımak için kullanılan komutuaraç çubuğunda yer alır.

- a-) Move-Draw
- b-) Mirror-Modify
- c-) 3D Rotate-Modeling
- d-) Line-İnsert

510. Köşelere pah kırmaya yarayan komutu araç çubuğunda yer alır.

- a-) Chamfer-Draw
- b-) Chamfer-Modify
- c-) Circle-Draw

“ DOĞRU TERCİHLER SİZİ ÇÖZÜME GÖTÜRÜR “

Bizi Tercih Ettiğiniz İçin Teşekkür Ederiz, Tüm Kursiyerlerimize Sınavlarında Başarılar Dileriz..

İLETİŞİM : 0 (258) 265 57 52 - 241 75 15 - 0530 565 95 60 – 532 168 41 11

www.cozumkariver.com

d-) Copy-Modify





511. Aşağıdaki komut ve araç çubuğu eşleştirmelerinden hangisi doğrudur?

- a-) Circle-Modify
- b-) Stretch-İnsert
- c-) Loft-Modeling
- d-) Tolerance-Layer





512. Aşağıdakilerden hangisi Osnap Settings'te mevcuttur?

- a-) Vertex
- b-) Perpendicular
- c-) Pilot
- d-) Face

513. Bir eksen etrafında dönerek dairesel formlarda katı oluşturan komut hangisidir?

- a-) 
- b-) 
- c-) 
- d-) 

514. Hangisi iki katının kesişim noktası haricindekileri yok edip, sadece kesişen kısımlarından yeni bir model oluşturur?

- a-) 
- b-) 
- c-) 
- d-) 

515.  Yandaki komutun adı nedir?

“ DOĞRU TERCİHLER SİZİ ÇÖZÜME GÖTÜRÜR “

Bizi Tercih Ettiğiniz İçin Teşekkür Ederiz, Tüm Kursiyerlerimize Sınavlarında Başarılar Dileriz..

İLETİŞİM : 0(258) 265 57 52 - 241 75 15 - 0530 565 95 60 – 532 168 41 11

www.cozumkariver.com

- a-) Ellipse Arc
- b-) Arc
- c-) Rotate
- d-) Erase



516. Yandaki komutun görevi nedir?

- a-) Seçilen öğeyi panoya kopyalar
- b-) Çizime resim ekler
- c-) Çizime renk verir
- d-) Katı objelere desen verir



517. Yandaki simge hangi diyalog penceresini açar?

- a-) Dimension Style Menager
- b-) Table Style
- c-) Layer
- d-) Plot

518. Aşağıdaki komut simgelerinden hangisi Modeling araç çubuğunda bulunur?

- a-)
- b-)
- c-)
- d-)

519. Region komutunun kullanılabilmesi için aşağıdakilerden hangisine dikkat edilmesi gerekir?

- a-) Region oluşturulmak istenen çizimin uçlarının kapalı olması gerekir
- b-) Sadece Rectangle komutuyla çizilmiş çizimlerde kullanılır

“ DOĞRU TERCİHLER SİZİ ÇÖZÜME GÖTÜRÜR “

Bizi Tercih Ettiğiniz İçin Teşekkür Ederiz, Tüm Kursiyerlerimize Sınavlarında Başarılar Dileriz..

İLETİŞİM : 0(258) 265 57 52 - 241 75 15 - 0530 565 95 60 – 532 168 41 11

www.cozumkariver.com

- c-) Dikkat edilecek bir durumu yoktur, her durumda çalışır
d-) Sadece daire komutlarında çalışır.

520. Aşağıdakilerden hangisi AutoCAD'in yapabileceklerinden birisi **değildir?**


- a-) Bina tasarımında kullanılabilir
b-) Çizgi film animasyonları yapılabilir
c-) Üç boyutlu tasarımlar yapılabilir
d-) Makine üretim çizimlerinin oluşturulmasında kullanılabilir

521. Trim komutunda düzenleme yaparken komuttan çıkmadan, "Extend" komutunu kullanabilmek için klavyeden hangi tuşa basılı tutmak gerekir.

- a-) Enter
b-) Shift
c-) ESC
d-) Windows tuşu

522. "CO" ve "CP" kısa yolları hangi komuta aittir?

- a-) Color
b-) Circle
c-) Copy
d-) Desing Center

- I. Modify araç çubuğundan  simgesi tıklanır
II. Uygulanması istenilen yarıçap yazılır, klavyeden Enter tuşuna basılır
III. Klavyeden R tuşuna basılır
IV. Yay çizilecek köşeyi oluşturan çizgiler sırası ile farenin sol tuşu yardımıyla tıklanır

523. Yukarıda Fillet komutu kullanırken yapılması gerekenler karışık olarak verilmiştir. Doğru sıralama aşağıdakilerden hangisi olmalıdır?

- a-) I-II-IV-III
b-) II-III-IV-I
c-) III-I-II-IV
d-) I-III-II-IV





“ DOĞRU TERCİHLER SİZİ ÇÖZÜME GÖTÜRÜR “

Bizi Tercih Ettiğiniz İçin Teşekkür Ederiz, Tüm Kursiyerlerimize Sınavlarında Başarılar Dileriz..

İLETİŞİM : 0(258) 265 57 52 - 241 75 15 - 0530 565 95 60 – 532 168 41 11


www.cozumkariver.com

524. Aşağıdakilerden hangisi AutoCAD’i başlatan masaüstü simgesidir?

- a-) 
b-) 
c-) 
d-) 

525. Aşağıdakilerden hangisi Daire komutunun içinde yer alan alt komutlardan **değildir**?

- a-) 3P
b-) 2P
c-) 1P
d-) Ttr

526.  Yandaki komut simgeleri hangi araç çubuğunda yer alır?

a-) Modify
b-) Draw
c-) Dimension
d-) Solid Editing

527. “XL” klavye kısa yolu hangi komutu çalıştırır?

- a-) Polyline
b-) Multiline
c-) Construction Line
d-) Polygon

528. “PR” klavye kısa yolu hangi diyalog penceresini açar?

- a-) Layer
b-) Properties

“ DOĞRU TERCİHLER SİZİ ÇÖZÜME GÖTÜRÜR “

Bizi Tercih Ettiğiniz İçin Teşekkür Ederiz, Tüm Kursiyerlerimize Sınavlarında Başarılar Dileriz..

İLETİŞİM : 0(258) 265 57 52 - 241 75 15 - 0530 565 95 60 – 532 168 41 11

www.cozumkariver.com

- c-) Table Style
- d-) Array

- 529.** Aşağıdakilerden hangisi “Modeling” araç çubuğu için söylenebilir?
- a-) İki boyutlu çizim komutlarını barındırır
 - b-) Üç boyutlu katı modellerde düzenleme işlemleri gerçekleştiren komutları barındırır
 - c-) Çizime dışarıdan obje getirmek için kullanılan komutları barındırır
 - d-) Üç boyutlu model oluşturan komutları barındırır

- 530.** Workspaces araç çubuğu hangi amaçla kullanılır?
- a-) Koordinat tanımlamalarını değiştirmek için
 - b-) Araç çubuklarını özelleştirmek için
 - c-) Objeye yakalama noktalarını belirlemek için
 - d-) Çizgilerin katmanlarını değiştirmek için

- 531.** Materials diyalog penceresine hangi araç çubuğundan ulaşabiliriz?
- a-) Inquiry
 - b-) UCS
 - c-) Layouts
 - d-) Render

- 532.** Ctrl+Z tuş kombinasyonunun görevi nedir?
- a-) En son yapılan değişikliği geri alır
 - b-) Seçilen çizgiyi kırmızı renge boyar
 - c-) Seçilen çizgiyi kopyalar
 - d-) Önceden seçilip kopyalanmış çizgiyi çizim alanına yapıştırır



533. Yandaki komutlar hangi araç çubuğunda yer alır?

- a-) Draw
- b-) Modify
- c-) Inquiry
- d-) Dimension



534. Yandaki komutların isimleri sırasıyla aşağıdakilerden hangisidir?

- a-) Copy-Offset-Mirror-Erase
- b-) Erase-Copy-Mirror-Offset
- c-) Mirror-Erase-Offset-Copy
- d-) Erase-Copy-Offset-Mirror

535. Presspull komutu için aşağıdaki yazılardan hangisi **yanlıştır**?

- a-) Ctrl ve Alt tuşlarına aynı anda basılması durumunda devreye girer
- b-) 2 ve 3 boyutlu çizimlerde kullanılabilir
- c-) Çizimlere yükseklik kazandırabildiği gibi parça çıkartma işlemi de gerçekleştirebilir
- d-) Sadece Region çizimlere yükseklik kazandırabilir

536. AutoCAD’te ışıklandırma işlemleri hangi araç çubuğu üzerin gerçekleştirilir?

- a-) Render
- b-) Web
- c-) Lights
- d-) Visual Styles

“ DOĞRU TERCİHLER SİZİ ÇÖZÜME GÖTÜRÜR “

Bizi Tercih Ettiğiniz İçin Teşekkür Ederiz, Tüm Kursiyerlerimize Sınavlarında Başarılar Dileriz..

İLETİŞİM : 0(258) 265 57 52 - 241 75 15 - 0530 565 95 60 – 532 168 41 11

www.cozumkariver.com

WWW.COZUMKARIYER.COM

“ DOĞRU TERCİHLER SİZİ ÇÖZÜME GÖTÜRÜR “

Bizi Tercih Ettiğiniz İçin Teşekkür Ederiz, Tüm Kursiyerlerimize Sınavlarında Başarılar Dileriz..

İLETİŞİM : 0(258) 265 57 52 - 241 75 15 - 0530 565 95 60 – 532 168 41 11

www.cozumkariyer.com