







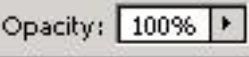


PHOTOSHOP SORULARI

- Windows 7 işletim sisteminde Photoshop uygulamasını başlatmanın yolu aşağıdakilerden hangisidir ?
 - Başlat-Tüm Programlar-donatılar
 - Başlat-Tüm Programlar**
 - Başlat-Belgelerim
 - Başlat-Başlangıç
- Photoshop' un uzantısı nedir?
 - .doc
 - .xls
 - .psd**
 - .hlp
- Photoshop' un ölçü birimi nedir?
 - Pixel**
 - Vektörel
 - İnch
 - Cm
- Ekranda bulunmayan pencereleri hangi menüden getirebiliriz?
 - File
 - Select
 - Window**
 - Layer
- Photoshop ' ta Metin yazmak için aşağıdaki simgelerden hangisi kullanılır?
 - 
 - 
 - 
 - **
-  I ve II numaralı simgelerin isimleri hangi şıkta doğru olarak verilmiştir.
 - ForeGround-BackGround**
 - BackGround-ForeGround
 - BackSpace-ForeSpace
 - ForeSpace- BackSpace

“ DOĞRU TERCİHLER SİZİ ÇÖZÜME GÖTÜRÜR “

Bizi Tercih Ettiğiniz İçin Teşekkür Ederiz, Tüm Kursiyerlerimize Snavlarında Başarılar Dileriz..


7. Aşağıdakilerden hangisi File-New-Background Contents Alanındaki seçeneklerden değildir
- BackGround Color
 - White
 - Black**
 - Transparent
8. Aşağıdaki seçeneklerden hangisi ile Yeni Layer Açamayız.
- Layer-New-Layer
 - Window-New-Layer**
 - Shift+Ctrl+N
 - 
9.  simgesinin görevi nedir?
- Sayfaya Göz çizmek için
 - Resimde göz rengi değiştirmek için
 - Layerı görebilmek için**
 - Layerı incelemek için
10.  simgesinin görevi nedir?
- Layer silmek için**
 - Layer kopyalamak için
 - Layera efekt vermek için
 - Layerı gizlemek için
11.  simgesi niçin kullanılır?
- Sayfaya %100 yazmak için
 - Sayfayı %100 yakınlaştırmak için
 - Yaptığınız işlemin %100 doğru olduğunu
 - Matlık derecesini ayarlamak için**
12. Aşağıdakilerden Hangisi filtrelerden değildir.
- Artistic

“ DOĞRU TERCİHLER SİZİ ÇÖZÜME GÖTÜRÜR “

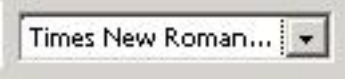
Bizi Tercih Ettiğiniz İçin Teşekkür Ederiz, Tüm Kursiyerlerimize Sınavlarında Başarılar Dileriz..İLETİŞİM : 0(258) 265 57 52 - 241 75 15 - 0530 565 95 60 – 532 168 41 11

www.cozumkariyer.com

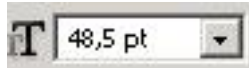
- b. Blur
- c. Distort
- d. Fill

13.  Type Tool işleminde yandaki simgenin işlevi nedir?

- a. Yazının altına eğik çizgi çizer
- b. Yazıya eğiklik ve çarpıklık verir
- c. T harfi yazar
- d. Yazı tipini ayarlar

14.  Type tool seçeneğinde Yandaki simgenin görevi nedir?

- a. Yazı tipi
- b. Yazı Tipi stili
- c. Yazı dili seçenekleri
- d. Paragraf seçenekleri

15.  Type tool seçeneğinde Yandaki simgenin görevi nedir?

- a. Yazı boyutu
- b. Yazı tipi stili
- c. Yazı derecesi
- d. Yazının yakınlaştırma oranı

16. Aşağıdakilerden hangisi Blending Options penceresi içerisindeki seçeneklerinden değildir.

- a. Drop Shadow
- b. Inner Shadow
- c. Stroke
- d. Drop Glow




17. Aşağıdaki simgelerden hangisi seçim için kullanılmaz.

- a. 

“ DOĞRU TERCİHLER SİZİ ÇÖZÜME GÖTÜRÜR “

Bizi Tercih Ettiğiniz İçin Teşekkür Ederiz, Tüm Kursiyerlerimize Sınavlarında Başarılar Dileriz..İLETİŞİM : 0(258) 265 57 52 - 241 75 15 - 0530 565 95 60 – 532 168 41 11

www.cozumkariyer.com

- b. 
- c. 
- d. 

18. Aşağıdaki menülerden hangisi Photoshop içerisinde bulunmaz.

- a. Image
- b. Select
- c. Window
- d. Table

19. Yeni çalışma sayfası hangi menüden açılır?

- a. File
- b. Select
- c. Layer
- d. Image



20. Çalışma sayfasında seçili alan dışındakileri nasıl seçeriz?

- a. Select- All
- b. Select – Deselect
- c. Select- invers
- d. Select-Select

21. Resim boyutunu hangi menüden ayarlayabiliriz?

- a. Image-Image size
- b. Select-Image size
- c. Layer-Image size
- d. File – Image size

22. Aşağıdaki simgelerden hangisi Seçilen bir alanı veya Layer (Katman)'ı taşımanıza yarar.

- a. 
- b. 

“ DOĞRU TERCİHLER SİZİ ÇÖZÜME GÖTÜRÜR “

Bizi Tercih Ettiğiniz İçin Teşekkür Ederiz, Tüm Kursiyerlerimize Sınavlarında Başarılar Dileriz..İLETİŞİM : 0(258) 265 57 52 - 241 75 15 - 0530 565 95 60 – 532 168 41 11

www.cozumkariyer.com



23. Aşağıdaki simgelerden hangisi İmaj üzerindeki benzer renkleri veya tonları seçmek için kullanılır.



24. I. _Clone Stamp Tool seçilir

II. Ctrl Tuşu ile istenilen yere tıklanır, buranın resim ve doku örneği alınır

III. bu örneği istediğimiz yere tıklanır

Yukarıda anlatılan işlem ile ilgili aşağıdakilerden hangisi doğrudur.

a. Bu işlem ile doku kopyalama işlemi yapılır

b. Bu işlem ile Doku kopyalama işlemi gerçekleştirilemez

c. Bu işlem ile birden fazla seçim yapılabilir

d. Bu işlem ile doku silme işlemi yapılır

25. Aşağıdaki Toolbox simgelerinden Hangisi ile İmajımız üzerinde serbestçe çizerek alan seçebilirsiniz.







“ DOĞRU TERCİHLER SİZİ ÇÖZÜME GÖTÜRÜR “





Bizi Tercih Ettiğiniz İçin Teşekkür Ederiz, Tüm Kursiyerlerimize Sınavlarında Başarılar Dileriz..İLETİŞİM : 0(258) 265 57 52 - 241 75 15 - 0530 565 95 60 – 532 168 41 11

www.cozumkariyer.com

26. Aşağıdaki Toolbox simgelerinden Hangisi Fırça etkisi sağlar ve boyama yapmamıza yarar.

- a. 
- b. 
- c. 
- d. 



27. Aşağıdaki Toolbox simgelerinden Hangisi İmajın arkaplan rengini kopyalayıp imaj üzerine seçilen alanı fırça etkisiyle boyar.

- a. 
- b. 
- c. 
- d. 

28.  ToolBox simgesinin görevi nedir?

- a. İmaj üzerinde istenilen yeri siler
- b. İmaj üzerinde istenilen yeri kopyalar
- c. İmaj üzerinde istenilen yeri keser
- d. İmaj üzerinde istenilen yere dikdörtgen çizer.

29. Aşağıdaki Toolbox simgelerinden Hangisi İmaj'a kenarlardan dışa doğru belirsizlik hissi verir.

- a. 
- b. 

“ DOĞRU TERCİHLER SİZİ ÇÖZÜME GÖTÜRÜR “

Bizi Tercih Ettiğiniz İçin Teşekkür Ederiz, Tüm Kursiyerlerimize Sınavlarında Başarılar Dileriz..İLETİŞİM : 0(258) 265 57 52 - 241 75 15 - 0530 565 95 60 – 532 168 41 11

www.cozumkariyer.com



30. Aşağıdaki Toolbox simgelerinden Hangisi İmaj'ın rengini dağıtmak, renkleri birbirine karıştırma için kullanılır.



31. Aşağıdaki Toolbox simgelerinden Hangisi İmaj'da aydınlanmış-ışıklanmış alan sağlar.



32. Aşağıdaki Toolbox simgelerinden Hangisi İmaj'da koyulaşmış-kararmış alan sağlar.



33. Aşağıdaki Toolbox simgelerinden Hangisi İmaj üzerinde yazı (text) yazmamızı sağlar



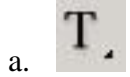
“ DOĞRU TERCİHLER SİZİ ÇÖZÜME GÖTÜRÜR “

Bizi Tercih Ettiğiniz İçin Teşekkür Ederiz, Tüm Kursiyerlerimize Sınavlarında Başarılar Dileriz..İLETİŞİM : 0(258) 265 57 52 - 241 75 15 - 0530 565 95 60 – 532 168 41 11


www.cozumkariyer.com




34. Aşağıdaki Toolbox simgelerinden Hangisi İmaj'a açıklayıcı yazı ekler.



35. Aşağıdaki Toolbox simgelerinden Hangisi Ekranı sığmayacak şekilde büyütülen imajlarda görünmeyen yerlere ulaşmak için kullanılır.



36. Aşağıdaki Toolbox simgelerinden Hangisi İmajın istenilen bölümüne yakınlaşmayı veya uzaklaşmayı sağlar.



37. Aşağıdaki Toolbox simgelerinden Hangisi İki yada daha çok rengin birbiri arasında yumuşak geçiş yaparak seçili alanın boyanmasını sağlar.




“ DOĞRU TERCİHLER SİZİ ÇÖZÜME GÖTÜRÜR “


Bizi Tercih Ettiğiniz İçin Teşekkür Ederiz, Tüm Kursiyerlerimize Sınavlarında Başarılar Dileriz..İLETİŞİM : 0(258) 265 57 52 - 241 75 15 - 0530 565 95 60 – 532 168 41 11

www.cozumkariyer.com



38. Aşağıdaki Toolbox simgelerinden Hangisi İmaj için örnek renk seçmemizi sağlar.



39. Yandaki renk paletinde bulunan  simgesinin görevi nedir?

- a. Çalışma sayfasına ok çizmek için kullanılır
- b. Background ve Foreground renklerinin ikisinide siyah yapar
- c. Background ve Foreground renklerinin ikisinide Beyaz yapar
- d. Background ve Foreground renkleri yer değiştirir

40. İmajda seçili alanın kopyası nasıl alınır

- a. Edit-copy
- b. layer-copy
- c. window-copy
- d. image-cut

41. Resim mod ayarları hangi menüden yapılır?

- a. İmage
- b. Layer
- c. File
- d. Select

42. Çalışma sayfasını kayıt işlemi hangi menüden yapılır?

- a. File-save
- b. Select – Save
- c. Select - Open

“ DOĞRU TERCİHLER SİZİ ÇÖZÜME GÖTÜRÜR “

Bizi Tercih Ettiğiniz İçin Teşekkür Ederiz, Tüm Kursiyerlerimize Sınavlarında Başarılar Dileriz..İLETİŞİM : 0(258) 265 57 52 - 241 75 15 - 0530 565 95 60 – 532 168 41 11

www.cozumkariyer.com

- d. File – Open
43. Cetveli nereden görüntüleyip gizleyebiliriz.
- a. View – Ruler
- b. View – Show
- c. Layer – Ruler
- d. Layer – Show
44. Açık olan pencereleri hangi menüden görebiliriz?
- a. File
- b. Image
- c. Layer
- d. Window
45. Seçili olan LAYERı silmek için aşağıdaki yöntemlerden hangisi kullanılır.
- a. File- Delete
- b. Layer- Delete
- c. Image- Delete
- d. Edit-Delete
46. Seçili olan LAYERı kopyalamak için aşağıdaki yöntemlerden hangisi kullanılır.
- a. File- Duplicate
- b. Layer- Duplicate
- c. Image- Duplicate
- d. Edit- Duplicate
47. Görünen tüm Layerları Birleştirmek için aşağıdaki işlemlerden hangisi uygulanır?
- a. Layer- Merge Down
- b. Layer – Merge Visible
- c. Layer – Merge
- d. Layer – Merge Into
48. Çalışma sayfası ayarları nereden yapılır?
- a. File – Page setup
- b. Layer- Page setup

“ DOĞRU TERCİHLER SİZİ ÇÖZÜME GÖTÜRÜR “

Bizi Tercih Ettiğiniz İçin Teşekkür Ederiz, Tüm Kursiyerlerimize Sınavlarında Başarılar Dileriz..İLETİŞİM : 0(258) 265 57 52 - 241 75 15 - 0530 565 95 60 – 532 168 41 11

www.cozumkariyer.com

- c. Image- Page setup
- d. Window- Page setup


49. Ekran görünüm ayarları hangi menüden yapılır?

- a. Edit
- b. Image
- c. Window
- d. View



50. Yandaki Toolbox simgesinin görevi nedir?

- a. El yazısı yazmak için
- b. Metin yazmak için
- c. Etkili ve denetimli seçim için
- d. Seçili alanı boyama için



51. Simgelerinin isimlerinin doğru sıralanışı hangi seçenekte doğru olarak verilmiştir.

- a. Type Tool- Clone Stamp Tool- Eraser Tool- Pen Tool
- b. Type Tool- Eraser Tool- Clone Stamp Tool- Pen Tool
- c. Pen Tool - Type Tool- Eraser Tool- Clone Stamp Tool
- d. Type Tool- Clone Stamp Tool- Eraser Tool- Hand Tool

52. Toolbox penceresini nereden görüntüleyip gizleyebiliriz?

- a. Edit- Tools
- b. View – Tools
- c. Window – Tools
- d. Layer- Tools

53. Seçili alana uygulanan filtre seçeneklerini yinelemek için hangi kısayol tuşu kullanılır?


- a. Ctrl+A
- b. Ctrl+N
- c. Ctrl+F

“ DOĞRU TERCİHLER SİZİ ÇÖZÜME GÖTÜRÜR “


Bizi Tercih Ettiğiniz İçin Teşekkür Ederiz, Tüm Kursiyerlerimize Sınavlarında Başarılar Dileriz..İLETİŞİM : 0(258) 265 57 52 - 241 75 15 - 0530 565 95 60 – 532 168 41 11

www.cozumkariyer.com

d. Ctrl+U

54.  Yandaki Toolbox simgesin görevi nedir?

- a. İmajı boya damlatır
- b. Tıklanılan yerin rengini alır
- c. Tıklanılan yeri boyar
- d. İmajın kopyasını alır

55.  Yandaki Toolbox simgesin görevi nedir?

- a. İmaj'ın renk doygunluğunu azaltıp, çoğaltmaya yarar.
- b. İmaj da tıklanılan yeri siler
- c. İmaj'a kenarlardan dışa doğru belirsizlik hissi verir.
- d. İmaj'ın kenarını dışa doğru keskinleştirme hissi verir.

56.  Yandaki Toolbox simgesin görevi nedir?

- a. İmaj'a kenarlardan dışa doğru belirsizlik hissi verir.
- b. İmaj'ın kenarını dışa doğru keskinleştirme hissi verir.
- c. İmaj'ın rengini dağıtmak, renkleri birbirine karıştırma, leke hissi verir.
- d. İmaj'da koyulaşmış-kararmış alan sağlar



57.  Yandaki Toolbox simgesin görevi nedir?

- a. İmaj'ın rengini dağıtmak, renkleri birbirine karıştırmaya yarar..
- b. İmaj'da aydınlanmış-ışıklanmış alan sağlar.
- c. İmaj'da koyulaşmış-kararmış alan sağlar
- d. İmaj'ın renk doygunluğunu azaltıp, çoğaltmaya yarar.

“ DOĞRU TERCİHLER SİZİ ÇÖZÜME GÖTÜRÜR “

Bizi Tercih Ettiğiniz İçin Teşekkür Ederiz, Tüm Kursiyerlerimize Sınavlarında Başarılar Dileriz..İLETİŞİM : 0(258) 265 57 52 - 241 75 15 - 0530 565 95 60 – 532 168 41 11

www.cozumkariyer.com

58.  Yandaki Toolbox simgesin görevi nedir?
a. İmaj'da aydınlanmış-ışıklandırılmış alan sağlar.
b. İmaj üzerindeki benzer renkleri seçim aracıdır.
c. Resmin belli noktalarını tek tek seçmenizi yapabilirsiniz.
d. İmajın istenilen bölümüne yakınlaşmayı veya uzaklaşmayı sağlar.
59.  Yandaki Toolbox simgesin görevi nedir?
a. Foreground ve, Background rengi belirlenir
b. İki yada daha çok rengin birbiri arasında yumuşak geçiş yaparak seçili alanın boyanmasını sağlar.
c. Arkaplan rengini silerek imajı transparent yapar.
d. Kullanılan seçili alandaki farklı boyama stillerine bakıp onları taklit ederek, fırça etkisiyle boyama yapar.
60. Aşağıdaki yöntemlerden hangisi seçili Layer'ı kopyalama yöntemlerinden değildir.
a. Layer- Duplicate Layer
b. Sağ tuş- Duplicate Layer
c. Ctrl + J
d. Ctrl + D
61. Ctrl + D tuşunun işlevi aşağıdakilerden hangisidir
a. Seçim yapar
b. Seçimi iptal eder
c. Seçimi genişletir
d. Seçimi daraltır
62. CTRL+ ALT+ Z kısa yol tuşunun görevi aşağıdakilerden hangisidir?
a. En son yapılan işlemi tekrar eder
b. En son yapılan işlemi geri alır
c. En son yapan işlemi siler
d. En son yapılan işlemleri saklar
63. CTRL+ SHIFT+ Z kısa yol tuşunun görevi aşağıdakilerden hangisidir?

“ DOĞRU TERCİHLER SİZİ ÇÖZÜME GÖTÜRÜR “

Bizi Tercih Ettiğiniz İçin Teşekkür Ederiz, Tüm Kursiyerlerimize Sınavlarında Başarılar Dileriz..İLETİŞİM : 0(258) 265 57 52 - 241 75 15 - 0530 565 95 60 – 532 168 41 11

www.cozumkariyer.com

- a. Geri alman işlemi yineler
- b. En son yapılan işlemi geri alır
- c. En son yapan işlemi siler
- d. En son yapılan işlemleri saklar

64. Sıralı olmayan birden çok Layer'ı seçebilmek için hangi yardımcı tuş kullanılır?


- a. Alt Gr
- b. CTRL
- c. Shift
- d. Caps Lock

65. Sıralı birden çok Layer'ı seçebilmek için hangi yardımcı tuş kullanılır?

- a. Alt Gr
- b. CTRL
- c. Shift
- d. Caps Lock

66. Herhangi bir Layer(Katman) silmek için hangi yöntem kullanılamaz?

- a. Layer Seçilir-Sağ tuş-Delete
- b. Layer Seçilir -Edit- Delete
- c. Layer Seçilir -Layer- Delete
- d. Layer Seçilir -Delete



Yukarıdaki simgelerden hangisi Pen Tool komutuna aittir ?

- a. I
- b. II
- c. III
- d. IV



yukarıdaki simgelerin hangisi ile seçili alanı, Foreground rengi ile doldurabilirsiniz.





- a. I
- b. II
- c. III
- d. IV

69. Aşağıdaki karşılaştırmalardan hangisi yanlıştır.

“ DOĞRU TERCİHLER SİZİ ÇÖZÜME GÖTÜRÜR “

Bizi Tercih Ettiğiniz İçin Teşekkür Ederiz, Tüm Kursiyerlerimize Sınavlarında Başarılar Dileriz..İLETİŞİM : 0(258) 265 57 52 - 241 75 15 - 0530 565 95 60 – 532 168 41 11

www.cozumkariyer.com

- a.  → Type Tool
- b.  → Pen Tool
- c.  → Crop Tool
- d.  → Zoom Tool

70. Kısayol tuşları hangi seçenekte doğru sıralanmıştır?

- Ctrl + X
Ctrl + C
Ctrl + V

- a. Kes - Kopyala – Yapıştır
b. Geri Al - Yinele – Kes
c. Kes – Yapıştır – Kopyala
d. Yapıştır – Kopyala – Kes

71. Aşağıda filtreler ile ilgili bilgilerden hangisi yanlıştır.

- a. Bir seferde sadece bir filtre uygulanabilir.
b. seçili bölgelere uygulanabilir
c. Filtre transparan tabakalara uygulanmaz
d. Sadece tüm tabakaya uygulanabilir

72. Aşağıdakilerden hangisi Photoshop ta kullanılan bir filtre değildir.

- a. Artistic
b. Blur
c. Distort
d. Add Noise

73. Aşağıdaki seçeneklerin hangisinde görüntü formatı olarak kullanılmaz.

- a. Bmp
b. Gif
c. Jpg
d. Doc

74. Aşağıdakilerden hangisi seçili alanın içini renk yada desen ile doldurur?

- a. Edit-fill
b. File-fill
c. Select-fill
d. Window-fill

75. Window/Layers ne işlem Yapar

- a. Layer siler

“ DOĞRU TERCİHLER SİZİ ÇÖZÜME GÖTÜRÜR “

Bizi Tercih Ettiğiniz İçin Teşekkür Ederiz, Tüm Kursiyerlerimize Sınavlarında Başarılar Dileriz..İLETİŞİM : 0(258) 265 57 52 - 241 75 15 - 0530 565 95 60 – 532 168 41 11


www.cozumkariyer.com

- b. Layer kopyalar
- c. Layer penceresini görüntüler
- d. Layer penceresini temizler

76. File/Pagesetup komut satırı ile aşağıdakilerden hangisi yapılamaz?

- a. Belge Boyutu
- b. Belgenin Yönelimi
- c. Belgenin kenar boşlukları
- d. Baskı önizleme seçenekleri

77. Aşağıdaki seçeneklerden hangisi açık olan belgeyi kapatmak için kullanılmaz.

- a. File- Exit
- b. Edit – Exit
- c. Başlık çubuğundaki  simgesi ile
- d. Görev Çubuğundan

78. Aşağıdakilerden Hangisi doğrudur?

- a. Photoshop vektörel tabanlı bir resim programıdır
- b. Photoshop piksel tabanlı resim programıdır
- c. Photoshop bir kelime işlemci programıdır
- d. Photoshop bir sunum programıdır

79. Bir dosyaya ait konum, içerik ve öz niteliği ile ilgili bilgileri öğrenebilmek için hangisi kullanılmalıdır ?


- a. Sağ tuş-Özellikler
- b. Dosya Menüsü-Yeni özellikler
- c. Sağ tuş-araştırılıyor
- d. Sağ tuş-Aç

80. New penceresinde aşağıdaki işlemlerin hangisi yapılamaz.

- a. Belge Adı
- b. Belge boyutu
- c. Renk modu
- d. Belge kenar boşlukları

81. Aşağıdakilerden hangisi renk modlarından değildir.

- a. CMYK
- b. RGB
- c. Grayscale
- d. JPG

82.  Type Tool seçeneğinde yandaki düğmelerin görevi sırası ile nedir?

“ DOĞRU TERCİHLER SİZİ ÇÖZÜME GÖTÜRÜR “

Bizi Tercih Ettiğiniz İçin Teşekkür Ederiz, Tüm Kursiyerlerimize Sınavlarında Başarılar Dileriz..İLETİŞİM : 0(258) 265 57 52 - 241 75 15 - 0530 565 95 60 – 532 168 41 11

www.cozumkariyer.com

- Sola hizalı – Sağa hizalı – İki yana yasla
- Sola Hizalı** – Ortalı – Sağa Hizalı
- Sağa Hizalı – Ortalı – Sola Hizalı
- Sağa hizalı – Ortalı - İki yana yasla



83. Yukarıdaki Pencereye göre Aşağıdakilerden hangisi yanlıştır.
- Yazı tipi Times New Roman
 - Yazı boyutu 9 pt**
 - Yazı boyutu 12 pt
 - Satır aralığı 9 pt
84. Seçili nesnenin yönünü değiştirmek için hangi menü kullanılır
- File
 - Edit**
 - View
 - Window
85. Seçili nesneyi 180° döndürmek için aşağıdaki seçeneklerden hangisi kullanılır?
- File – Transform
 - Edit – Transform**
 - View- Transform
 - Layer – Transform
86. Oluşturulan belgeyi 180° döndürmek için aşağıdaki seçeneklerden hangisi kullanılır?
- File – Transform
 - Layer – Tuvali Çevir
 - Image – Tuvali Çevir**
 - Layer-Transform
87. Image \ All seçeneği ne işe yarar?
- Belgenin tamamını seçer**
 - En son ekleneni seçer
 - İlk ekleneni seçer
 - Belgenin tamamını siler
88. Aşağıdakilerden hangisi Photoshopta Araç Kutusunu gösterir gizler?
- File – Tools

“ DOĞRU TERCİHLER SİZİ ÇÖZÜME GÖTÜRÜR “

Bizi Tercih Ettiğiniz İçin Teşekkür Ederiz, Tüm Kursiyerlerimize Sınavlarında Başarılar Dileriz..İLETİŞİM : 0(258) 265 57 52 - 241 75 15 - 0530 565 95 60 – 532 168 41 11

www.cozumkariyer.com

- b. Image – Tools
c. **Window - Tools**
d. Select – Tools
89. Aşağıdakilerden hangisi Photoshopta Options alanını gösterir gizler?
a. File – Options
b. Image – Options
c. Select - Options
d. **Window – Options**
90. Oluşturulan belge aşağıdaki hangi seçenek ile yazdırılır?
a. **File – Print**
b. Edit – Print
c. Image – Print
d. Select – Print
91. Aşağıdaki seçeneklerden hangisi Photoshop Programı ile yapılamaz.
a. Montaj
b. Rotüş (Temizleme ve tamir)
c. Efektler
d. **Hesap Tabloları**
92. Herhangi bir Pencereyi ekranda etkin yapıp kaldırmak için hangi menü kullanılır ?
a. Image
b. Layer
c. Edit
d. **Window**
93. Aşağıdakilerden hangisi Photoshopun ana menülerinden biri değildir.
a. File
b. Image
c. **Picture**
d. Filter
94. Photoshopta File menüsünde aşağıdaki seçeneklerden hangisi bulunmaz.
a. Save
b. Save As
c. Open
d. **All**
95. Photoshopta açık olan pencereleri hangi menüden görebiliriz.
a. **Window**
b. Layer
c. Image
d. File

“ DOĞRU TERCİHLER SİZİ ÇÖZÜME GÖTÜRÜR “

Bizi Tercih Ettiğiniz İçin Teşekkür Ederiz, Tüm Kursiyerlerimize Sınavlarında Başarılar Dileriz..İLETİŞİM : 0(258) 265 57 52 - 241 75 15 - 0530 565 95 60 – 532 168 41 11

www.cozumkariyer.com

96. Photoshopta açık olan pencereleri hangi menü ile döşeyebiliriz.

- a. Window
- b. Layer
- c. Image
- d. File

97. Belgenizin Boyutlarını deęiřtirmek için ařaęıdaki hangi menü ve sekme kullanılır?

- a. Image – Image Size
- b. Layer – Image Size
- c. Window- Image Size
- d. Select - Image Size

98. CTRL+ N kısa yol tuřunun görevi ařaęıdakilerden hangisidir?

- a. Yeni boş belge açar
- b. Daha önceden kaydedilen belgeyi açar
- c. En son yapan işlemleri siler
- d. En son yapılan işlemleri saklar

99. CTRL+ S kısa yol tuřunun görevi ařaęıdakilerden hangisidir?

- a. Çalışılan belgeyi siler
- b. Çalışılan belgeyi Kopyalar
- c. Çalışılan belgeyi Tařır
- d. Çalışılan belgeyi Kaydeder

100. Cetvel hangi menüden iptal edilir ve kaldırılır?

- a. File
- b. Edit
- c. Window
- d. View

101. Belgeyi JPG Formatında olarak kaydetmek için hangi yol izlenir?

- a. Dosya – Farklı Kaydet – Seçenekler
- b. Dosya – Aç – Belge Şablonu
- c. Dosya – Yeni – Şablon
- d. Dosya – Farklı Kaydet – Kayıt Türü – Jpg

102. Sayfa üzerinde seçili olan alan klavyeden nasıl kopyalanır?

- a. Ctrl + Z
- b. Ctrl + C
- c. Ctrl + X
- d. Ctrl + V





103. Sayfa üzerinde seçili olan alan klavyeden nasıl kesilir?

- a. Ctrl + Z

“ DOĐRU TERCİHLER SİZİ ÇÖZÜME GÖTÜRÜR “

Bizi Tercih Ettięiniz İçin Teşekkür Ederiz, Tüm Kursiyerlerimize Sınavlarında Başarılar Dileriz..İLETİŐİM : 0(258) 265 57 52 - 241 75 15 - 0530 565 95 60 – 532 168 41 11

www.cozumkariyer.com

- b. Ctrl + C
c. **Ctrl + X**
d. Ctrl + V
104. Sayfa üzerinde daha önceden kesilen veya kopyalanan bir alan klavyeden nasıl yapıştırılır?
a. Ctrl + Z
b. Ctrl + C
c. Ctrl + X
d. **Ctrl + V**
105. Mevcut araç çubuklarını ekranda nasıl aktif yapıp gizleyebiliriz?
a. **Window menüsü**
b. File Menüsü
c. Select Menüsü
d. Image menüsü
106. Belgeyi değişik bir isimle saklamak için aşağıdaki şıklardan hangisi kullanılır?
a. File – Save
b. **File – Save As**
c. File – Open
d. File – New
107.  Düğmesinin görevi nedir?
a. **Belgeye dörtgen çizmeye yarar.**
b. Çizilen şekillere üç boyut vermeye yarar.
c. Çizilen şekillere gölge eklemeye yarar.
d. Belgemize metin kutusu eklemeye yarar
108. Seçili alanın dışındakiler hangi yöntemle seçilir?
a. Select – All
b. Ctrl + A
c. Image – All
d. **Select – Invent**
109. Kes – Kopyala – Yapıştır seçenekleri hangi menüde bulunur?
a. File
b. **Edit**
c. Select
d. Window
110. Aşağıdakilerden hangisi yalnızca birini seçmek için kullanılır?
a. 
b. 
c. 

“ DOĞRU TERCİHLER SİZİ ÇÖZÜME GÖTÜRÜR “

Bizi Tercih Ettiğiniz İçin Teşekkür Ederiz, Tüm Kursiyerlerimize Sınavlarında Başarılar Dileriz..İLETİŞİM : 0(258) 265 57 52 - 241 75 15 - 0530 565 95 60 – 532 168 41 11

www.cozumkariyer.com

d. 

111. Photoshop a ait tüm kısayolları hangi menüden görebiliriz?

a. File

b. Edit

c. View

d. Window

112. Çalışma alanımızı tam ekran moduna getirebilmek için hangi menüyü kullanılır?

a. View – Screen Mode

b. File – Screen Mode

c. Layer - Screen Mode

d. Window - Screen Mode


113. Yeni boş bir çalışma sayfası oluşturmak için hangi kısayol tuşu kullanılır?

a. Ctrl + E

b. Ctrl + N

c. Ctrl + A

d. Ctrl + Z

114.  simgesinin görevi nedir?

a. Renk tonları aynı olan bölgeleri siler

b. Fonu Silen silgi

c. Fon üzerine tek renk döker

d. Hiçbir işe yaramaz

115. Katmanları sabitlemek için aşağıdaki seçeneklerden hangisi kullanılır;?

a. 


b. 

c. 

“ DOĞRU TERCİHLER SİZİ ÇÖZÜME GÖTÜRÜR “

Bizi Tercih Ettiğiniz İçin Teşekkür Ederiz, Tüm Kursiyerlerimize Sınavlarında Başarılar Dileriz..İLETİŞİM : 0(258) 265 57 52 - 241 75 15 - 0530 565 95 60 – 532 168 41 11

www.cozumkariyer.com

- d. 
116. Çizilen bir şekli resme dönüştürmek için aşağıdaki işlemlerden hangisi yapılmalıdır
- Şekil Layerı üzerinde sağtuş – Merge Down
 - Şekil Layerı üzerinde sağtuş – Merge Visible
 - Şekil Layerı üzerinde sağtuş – Rasterize Layer
 - Şekil Layerı üzerinde sağtuş – image to Layer
117. Blending options seçeneklerinin hangisi gölge vermek için kullanılır
- Drop Shadow
 - Stroke
 - Inner Glow
 - Outer Glow
118. Blending Options seçeneklerinin hangisi seçili şeklin dışına çerçeve vermek için kullanılır
- Drop Shadow
 - Stroke
 - Inner Glow
 - Outer Glow
119. Blending Options seçeneklerinin hangisi seçili şekle kabarıklık etkisi vermek için kullanılır
- Drop Shadow
 - Bevel and Emboss
 - Outer Glow
 - Satin
120. Blending Options seçeneklerinin hangisi seçili şeklin dışına ışık etkisi vermek için kullanılır
- Outer Glow
 - Inner Glow
 - Outer Glow
 - Satin


“ DOĞRU TERCİHLER SİZİ ÇÖZÜME GÖTÜRÜR “

Bizi Tercih Ettiğiniz İçin Teşekkür Ederiz, Tüm Kursiyerlerimize Sınavlarında Başarılar Dileriz..İLETİŞİM : 0(258) 265 57 52 - 241 75 15 - 0530 565 95 60 – 532 168 41 11

www.cozumkariyer.com

121.





Yukarıdaki layer simgesinde bulunan  simgesinin anlamı nedir?

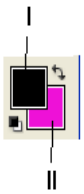
- a. Burada matematiksel bir çizim yapıldığı
- b. Burada metinsel bir yazı yazıldığı
- c. Burada filtre kullanıldığını
- d. Burada Blending Options seçeneklerinin kullanıldığını
- e. Burada Blending Options seçeneklerinin kullanıldığını

122.

İmajı dilimlere bölmek için aşağıdaki simgelerden hangisi kullanılır.

- a.  Slice Tool
- b.  Background Eraser Tool
- c.  Paintbrush Tool
- d.  Burn Tool

123. Yandaki Şekil İle ilgili verilenlerden hangisi yanlıştır.



- a) I nolu bölge Froground (Ön alan) rengidir
- b) II Nolu bölge Background rengidir
- c) X Tuşuna basıldığında Renkler Standart renklere döner
- d) I Nolu bölgenin rengini değiştirmek için çift tıklama yeterlidir.

124.

Yukarıda verilmiş olan numaralı Tool aracı öğelerinden hangileri Seçim aracı olarak

kullanılmaz ?

- a) I – IV
- b) Yalnız III
- c) II – IV
- d) II – III

125.

 Yandaki Tools menüsüne ait düğmenin görevi aşağıdakilerden hangisidir ?


- a) Crop : Resim Seçmek için kullanılır

“ DOĞRU TERCİHLER SİZİ ÇÖZÜME GÖTÜRÜR “


Bizi Tercih Ettiğiniz İçin Teşekkür Ederiz, Tüm Kursiyerlerimize Sınavlarında Başarılar Dileriz..İLETİŞİM : 0(258) 265 57 52 - 241 75 15 - 0530 565 95 60 – 532 168 41 11

www.cozumkariyer.com

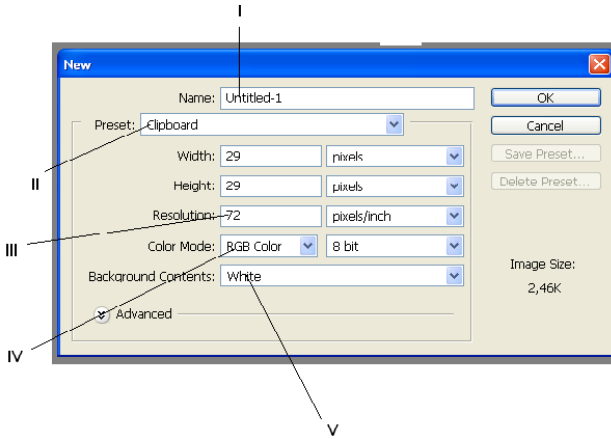
- b) Resmin İstenilen bölgesini seçer ve kırpar
- c) Resmin karanlık bölgelerini seçer
- d) Resim üzerinde işlem yapamaz

126.  Yandaki Tools menüsüne ait düğmenin görevi aşağıdakilerden hangisidir ?

- a) Crop : Resim Seçmek için kullanılır
- b) Stamp Tool : Belirli bir bölgenin aydınlığını azaltır
- c) Resmin karanlık bölgelerini seçer
- d) Stamp Tool : Belirli bir bölgenin dokusunu bir başka yere dokumak için kullanılır

127.  Yandaki Tools menüsüne ait düğmenin görevi aşağıdakilerden hangisidir ?

- a) Crop : Resim Seçmek için kullanılır
- b) Stamp Tool : Belirli bir bölgenin aydınlığını azaltır
- c) Erase Tool : Resim üzerinde Silme İşlemi yapar
- d) Stamp Tool : Belirli bir bölgenin dokusunu bir başka yere dokumak için kullanılır



Not : 135 – 136 ve 137 sorular yukarıdaki şekle göre cevaplanacaktır.

128. Yukarıdaki şekilde numaralandırılmış bölgelerle ilgili açıklamalardan hangisi yanlıştır.

- I. Yeni açılan Dokümana İsim vermek için kullanılır
- II. Standart Boyutlara ayarlamak için kullanılır
- III. Resmin Rengini belirlemek için kullanılır
- a) Yalnız I

- b) Yalnız II
- c) Yalnız III
- d) I – III

129. Yukarıdaki şekilde bulunan verilerden hangisi yanlıştır.

- a) Width(Genişlik) 29 pixel'dir
- b) Height (Yükseklik) 29 pixel'dir
- c) Resolution 72 inc'dir

“ DOĞRU TERCİHLER SİZİ ÇÖZÜME GÖTÜRÜR “

Bizi Tercih Ettiğiniz İçin Teşekkür Ederiz, Tüm Kursiyerlerimize Sınavlarında Başarılar Dileriz..İLETİŞİM : 0(258) 265 57 52 - 241 75 15 - 0530 565 95 60 – 532 168 41 11

www.cozumkariyer.com

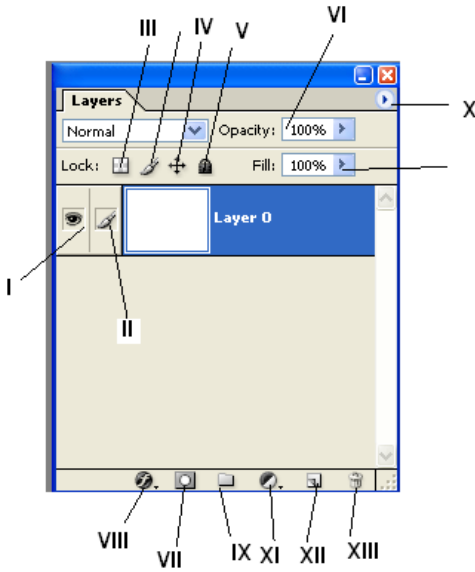
d) Arka plan rengi transparent'dır.

130. Yukarıdaki verilen şekilde hangi menüden arka plan rengi ayarlanır.

- a) Resolution
- b) Background contentst
- c) Height
- d) Color mode

131. Layers penceresini ekrana getirmek için aşağıdaki yollardan hangisi kullanılır

- a) Window - Layers
- b) View – Layers
- c) Ctrl – R
- d) F8



Not :134,135,136 ,137. sorular yukarıdaki şekle göre cevaplandırılacaktır

132. Yukarıda verilen bilgilere göre V , IV ve II nolu bölgeler hakkında yapılan tanımlamalardan hangisi yanlıştır.

- a. II Nolu simge seçili Layer'da İşlem yapıldığını gösterir
- b. V Nolu Simge seçili layer de üzerinde hiçbir işlem yapılmaması için kilitlemek için kullanılır
- c. IV nolu simge Layer de hareket sınırlama işlemi yapar

“ DOĞRU TERCİHLER SİZİ ÇÖZÜME GÖTÜRÜR “

Bizi Tercih Ettiğiniz İçin Teşekkür Ederiz, Tüm Kursiyerlerimize Sınavlarında Başarılar Dileriz..İLETİŞİM : 0(258) 265 57 52 - 241 75 15 - 0530 565 95 60 – 532 168 41 11

www.cozumkariyer.com

d. II Nolu simge seçili Layer'da Boyama işlemi yapar

- I. Nolu simge Layerleri aktif yapmak için kullanılır
- II. Nolu simge Fırça ucu seçmek için kullanılır
- III. Arka planı transparan yapar
- IV. Layerda bulunan nesnelere Hareket sınırlaması kor.
- V. Layer'ı tüm işlemlere kilitler
- VI. Transparanlık ve Şeffaflık eklemek için kullanılır

133. Yukarıdaki verilen eşleştirmelerden hangisi yanlıştır ?

- a) I – III – V – IV
- b) Yalnız III
- c) II – III
- d) Yalnız VI

134. Verilen şekle göre hangi düğme yeni layer eklememizi sağlar ?

- a) X b) XI c) XII d) VII

135. Layerları gruplamak istersek kaç numaralı simgeyi kullanmalıyız

- a) VII B) VIII c) IX d) IV

136. Herhangi bir Layer'a Kabartma Efektini nasıl uygularız?

- a) Layer Seçilir – VIII nolu bölgeden – Bevel and Embos Seçilir
- b) Layer Seçilir – VII nolu bölgeden – Bevel and Embos Seçilir
- c) Layer Seçilir – VIII nolu bölgeden – Drop Shadow Seçilir
- d) Layer Seçilir – VII nolu bölgeden – Drop Shadow Seçilir

137. CTRL – D Tuş kombinasyonunun görevi aşağıdakilerden hangisidir?

- a) Seçim alanına yeni bir seçim eklemek
- b) Seçimi yinelemek
- c) Seçimi İptal Etmek
- d) Tümünü Seçmek

138. CTRL- + Tuşu ile aynı görevi üslenen menü seçeneği aşağıdakilerden hangisidir.

- a. View – Zoom Out

“ DOĞRU TERCİHLER SİZİ ÇÖZÜME GÖTÜRÜR “

Bizi Tercih Ettiğiniz İçin Teşekkür Ederiz, Tüm Kursiyerlerimize Sınavlarında Başarılar Dileriz..İLETİŞİM : 0(258) 265 57 52 - 241 75 15 - 0530 565 95 60 – 532 168 41 11

www.cozumkariyer.com

- b. View - Zoom İn
- c. View – Rulers
- d. Window – Zoom Out

139. Herhangi bir Layer Saat yönünde 30° döndürülmek istenirse aşağıdaki yöntemlerden hangisi kullanılır ?

- a) Edit – Transform – Vertical
- b) Image – Rotate Canvas – Arbitrary
- c. Edit – Transform - Arbitrary
- d) Edit – Transform – Skev

140. CTRL – ALT – Z tuş kombinasyonunun görevi nedir?

- a) En son 20 işlemi geri almak için kullanılır
- b) Yapılan işlemleri iptal etmek için kullanılır
- c) Feather menüsünü açmak için kullanılır
- d) Açık olan pencereyi kapatır

141. Herhangi bir seçim alanına seçim araçlarından biri kullanılarak yeni bir alan ilave edilmek istenirse hangi yardımcı tuş kullanılır?

- a) Shift
- b) Ctrl
- c) Ctrl + shift
- d) Alt

142. Herhangi bir seçim alanından seçim araçlarından biri kullanılarak bir alan çıkarılmak istenirse hangi yardımcı tuş kullanılır?

- a) Shift
- b) Ctrl
- c) Ctrl + shift
- d) Alt

143. Yapılan seçimi gizlemek için kullanılan tuş kombinasyonu aşağıdakilerden hangisidir.

- a) Alt – D
- b) Ctrl – H
- c) Ctrl – D
- d) Shift – Ctrl – I

144. . Bir imajdaki Seçili alanın dışında kalan bölge nasıl seçilir ?

- a) Alt – D
- b) Ctrl – H(İnvers)
- c) Ctrl – D(İnvers)

“ DOĞRU TERCİHLER SİZİ ÇÖZÜME GÖTÜRÜR “

Bizi Tercih Ettiğiniz İçin Teşekkür Ederiz, Tüm Kursiyerlerimize Sınavlarında Başarılar Dileriz..İLETİŞİM : 0(258) 265 57 52 - 241 75 15 - 0530 565 95 60 – 532 168 41 11

www.cozumkariyer.com

d) Shift – Ctrl – I (İnvrs)

145. Select Menüsinde bulunan Select Transform ile Edit mensünde bulunan Free Transform arasındaki fark nedir ?

- a) Select Transform Seçili alanda döndürme , Free Transform ise Seçili bir Layerda nesne eğiminde kullanılır.
- b) Select Transform layerların boyutlarını , Free Transform ise Seçili karenin eğiminde kullanılır
- c) Select Transform Seçili alan boyutlarını , Free Transform ise Seçili bir Layerda nesne eğiminde kullanılır
- d) İkiside aynı görevde kullanılabilir

146. Aşağıdakilerden hangisi photoshop menüsünde bulunmaz?

- a) İmage b) file c) Arange d) Filter

147. Layer penceresinde bulunan aktif görüntülen Layerleri birleştirmek istersek hangi yol izlenir?

- a) Layer – Merge Down
- b) Edit - Merge Layer
- c) İmage - Merge Layer
- d) Layer – Merge Viseble

148. Herhangi bir resmin arka plan boyutu (Background) değiştirilmek istenirse hangi yol izlenir.

- a) İmage – İmage Size
- b) İmage – Canvas size
- c) İmage – Crop
- d) İmaj – Trim

149. Çalışmakta olduğumuz belgeye cetvel nereden eklenir kaldırılır ?

- a) View – Show – Rulers
- b) View – Rulers
- c) Window – Rulers
- d) Edit – Rulers

“ DOĞRU TERCİHLER SİZİ ÇÖZÜME GÖTÜRÜR “

Bizi Tercih Ettiğiniz İçin Teşekkür Ederiz, Tüm Kursiyerlerimize Sınavlarında Başarılar Dileriz..İLETİŞİM : 0(258) 265 57 52 - 241 75 15 - 0530 565 95 60 – 532 168 41 11

www.cozumkariyer.com

150. Herhangi bir Image üzerinde çalışırken , Hue / Saturation menüsüne ulaşmak için aşağıdaki tuşlardan hangisi kullanılır ?

- a) CTRL – U
- b) CTRL – ALT – U
- c) CTRL – H
- d) CTRL – SHIFT – H

151. Tarayıcıdan çok koyu taranmış bir görüntünün ton aralığı üzerinde basit bir ayarlama yapmamız gerekiyorsa aşağıdaki seçeneklerden hangisini kullanırız ?

- a) Image > Adjustments –Brightness/Contrast
- b) Image > Adjustments –Variations
- c) Image > Adjustments
- d) Filters – Render – Lens Frea

152. Kontrastı değiştirmeden bir görüntüdeki ışıklandırma ve gölge miktarını kontrol etmek istersek aşağıdaki yollardan hangisini izlememiz gerekir ?

- a) Image > Adjustments –Brightness/Contrast
- b) Image > Adjustments –Shadow / Highlight
- c) Image > Render – Lens Frea
- d) Filters – Render – Lens Frea

153. Sisli bir havada çekilmiş bir fotoğrafın renkleri soluk görünüyorsa , aşağıdakilerden hangisi ile düzelteriz.?

- a) Doygunluğunu Artırırım
- b) Parlaklığı azaltırım
- c) Fotoğrafi daha parlak renklerle boyarım
- d) Bu resmin kontrastını değiştiririm.

154. Seçili bir alana Ön alan rengi ile doldurmak istersek aşağıdaki kısa yollardan hangisi kullanılmalıdır?

- a) SHIFT – DELETE
- b) ALT – DELETE
- c) CTRL – DELETE
- d) ALT – BACSPACE

155. Ön plan ve Arka plan renklerini standart olarak (siyah ve Beyaz) nasıl ayarlarız ?

- a) Klavyeden ALT – D kısa yolu ile
- b) Klavyeden D tuşuna basarız

“ DOĞRU TERCİHLER SİZİ ÇÖZÜME GÖTÜRÜR “

Bizi Tercih Ettiğiniz İçin Teşekkür Ederiz, Tüm Kursiyerlerimize Sınavlarında Başarılar Dileriz..İLETİŞİM : 0(258) 265 57 52 - 241 75 15 - 0530 565 95 60 – 532 168 41 11

www.cozumkariyer.com

- c) Klavyeden X tuşuna basarız
d) CTRL ve Üst Karakter Tuşu
156. Bir seçimi yola çevirmek istersek aşağıdaki işlemlerden hangisi yapılmalıdır ?
a) Seçim yola çevrilmez
b) Seçim üzerinde Sağtuş – açılan menüden Work Path seçeneği tıklanır
c) Seçim aktif ken CTRL – P kısa yolu ile
d) Brick dokusuyla çizerek
157. Herhangi bir yazı yada resme Rüzgar efekti verilmek istenirse aşağıdaki yollardan hangisi izlenmelidir.
a) FİLTER – DISTORT – WIND
b) FİLTER – STYLIZE – WIND
c) FİLTER – DISTORT – RIPPIL
d) Rüzgar Efekti verilemez
158. Layers paletinde herhangi bir Layer simgesi üzerinde T harfi varsa bu ne anlama gelir ?
a) T harfi olan layerda T harfinin yazdığı
b) T harfinin bulunduğu layerin yazı yazmak için oluşturulmuş özel bir yazı layeri olduğunu
c) T harfine benzeyen bir şeklin o katmand çizili olduğunu
d) Yazıya katman sitilleri uygulanmıştır
159. Magic Wand aracını daha hassas çalışmasını sağlamak için aşağıdaki seçeneklerden hangisi kullanılır
a) Aracı Sert kullanmak
b) Tolerance değerini Artırmak
c) Tolerance değerini Azaltmak
d) Artırmak için mousenin sağ tuşuna basılı tutarız
160. Bir tek piksel satırını veya sütununu seçmek için ne yapılır
a) Çift tıklarken CTRL – C ve Enter tuşuna çuinln
b) Fareyi sürüklerken Enter tuşuna basılı tutarak
c) Single Row veya Single Column marque seçeneklerini kullanarak
d) Tek piksellik satır yada sütun seçilemez
161. Basılacak sayfalar için hangi renk modunu kullanmalıyız

“ DOĞRU TERCİHLER SİZİ ÇÖZÜME GÖTÜRÜR “

Bizi Tercih Ettiğiniz İçin Teşekkür Ederiz, Tüm Kursiyerlerimize Sınavlarında Başarılar Dileriz..İLETİŞİM : 0(258) 265 57 52 - 241 75 15 - 0530 565 95 60 – 532 168 41 11

www.cozumkariyer.com

- a) CMY
- b) CMYK**
- c) LAB
- d) PANTONE

162. Herhangi bir layer da seçili bir alanın kopyasını almak istersek aşağıdaki tuş kombinasyonlarından hangisini kullanılır?

- a) Ctrl – J**
- b) Ctrl – V
- c) Ctrl – X
- d) Hiç Biri Kullanılmaz

163. Bir Resim üzerinde çalışırken Layers Paletinde bulunan bir Layer’i seçip Layer menüsünde **Merge Down** komutunu verirsek aşağıdaki işlemlerden hangisi gerçekleşir ?

- a) Seçilmiş olan aktif layer ve bir önceki Layer birleşip tek layer haline gelir**
- b) Layerların Tamamı birleşir
- c) Layer Menüsünde böyle bir seçenek yok
- d) Layerlar bir birine kilitlenir

164. Photoshopta hazırlanmış bir resmi Web sayfası olarak kaydetmek istersek hangi seçeneği kullanmalıyız ?

- a) Edit - Save For Web**
- b) File – Save For Web
- c) File – Save As Web
- d) File – Save yapar Kayıt türünü değiştiririm

165. Aşağıdakilerden hangisi bir resme ait uzantı değildir.?

- a) BMP
- b) JPG
- c) TIF
- d) DLL**

“ DOĞRU TERCİHLER SİZİ ÇÖZÜME GÖTÜRÜR “

Bizi Tercih Ettiğiniz İçin Teşekkür Ederiz, Tüm Kursiyerlerimize Sınavlarında Başarılar Dileriz..İLETİŞİM : 0(258) 265 57 52 - 241 75 15 - 0530 565 95 60 – 532 168 41 11

www.cozumkariyer.com

166. Photoshopta yapılan işlemlerin her biri adım adım nerede tutulur , nereden göre biliriz ?
- a) History Paletinden
 - b) Layers Paletinden
 - c) Path Paletinden
 - d) Chanel Paletinden
167. Photoshopta çalışırken PDF uzantılı bir nesne eklemek istersek nereden yaparız?
- a) File – İmport
 - b) File – Export
 - c) Kopyala Yapıştır Yöntemi ile
 - d) Bu işlem yapılamaz
168. Bir katmanı gizlemek için aşağıdaki yöntemlerden hangisi kullanılır ?
- a) Gizlenecek olan Layer seçilir göz simgesi tıklanır
 - b) Layerlar gizlenemez
 - c) Layer seçili ike Ctrl – H tuşuna basılır
 - d) Layer seçilir Çöp kutusu tıklanır

CORELDRAW SORULARI

169. CorelDraw programı nasıl bir programdır?
- a) Objeye esaslı bir tasarım programıdır.
 - b) Vektörel bir çizim programıdır.
 - c) Resim düzenleme programıdır
 - d) Yazım işlemlerinin yapıldığı Mizanpaj programıdır
170. CorelDraw ile açılan bir dosyanın kaydedilmeden önceki standart ismi aşağıdakilerden hangisidir?
- a) UNTITLED-1
 - b) UNITED -1
 - c) DOCUMENT 1
 - d) TABLE -1
171. CorelDraw ile oluşturulan bir belgenin standart uzantısı nedir?
- a) .Cdr
 - b) .Eps
 - c) .Fh11
 - d) .Ai

“ DOĞRU TERCİHLER SİZİ ÇÖZÜME GÖTÜRÜR “

Bizi Tercih Ettiğiniz İçin Teşekkür Ederiz, Tüm Kursiyerlerimize Sınavlarında Başarılar Dileriz..İLETİŞİM : 0(258) 265 57 52 - 241 75 15 - 0530 565 95 60 – 532 168 41 11

www.cozumkariyer.com

172. CorelDraw ile oluşturulan ve kaydedildikten sonra Illustrator, Photoshop gibi programlarda da kayıtlı dosyayı çalıştırmak istersek ne yapmalıyız?

- a) Dosya kayıt aşamasında Kayıt türünü EPS olarak ayarlamalıyız
- b) File – EXPORT seçeneğinden kaydetmeliyiz
- c) Böyle bir işlem gerçekleşmez
- d) Oluşturulan dosyanın uzantısını Ft11 yapmalıyız

173. CorelDraw’ da yeni bir çalışma sayfası nasıl açılır?

- a) File > New
- b) File > Import
- c) File > Open
- d) Ctrl –

174. Grayscale Renk modu kaç renk tonundan oluşur.


- B) Kırmızı – Siyah – Sarı
- C) Yalnız siyah
- D) Siyah – Beyaz
- E) Cyan – Magenta – Siyah

175. CorelDraw’ a resim dosyası eklemek istersek hangi yolla ekleriz?

- a) File > Import
- b) File > Export
- c) File > print
- d) File > Open As

176. CorelDraw’ da Toolbox araç çubuğunu aktif etmek istersek nereden ekleriz?

- a) View – Tools
- b) Window – Toolbars – Toolbox
- c) View – Rulers
- d) Window – Rulerss


177.  Yandaki şekil (Pick Tool) aracının görevi aşağıdakilerden hangisidir?

- a) Nokta ve elemanlarını seçmek taşımak, büyütme ve küçültme için kullanılır
- b) Yapılan bir çizimin grubunu bozmak için kullanılır
- c) Çizim yapar
- d) Hiçbir işlem yapmaz sadece Mouse göstergesidir.

“ DOĞRU TERCİHLER SİZİ ÇÖZÜME GÖTÜRÜR “

Bizi Tercih Ettiğiniz İçin Teşekkür Ederiz, Tüm Kursiyerlerimize Sınavlarında Başarılar Dileriz..İLETİŞİM : 0(258) 265 57 52 - 241 75 15 - 0530 565 95 60 – 532 168 41 11


www.cozumkariyer.com

178.  Yandaki şekil (Shape Tool) aracının görevi aşağıdakilerden hangisidir?

- a) Nokta ve elemanlarını seçmek taşımak, büyütme ve küçültme için kullanılır
- b) Yapılan bir çizimin grubunu bozmak için kullanılır
- c) Çizim yapar
- d) Çizimin bağlantı noktalarını seçmek ya da detaylı seçim yapmak için kullanılır.

179.  Layout menüsü altında bulunan, Insert Page aracının görevi aşağıdakilerden hangisidir?


- a) Açık olan dokümana yeni sayfa ekler
- b) Sayfayı kapatmak için kullanılır
- c) Sayfaya numara eklemek için kullanılır
- d) Sayfa üzerinde yazı aracıdır

180.  Yandaki Tools araç çubuğunda bulunan Pen aracının görevi aşağıdakilerden hangisidir?

- a) Hassas çizgisel formlar ve alanlar oluşturmak için kullanılır
- b) Yazı yazma aracıdır
- c) Yazı üzerinde müdahale etme imkânı sağlayan araçtır
- d) Şekil seçmek için kullanılır

181.  Yandaki Tools araç çubuğunda bulunan Color Eyedropper aracının görevi aşağıdakilerden hangisidir?

- a) Hassas çizgisel formlar ve alanlar oluşturmak için kullanılır
- b) Yazı yazma aracıdır
- c) Yazı üzerinde müdahale etme imkânı sağlayan araçtır
- d) Çalışma alanı üzerindeki herhangi bir alanın rengini seçip renk paletine eklemek için kullanılır

182.  Yandaki Tools araç çubuğunda bulunan Text aracının görevi aşağıdakilerden hangisidir?

- a) Hassas çizgisel formlar ve alanlar oluşturmak için kullanılır
- b) Yazı yazma aracıdır
- c) Yazıyı çizime çevirir
- d) Çalışma alanı üzerindeki herhangi bir alanın rengini seçip renk paletine eklemek için kullanılır

“ DOĞRU TERCİHLER SİZİ ÇÖZÜME GÖTÜRÜR “

Bizi Tercih Ettiğiniz İçin Teşekkür Ederiz, Tüm Kursiyerlerimize Sınavlarında Başarılar Dileriz..İLETİŞİM : 0(258) 265 57 52 - 241 75 15 - 0530 565 95 60 – 532 168 41 11

www.cozumkariyer.com

183.  Tools paleti öğelerinden şekilde görünen Rectangle aracının görevi aşağıdakilerden hangisidir?

- a) Sayfaya direkt müdahale etmek ve sayfayı bir çizimmiş gibi büyütüp küçültmek için kullanılır
- b) Sayfayı yatay çevirmek için kullanılır
- c) Sayfaya dörtgen çizmek için kullanılır
- d) Sayfa üzerinde yazı aracıdır

184. Yeni boş bir çalışma sayfası oluşturmak için hangi kısayol tuşu kullanılır?

- a. Ctrl + E
- b. Ctrl + N
- c. Ctrl + A
- d. Ctrl + Z

185.  Tools paleti öğelerinden şekilde görünen Blend Tool aracının görevi aşağıdakilerden hangisidir?

- a) İki farklı ya da benzer şekil arasında renk ve biçim olarak geçiş sağlamak (harmanlama) için kullanılır
- b) Şekiller arasında oklarla bağlantı kurarak tablolar oluşturmaya yarar
- c) Alanları bir birine bağlamak için kullanılır
- d) Şekillere gölge vermek için kullanılır

186.  Tools paleti öğelerinden şekilde görünen Envelope aracının görevi aşağıdakilerden hangisidir?

- a) Düzgün çizgileri deforme etmek için kullanılır
- b) Zig zag çizmek için kullanılır
- c) Şekilleri bir birine bağlar
- d) Resmi çizime çevirir

187.  Tools paleti öğelerinden şekilde görünen Eraser Tool aracının görevi aşağıdakilerden hangisidir?

- a) Çizimleri tamamen ve kısmen silmek için kullanılır
- b) Çizgileri iterek eğimler oluşturmak için kullanılır
- c) Alan ve çizgileri kesmek için kullanılır
- d) Şekillerin kenar çizgilerini silmek için kullanılır


“ DOĞRU TERCİHLER SİZİ ÇÖZÜME GÖTÜRÜR “

Bizi Tercih Ettiğiniz İçin Teşekkür Ederiz, Tüm Kursiyerlerimize Sınavlarında Başarılar Dileriz..İLETİŞİM : 0(258) 265 57 52 - 241 75 15 - 0530 565 95 60 – 532 168 41 11


www.cozumkariyer.com

188.  Tools paleti öğelerinden şekilde görünen Extrude aracının görevi aşağıdakilerden hangisidir?

- a) Çalışmalarını tamamen ve kısmen silmek için kullanılır
- b) Çizilen şekillere üç boyut kazandırmak için kullanılır
- c) Alan ve çizgileri kesmek için kullanılır
- d) Şekillerin kenar çizgilerini silmek için kullanılır

189.  Transformation çubuğu üzerinde bulunan Scale Tool aracının görevi aşağıdakilerden hangisidir?


- a) Bir transform aracıdır. Şekilleri büyütüp – küçültmek için kullanılır
- b) Çizilen şekillere üç boyut kazandırmak için kullanılır (Derinlik kazandırmak)
- c) Alan ve çizgileri kesmek için kullanılır
- d) Şekillerin kenar çizgilerini silmek için kullanılır

190.  Property çubuğu öğelerinden şekilde görünen Mirror aracının görevi aşağıdakilerden hangisidir?


- a) Bir transform aracıdır. Şekilleri büyütüp – küçültmek için kullanılır
- b) Çizilen şekillere üç boyut kazandırmak için kullanılır (Derinlik kazandırmak)
- c) Bir elemanı yansıtma, ters yüz etmek için kullanılır
- d) Şekillerin kenar çizgilerini silmek için kullanılır

191.  Tools paleti öğelerinden şekilde görünen 2-Point Line aracının görevi aşağıdakilerden hangisidir?

- a) Bir transform aracıdır. Şekilleri büyütüp – küçültmek için kullanılır
- b) Çizilen şekillere üç boyut kazandırmak için kullanılır (Derinlik kazandırmak)
- c) Bir elemanın yansıtma, ters yüz etmek için kullanılır
- d) Düz tek çizgi çizmek için kullanılır

192.  Tools paleti öğelerinden şekilde görünen Distort aracının görevi aşağıdakilerden hangisidir?

- a) Çizilen şekilleri deforme ederek eğim verir
- b) Çizilen şekillere üç boyut kazandırmak için kullanılır (Derinlik kazandırmak)
- c) Bir elemanın yansıtma, ters yüz etmek için kullanılır
- d) Şekillerin kenar çizgilerini silmek için kullanılır

193.  Add Perspective Effects menüsü öğelerinden şekilde görünen Add Perspective aracının görevi aşağıdakilerden hangisidir?


- a) Seçili şekli deforme eder
- b) Bir çizime derinlik verir
- c) Bir elemanın yansıtma, ters yüz etmek için kullanılır

“ DOĞRU TERCİHLER SİZİ ÇÖZÜME GÖTÜRÜR “


Bizi Tercih Ettiğiniz İçin Teşekkür Ederiz, Tüm Kursiyerlerimize Sınavlarında Başarılar Dileriz..İLETİŞİM : 0(258) 265 57 52 - 241 75 15 - 0530 565 95 60 – 532 168 41 11

www.cozumkariyer.com

d) Şekillerin kenar çizgilerini silmek için kullanılır

194.  Tools paleti öğelerinden şekilde görünen Drop Shadow aracının görevi aşağıdakilerden hangisidir?


- a) Seçili şekli deforme eder.
- b) Çizime gölge vermek için kullanılır.
- c) Bir elemanın yansıtmak, ters yüz etmek için kullanılır
- d) Şekillerin kenar çizgilerini silmek için kullanılır

195.  Tools paleti öğelerinden şekilde görünen Smudge Brush aracının görevi aşağıdakilerden hangisidir?


- a) Seçili çizimin kopyasını alıp tersyüz eder.
- b) Çizimleri iterek eğimler oluşturmak için kullanılır
- c) Bir elemanın yansıtmak, ters yüz etmek için kullanılır
- d) Şekillerin kenar çizgilerini silmek için kullanılır

196.  Tools paleti öğelerinden şekilde görünen Ellipse aracının görevi aşağıdakilerden hangisidir?

- a) Seçili çizimin kopyasını alıp tersyüz eder
- b) Çizgileri iterek eğimler oluşturmak için kullanılır
- c) Bir elemanın yansıtmak, ters yüz etmek için kullanılır
- d) Daireler ve çemberler çizmek için kullanılır

197.  Tools paleti öğelerinden şekilde görünen Basic Shapes aracının görevi aşağıdakilerden hangisidir?

- a) Seçili çizimin kopyasını alıp tersyüz eder
- b) Sayfaya hazır çizimler eklemek için kullanılır
- c) Bir elemanın yansıtmak, tersyüz etmek için kullanılır
- d) Çeyrek daireler ve çemberler çizmek için kullanılır.

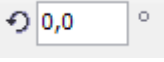
198.  Spiral Tools paleti öğelerinden şekilde görünen Spiral Tool aracının görevi aşağıdakilerden hangisidir?

- a) Spiral biçiminde çizimler yapmak için kullanılır
- b) Mouse ile her tıkladığında hafızasındaki çizimi sayfaya alır
- c) Bir elemanın yansıtmak, ters yüz etmek için kullanılır
- d) Çeyrek daireler ve çemberler çizmek için kullanılır


“ DOĞRU TERCİHLER SİZİ ÇÖZÜME GÖTÜRÜR “

Bizi Tercih Ettiğiniz İçin Teşekkür Ederiz, Tüm Kursiyerlerimize Sınavlarında Başarılar Dileriz..İLETİŞİM : 0(258) 265 57 52 - 241 75 15 - 0530 565 95 60 – 532 168 41 11

www.cozumkariyer.com

199.  Property paleti öğelerinden şekilde görünen Angle of rotation aracının görevi aşağıdakilerden hangisidir?

- a) Seçili çizimin kopyasını alıp tersyüz eder.
- b) Çizgileri iterek eğimler oluşturmak için kullanılır
- c) Seçilen imaj ve çizgileri girilen değerlerde çevirmek için kullanılır
- d) Şekillerin kenar çizgilerini silmek için kullanılır

200.  Transformation çubuğu üzerinde bulunan Skew Tool aracının görevi aşağıdakilerden hangisidir?

- a) Seçili çizimin kopyasını alıp tersyüz eder
- b) Çizgileri iterek eğimler oluşturmak için kullanılır
- c) Bir elemanı deforme için kullanılır
- d) Seçili çizime eğim vermek için kullanılır

201.  Transparency Tools paleti öğelerinden şekilde görünen Transparency aracının görevi aşağıdakilerden hangisidir?

- a) Seçili çizimin kopyasını alıp tersyüz eder
- b) Çizilen şekillere şeffaflık vermek için kullanılır
- c) Bir elemanı deforme için kullanılır
- d) Şekillerin kenar çizgilerini silmek için kullanılır

202. CorelDraw' da elips aracı kullanılarak bir daire çizmek istersek çizim sırasında ne yapmalıyız?

- a) Çizim aşamasında CTRL tuşu yardımıyla
- b) Çizim aşamasında SHIFT tuşu yardımıyla
- c) Çizim aşamasında ALT tuşu yardımıyla
- d) Çizim aşamasında ALT – CTRL tuşu yardımıyla

203. Sürüklenmekte olan bir objenin bir kopyasını almak istersek sürükleme sırasında aşağıdaki işlemlerden hangisini yapmalıyız?

- a) Sürükleme Sırasında aynı anda farenin sağ tuşuna basılarak
- b) Sürükleme sırasında hem sol hem de sağ tuşa aynı anda basılarak
- c) Sürükleme sırasında CTRL tuşu yardımıyla
- d) Sürüklenerek obje kopyalanamaz

“ DOĞRU TERCİHLER SİZİ ÇÖZÜME GÖTÜRÜR “

Bizi Tercih Ettiğiniz İçin Teşekkür Ederiz, Tüm Kursiyerlerimize Sınavlarında Başarılar Dileriz..İLETİŞİM : 0(258) 265 57 52 - 241 75 15 - 0530 565 95 60 – 532 168 41 11


www.cozumkariyer.com

204. Çalışmakta olduğumuz sayfaya cetvel nerenden eklenir?

- a) View – Rulers
- b) View – Text Rulers
- c) Window – Page Rulers – Show
- d) Window – Page Rulers

205. Text Menüünde bulunan Insert Symbol Character seçeneğinin işlevi aşağıdakilerden hangisidir?

- a) Kurulu font dosyasındaki sembolleri eklemek için kullanılır
- b) Herhangi bir kapalı eğri içine yazı yazmak için kullanılır
- c) Yazıları Convertlemek için kullanılır
- d) Yazıya şekil vermek için kullanılır

206.  Fit Text To Path Text menüsünde bulunan Fit Text to Path seçeneğinin işlevi aşağıdakilerden hangisidir?

- a) Herhangi bir şeklin içerisini yazı alanı olarak kullanmak için kullanılır
- b) Şeklin üzerine yazı eklemek için kullanılır
- c) Yazının üzerine eklenmiş bir resmin yazıya bloklanması işlemini yapar
- d) Yazıyı İmaj haline dönüştürür.

207. Herhangi bir şeklin içerisinde yazı alanı oluşturmak için aşağıdaki işlemlerden hangisi yapılmalıdır?

- a. Text > Fit Text to Path
- b. Text > Flow Inside Path
- c. Text Attach to Path
- d. Text > Flow Around Selection

208. CorelDraw’ da oluşturulmuş bir yazı alanı içerisine yazılan yazıların tamamını Büyük harfe çevirmek istenirse aşağıdaki yollardan hangisi izlenmelidir?

- a. Text > Change Case > Uppercase
- b. Text > Convert Case > Lower
- c. Text > Align > Justified
- d. Text > Align > Upper

“ DOĞRU TERCİHLER SİZİ ÇÖZÜME GÖTÜRÜR “

Bizi Tercih Ettiğiniz İçin Teşekkür Ederiz, Tüm Kursiyerlerimize Sınavlarında Başarılar Dileriz..İLETİŞİM : 0(258) 265 57 52 - 241 75 15 - 0530 565 95 60 – 532 168 41 11

www.cozumkariyer.com

209. CorelDraw’ da Text ile yazılmış bir harf ya da yazıyı font olmaktan kurtarıp vektörel bir çizime çevirmek istenirse aşağıdaki yöntemlerden hangisi kullanılmalıdır?

- a. Arrange > Convert To Curves
- b. Text > Align > Justified
- c. Text > Convert Case > Upper
- d. Modify > Convert to Image



210. Şekle göre 1 nolu Kare aracını En öne getirmek istersek aşağıdaki seçeneklerden hangisi kullanılır?

- a. Arrange > Order > Back One
- b. Arrange > Order > To Front of Layer
- c. Modify > Arrange > Send To Forward
- d. Modify > Arrange > Send to Back

211. Şekil ve yazıları bir kılavuz kullanarak hizalama yapmak istersek aşağıdaki yollardan hangisi kullanılır?

- a. Arrange > Align and Distribute
- b. Modify > Arrange > Align
- c. Modify > Combine
- d. Modify > Lock

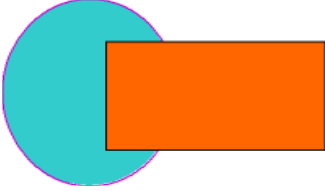
212. Birden fazla objeyi tek bir objeymiş gibi hareket etmeleri için gruplama işlemi yapmak istersek aşağıdaki seçeneklerin hangisini kullanmalıyız?

“ DOĞRU TERCİHLER SİZİ ÇÖZÜME GÖTÜRÜR “

Bizi Tercih Ettiğiniz İçin Teşekkür Ederiz, Tüm Kursiyerlerimize Sınavlarında Başarılar Dileriz..İLETİŞİM : 0(258) 265 57 52 - 241 75 15 - 0530 565 95 60 – 532 168 41 11

www.cozumkariyer.com

- a. Modify > Lock
- b. Arrange > Group
- c. Modify > Combine > Union
- d. Ctrl – L



213. Yukarıdaki şekilde görünen objeler seçildikten sonra Arrange > Shaping > Weld komutu verilirse şekillerle ilgili değişimlerden hangisi doğrudur?

- a. Şekiller tek bir parça halinde birleşirler
- b. Şekilde üst üste gelmiş kısımlar ayrılır
- c. Üstteki şekil dairenin altına geçer
- d. Şekiller Gruplanır

214. Arrange > Lock Object komutunun işlevi aşağıdakilerden hangisidir.

- a. Seçili olan şekil sayfada bulunduğu yere kilitlenir, üzerinde hiçbir işlem yapılamaz
- b. Şekil gruplanmış olur
- c. Şekle anahtar işareti ekler
- d. Şekilde bir değişiklik olmaz

215. Sayfa üzerinde gruplandırması istenilen objeleri gruplayabilmek için aşağıda verilen yollardan hangisi doğrudur?

- a. Objeler seçilir, CTRL – G tuşuna basılır
- b. Objeler seçilir, CTRL – L tuşuna basılır
- c. Objeler seçilir, CTRL – SHIFT – G tuşuna basılır
- d. Objeler seçilir, SHIFT – G tuşuna basılır

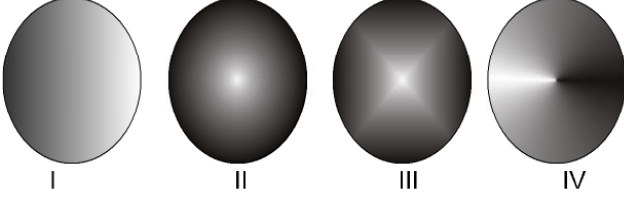
216. Çizilmiş bir nesneye birden fazla renkten oluşan bir dolgu (Gradient) verilmek istenirse aşağıdakilerden hangisi yapılmalıdır?

- a. Toolbox > Fill Tool > Fountain Fill
- b. Properties > Stroke Basic > Gradient
- c. Color Mixer 2 den istenilen miktarda renk eklenir
- d. Bir şekle birden fazla renk verilemez

“ DOĞRU TERCİHLER SİZİ ÇÖZÜME GÖTÜRÜR “

Bizi Tercih Ettiğiniz İçin Teşekkür Ederiz, Tüm Kursiyerlerimize Sınavlarında Başarılar Dileriz..İLETİŞİM : 0(258) 265 57 52 - 241 75 15 - 0530 565 95 60 – 532 168 41 11

www.cozumkariyer.com



217. Yukarıdaki şekle göre aşağıdaki verilen kıyaslamalardan hangileri **doğru değildir**

- a. I nolu şekle Linear bir gradiniert uygulanmıştır
- b. II nolu şekle Linear bir gradiniert uygulanmıştır
- c. II nolu şekle Redial bir gradiniert uygulanmıştır
- d. IV nolu şekle Cone tipinde bir gradiniert uygulanmıştır

218. Bir çalışma alanında bulunan bütün nesnelere seçmek istenirse aşağıdaki kısayol tuş kombinasyonlarından hangisi kullanılmalıdır?

- a. CTRL – A
- b. CTRL-SHIFT – A
- c. SHIFT – A
- d. CTRL – B

219. View – Rulers seçeneğinin işlevi aşağıdakilerden hangisidir?

- a. Oluşturulmuş yazı alanına Cetvel ekler
- b. Sayfaya Cetvel eklemek için kullanılır
- c. Kılavuz Çizgi eklemek için kullanılır
- d. Sayfayı ölçeklendirir

220. Çalışma sayfamıza klavuz çizgi ekleye bilmek için aşağıdaki yollardan hangisi uygulanmalıdır?

- a. View – Guides > Show
- b. View – Guides > Edit
- c. View – Perspective Grid
- d. View – Grid > Document Grid

221. Aşağıdakilerden hangisi renk kontrastlarından değildir.

- a) Açıklık / Koyuluk
- b) Sıcak / soğuk
- c) Doygunluk
- d) Zıtlık

222. Aşağıdaki kıyaslamalardan hangisi doğru verilmemiştir.

“ DOĞRU TERCİHLER SİZİ ÇÖZÜME GÖTÜRÜR “

Bizi Tercih Ettiğiniz İçin Teşekkür Ederiz, Tüm Kursiyerlerimize Sınavlarında Başarılar Dileriz..İLETİŞİM : 0(258) 265 57 52 - 241 75 15 - 0530 565 95 60 – 532 168 41 11

www.cozumkariyer.com

I- C : Cyan II- M: Magenta III- Y:Yeşil

- A) Yalnız I
- B) Yalnız II
- C) I – II
- D) Yalnız III

223. Ctrl – W Kısayol tuş kombinasyonunun görevi aşağıdakilerden hangisidir?

- a. Sayfayı yenilemek
- b. Belge Aç
- c. Önceki sayfa
- d. Büyültme

224. Shape Tool aracını aktif edebilmek için aşağıdaki kısayol tuşlarında hangisi kullanılır

- a. F10
- b. Ctrl - F3
- c. Ctrl - F2
- d. F6

57. Aşağıdakilerden hangisi doğrudur?

- a) CorelDraw’ da oluşturulmuş bir belgeyi CorelDraw’ ın diğer sürümlerinde de açabilmek için File>Export seçeneği kullanarak kaydedilir.
- b) CorelDraw’ da oluşturulmuş bir belgeyi CorelDraw’ ın diğer sürümlerinde de açabilmek için File>Import seçeneği kullanarak kaydedilir.
- c) CorelDraw’ da oluşturulmuş bir belgeyi CorelDraw’ ın diğer sürümlerinde de açabilmek için File>Open seçeneği kullanarak kaydedilir
- d) CorelDraw’ da oluşturulmuş bir belgeyi CorelDraw’ ın diğer sürümlerinde de açabilmek için File>Save As seçeneği kullanarak kaydedilir.

225. Text araç çubuğu hangi menü den eklenip kaldırılır?

- a. Window – Toolbars – Text
- b. View - Text
- c. Arrange - Text
- d. Text

226. Aşağıdakiler den hangisi CorelDraw’ a ait bir menü değildir?

- a) Filter

“ DOĞRU TERCİHLER SİZİ ÇÖZÜME GÖTÜRÜR “

Bizi Tercih Ettiğiniz İçin Teşekkür Ederiz, Tüm Kursiyerlerimize Sınavlarında Başarılar Dileriz..İLETİŞİM : 0(258) 265 57 52 - 241 75 15 - 0530 565 95 60 – 532 168 41 11

www.cozumkariyer.com

- b) View
- c) Edit
- d) Window

227. Aşağıdakilerden hangisi seçili objeye yaklaşmak için kullanılır.

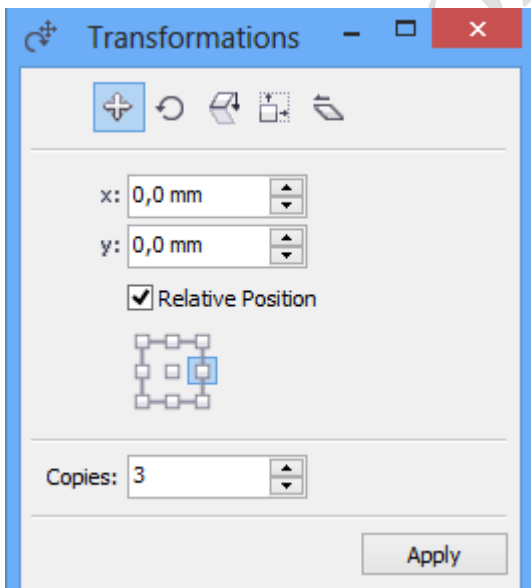
- a) Ctrl-1
- b) Shift-F2**
- c) Ctrl-3
- d) Shift-0

228. Import menüsünü açmak için aşağıdaki seçeneklerden hangisi doğru olarak verilmiştir.

- a) Ctrl – R
- b) Ctrl – I**
- c) Ctrl – M
- d) Ctrl – O

229. Herhangi bir işlem yaparken Zoom aracına geçiş yapmak istersek hangi kısayol tuşları kullanılır.

- a) Z**
- b) C
- c) E
- d) D




“ DOĞRU TERCİHLER SİZİ ÇÖZÜME GÖTÜRÜR “


Bizi Tercih Ettiğiniz İçin Teşekkür Ederiz, Tüm Kursiyerlerimize Sınavlarında Başarılar Dileriz..İLETİŞİM : 0(258) 265 57 52 - 241 75 15 - 0530 565 95 60 – 532 168 41 11

www.cozumkariyer.com


Not : 62-63 ve 64 üncü sorular şekle göre cevaplanacaktır

230. Yukarıdaki sekle göre Object menüsü öğesi olan  görevi aşağıdakilerden hangisidir.

- a) Seçili objeye dolgu rengi ekler.
- b) Seçili objeye dalga ekler.
- c) Seçili nesneyi döndürür.
- d) Seçili objeyi belirtilen koordinatlarda taşıy-kopyalar

231. Yukarıdaki Object menüsü öğesi olan  görevi aşağıdakilerden hangisidir.

- a) Seçili objeye kenar çizgisi ekler.
- b) Seçili objeye dalga ekler.
- c) Seçili nesneye efekt ekler.
- d) Seçili objeyi girilen değerlerde döndürür

232. Yukarıdaki Object menüsü öğesi olan  görevi aşağıdakilerden hangisidir.

- a) Seçili objeye kenar çizgisi ekler.
- b) Seçili objeye dalga ekler.
- c) Seçili nesneyi girilen değerlerde çoğaltır
- d) Seçili objeye dolgu rengi ekler

233. Çalışmakta olduğumuz sayfanın boyutlarını ve yönelimini değiştirmek için aşağıdaki işlemlerden hangisi doğrudur?

- a. Object and document > documentnt
- b. File > Page Setup
- c. File > Page
- d. Layout > Page Setup

234. Text – Columns menüsü ile ilgili verilenlerden hangisi doğrudur?

- a. Yazılara biçimlendirme yapmamızı sağlar
- b. Yazım alanını sütunlara bölmemizi sağlar
- c. Paragraflara girinti vermemizi sağlar
- d. Yazıları Vektörel çizime çevirir

235. Object Properties Paletini aktif edebilmek için aşağıdaki kısayol tuşlarında hangisi kullanılır


- a. Alt – Enter

“ DOĞRU TERCİHLER SİZİ ÇÖZÜME GÖTÜRÜR “

Bizi Tercih Ettiğiniz İçin Teşekkür Ederiz, Tüm Kursiyerlerimize Sınavlarında Başarılar Dileriz..İLETİŞİM : 0(258) 265 57 52 - 241 75 15 - 0530 565 95 60 – 532 168 41 11

www.cozumkariyer.com

- b. F3 - Enter
- c. Ctrl - F2
- d. F6

236.  Toolbox paleti öğelerinden şekilde görünen Hand Tool aracının görevi aşağıdakilerden hangisidir?


- a) Seçili şekli deforme eder.
- b) Sayfayı istenilen yöne kaydırmak için kullanılır
- c) Bir elemanın yansıtmak, tersyüz etmek için kullanılır
- d) Şekillerin kenar çizgilerini silmek için kullanılır

237.  Toolbox paleti öğelerinden şekilde görünen Zoom Tool aracının görevi aşağıdakilerden hangisidir ?


- a) Ekrandaki görüntüyü büyütüp küçültmek için kullanılır
- b) Sayfayı istenilen yöne kaydırmak için kullanılır
- c) Bir elemanın yansıtmak, tersyüz etmek için kullanılır
- d) Şekillerin kenar çizgilerini silmek için kullanılır

238.  Status Bar öğelerinden şekilde görünen Stroke Colors aracının görevi aşağıdakilerden hangisidir?

- a) Kalem şekli çizer
- b) Sayfaya çizgi çizmek için kullanılır
- c) Şekillerin dolgu rengini belirlemek için kullanılır
- d) Şekillerin kenar çizgilerinin rengini belirlemek için kullanılır

239.  Tools paleti öğelerinden şekilde görünen Fill Colors aracının görevi aşağıdakilerden hangisidir?

- a) Sayfaya kırmızı çizgi çizer
- b) Sayfayı istenilen yöne kaydırmak için kullanılır
- c) Yapılan bir çizimin dolgu rengi vermek için kullanılır
- d) Şekillerin kenar çizgilerinin rengini belirlemek için kullanılır

240.  Smart Fill Aracının görevi aşağıdakilerden hangisidir?

“ DOĞRU TERCİHLER SİZİ ÇÖZÜME GÖTÜRÜR “

Bizi Tercih Ettiğiniz İçin Teşekkür Ederiz, Tüm Kursiyerlerimize Sınavlarında Başarılar Dileriz..İLETİŞİM : 0(258) 265 57 52 - 241 75 15 - 0530 565 95 60 – 532 168 41 11

www.cozumkariyer.com

- a) Konturu kapalı nesnelere dolgu uygular
- b) Rengin doygunluğunu azaltır
- c) Rengin doygunluğunu artırır
- d) Çizgi çizmek için kullanılır

241. Seçili bir objeye şeffaflık etkisi uygulamak istersek aşağıdaki araçlardan hangisini kullanmalıyız?

- a. Transparency
- b. Drop Shadow
- c. Contour
- d. Blend

242. Bir araç seçiliyken klavyeden space tuşuna basılırsa aşağıdaki işlemlerden hangisi aktif olur?

- a. Bir önceki araç aktif olur
- b. ZOOM aracı
- c. Fill colors
- d. Pointer Tool

243. Araç paletinde bulunan efektlerden gölge efekti uygulamak istersek aşağıdaki seçeneklerden hangisini kullanmalıyız?

- a. Drop Shadow
- b. Blend
- c. Transparency
- d. Contour

244. Yazım alanı içerisindeki herhangi bir yazının yazı tipi değiştirilmek istenirse hangi menü kullanılır?

- A) Window > Toolbars > Text
- B) Modify > Text Sytle
- C) Arrenge > Style
- D) Hiç biri

245. Dökümana barkod eklemek için aşağıdaki menülerden hangisi kullanılır?

- a. Edit – Insert Barcode
- b. Edit – Barcode
- c. Arrange - Insert Barcode
- d. Modify > Insert Barcode

246. Çalışma alanına eklenmiş bir yazıya gölge verilmek istenirse aşağıdaki yollardan hangisi kullanılmalıdır?

- a. Toolbox > Drop Shadow
- b. Arrange > Effect > Drop Shadow
- c. Edit – Insert Barcode
- d. Text > Effect > Shadow

“ DOĞRU TERCİHLER SİZİ ÇÖZÜME GÖTÜRÜR “

Bizi Tercih Ettiğiniz İçin Teşekkür Ederiz, Tüm Kursiyerlerimize Sınavlarında Başarılar Dileriz..İLETİŞİM : 0(258) 265 57 52 - 241 75 15 - 0530 565 95 60 – 532 168 41 11

www.cozumkariyer.com

247. CorelDraw' da kaydedilen bir belgeyi şablon olarak kullanmak istersem dosyanın kayıt türü yani uzantısı ne olmalıdır?

- a. CDR
- b. CDT**
- c. EPS
- d. DO

248. Edit Menüsünde bulunan Clone komutunun görevi aşağıdakilerden hangisidir?

- a. Seçili obje ile aynı özelliklere sahip bir kopyasını oluşturur**
- b. Sayfanın tamamına seçili objeyi yerleştirir
- c. Seçili objeyi siler
- d. Seçili objeyi Keser

249. Çalışma alanındaki tüm yazıları seçmek için hangi komut kullanılır?

- a. Edit – Select All - Text**
- b. Edit – Select All - Graphic
- c. Edit – Find and Replace
- d. Edit – Clone

250. Gruplanmış öğelerin grubunu çözmek istersek aşağıdaki kısa yollardan hangisini kullanmalıyız?

- A) Ctrl – U**
- B) Ctrl – Shift – U
- C) Ctrl Alt – U
- D) Alt – U

251. Sayfaya Kilitlenmiş öğelerin kilidini çözmek istersek aşağıdaki kısa yollardan hangisini kullanmalıyız?

- A) Arrange – Unlock Object**
- B) Window – Unlock Object
- C) File - Unlock
- D) Edit - Unlock

252. Bir Objeyi sayfaya kilitlemek istersek aşağıdakilerden hangisini kullanmalıyız?

- A) Arrange – Lock Object**
- B) Window – Lock Object
- C) File - Lock Object
- D) Edit - Lock Object

253. Edit – Step and Repeat menüsünün görevi aşağıdakilerden hangisidir?

- a. Seçimi Gizler
- b. Son yapılan işlemi uygular**
- c. Seçilmiş nesnenin kenar çizgilerini gizler
- d. Sayfanın tamamını gizler

“ DOĞRU TERCİHLER SİZİ ÇÖZÜME GÖTÜRÜR “

Bizi Tercih Ettiğiniz İçin Teşekkür Ederiz, Tüm Kursiyerlerimize Sınavlarında Başarılar Dileriz..İLETİŞİM : 0(258) 265 57 52 - 241 75 15 - 0530 565 95 60 – 532 168 41 11

www.cozumkariyer.com

254. Seçili olan bir nesneyi bir değişiklik yapmadan hangi yöntem ile çoğaltılır.

- a. Edit > Select
- b. Edit > Select > All
- c. Edit > Close
- d. Edit > Duplicate





255. Önceden kullanıp kaydettiğimiz bir doküman'a nasıl ulaşabiliriz.

- a. File > Close
- b. File > Save As
- c. File > Open
- d. File > New





256. Merkezden genişleyerek bir elips hangi kısayol tuşu ile çizilir.

- a. Space
- b. Ctrl + Shift
- c. Ctrl + Space
- d. Alt





257. Aşağıdaki simgelerden hangisi kare çizmek için kullanılır?

- a. 
- b. 
- c. 
- d. 

258. Aşağıdaki simgelerden hangisi Seçili çizimi ters çevirip, tersyüz eder?

- a.  Zoom Z
- b.  Pan H
- c.  Convert to Curves
- d.  Mirror Tools

259. Aşağıdaki simgelerden hangisi Sayfayı istenilen yöne kaydırmak için kullanılır?





- a. 
- b. 
- c. 
- d. 

260. Aşağıdaki simgelerden hangisi Çizilen şekillere gradyan dolgu vermek için kullanılır?





“ DOĞRU TERCİHLER SİZİ ÇÖZÜME GÖTÜRÜR “

Bizi Tercih Ettiğiniz İçin Teşekkür Ederiz, Tüm Kursiyerlerimize Sınavlarında Başarılar Dileriz..İLETİŞİM : 0(258) 265 57 52 - 241 75 15 - 0530 565 95 60 – 532 168 41 11

www.cozumkariyer.com

- a. 
- b. 
- c. 
- d. 

261. Aşağıdaki simgelerden hangisi Çizilen şekillere üç boyut kazandırmak için kullanılır

- a.  Knife
- b.  Envelope
- c.  Extrude
- d.  Transparency

262. Yapılan işlemi geri almak için hangi kısayol tuşu kullanılır.

- a. Ctrl-W
- b. Ctrl-H
- c. Ctrl-Z
- d. Ctrl-Y

263. Geri alınan işlemi yinelemek için hangi kısayol tuşu kullanılır.

- a. Ctrl- Shift -P
- b. Ctrl- Shift -G
- c. Ctrl-Shift -Z
- d. Ctrl- Shift -Y

264. Oluşturulan belgeyi kaydetmek için hangi kısayol tuşu kullanılır?

- a. Ctrl + K
- b. Ctrl + C
- c. Ctrl + T
- d. Ctrl + S

“ DOĞRU TERCİHLER SİZİ ÇÖZÜME GÖTÜRÜR “

Bizi Tercih Ettiğiniz İçin Teşekkür Ederiz, Tüm Kursiyerlerimize Sınavlarında Başarılar Dileriz..İLETİŞİM : 0(258) 265 57 52 - 241 75 15 - 0530 565 95 60 – 532 168 41 11

www.cozumkariyer.com