



WEB TASARIM ADOBE DREAMWEAVER SINAV SORULARI.



- 1- yukarıda numaralandırılan menülerin anlamları sırasıyla aşağıdakilerden hangisinde doğru olarak verilmiştir?
- kod bölümü – dizayn bölümü- hem kod hem dizayn bölümü
 - dizayn bölümü- hem kod hem dizayn bölümü- kod bölümü
 - hem kod hem dizayn bölümü- dizayn bölümü- kod bölümü
 - kod bölümü - hem kod hem dizayn bölümü- dizayn bölümü**
- 2- dreamweaver’da ekranda bulunmayan menüler hangi menüden getirilir ?
- insert
 - format
 - window**
 - modify
- 3- save as... hangi menüde bulunur ve anlamı nedir ?
- file menüsünde bulunur ve farklı kaydetmeye yarar**
 - insert menüsünde bulunur ve resim eklemeye yarar.
 - window menüsünde bulunur ve ekranda var olmayan menüyü getirmeye yarar.
 - commands menüsünde bulunur ve yardım menüsünü çağırır
- 4- ekranda görünmeyen “insert” panelini görüntülemek için hangi aşağıdakilerden hangi menü kullanılır
- view
 - file
 - window**
 - commands
- 5-  yandaki simgenin kullanımı hangi seçenekte doğru olarak verilmiştir?
- yardım menüsünü çağırır.
 - resmin rengini değiştirir
 - resim eklemek için kullanılır.**
 - link vermek için kullanılır.
- 6- web sayfamıza  şeklinde frame eklemek için hangi menü kullanılır
- file – html - frames
 - insert-- html - frames**
 - layout – html - frames
 - data – html – frames
- 7- tablo eklemek için aşağıdakilerden hangisi kullanılır?
- file - table
 - window – table
 - insert – table**
 - modify – table
8. 1- page properties II - template properties III – code IV - edit tag yukarıdaki seçeneklerden hangileri modify menüsü içerisinde yer alır
- 1 – II
 - 1- II- IV**
 - III- IV
 - 1-III

“ DOĞRU TERCİHLER SİZİ ÇÖZÜME GÖTÜRÜR “

Bizi Tercih Ettiğiniz İçin Teşekkür Ederiz, Tüm Kursiyerlerimize Sınavlarında Başarılar Dileriz..

İLETİŞİM : 0 (258) 265 57 52 - 241 75 15 - 0530 565 95 60 – 532 168 41 11 www.cozumkariyer.com

9. dreamweaver'da hazırlayacağımız bir web sayfasında tüm sayfa ayarlamalarını yapmak için hangisi kullanılır?

- a- modify – page proparties
- b- window – page proparties – background color
- c- modify – page propertise – background color
- d- format – page proparties – color



Rollover Image

10. yukarıdaki simgenin görevi nedir?


- a- resim çağırır.
- b- tasarladığımız web sayfamıza değişken resim yapmayı sağlar
- c- buton oluşturur.
- d- resim boyutunu düzenler

B I

11. yandaki simgelerinin isimleri hangi seçenekte doğru olarak verilmiştir

1 11

- a- bold – italik
- b- text color – bold
- c- bold – underline
- d- italik – bold



12. yukarıdaki simgelerden hangisi sayfaya tablo eklemek için kullanılır

- a- 1
- b- 2
- c- 3
- d- 4



13. yandaki form menüsünde bulunan düğmenin anlamı nedir?

- a- tablo ekler
- b- buton ekler
- c- frames ekler
- d- resim ekler



14. yukarıda layout menüsünde bulunan düğmenin anlamı nedir?

- a- katman ekler
- b- tablo ekler
- c- web sayfası düzenini ayarlar
- d- arkaplan rengini değiştirir

15. (ctrl + f2) ; (ctrl + j) ; (ctrl + shift + s) yukarıdaki kısayol tuşlarının açılımları aşağıdakilerin hangisinde sırasıyla ve doğru olarak verilmiştir?

- a- page proparties – insert – save as
- b- insert – page proparties – save as
- c- save as – insert – page propaties
- d- insert – save as – page proparties

1 11 111 1V

“ DOĞRU TERCİHLER SİZİ ÇÖZÜME GÖTÜRÜR “

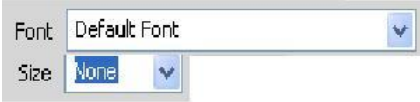
Bizi Tercih Ettiğiniz İçin Teşekkür Ederiz, Tüm Kursiyerlerimize Sınavlarında Başarılar Dileriz..

İLETİŞİM : 0 (258) 265 57 52 - 241 75 15 - 0530 565 95 60 – 532 168 41 11

www.cozumkariyer.com



16. yukarıda numaralandırılmış simgelerin anlamları sırasıyla aşağıdakilerin hangisinde verilmiştir?
- a- sağa yasla – ortala – sola yasla – iki yana hizala
 - b- sola yasla – sağa yasla – ortala – iki yana hizala
 - c- sola yasla – ortala – sağa yasla – iki yana hizala
 - d- iki yana hizala – ortala – sağa yasla – sola yasla



17. yukarıdaki properties öğeleri font ve size seçeneklerinin kullanımları aşağıdakilerin hangisinde doğru olarak verilmiştir?
- a- font = yazı boyutu / size = yazı tipi
 - b- font = yazı tipi / size = yazı boyutu
 - c- font = resim boyutu / size = arka plan rengi
 - d- font = resim ekle / size = buton ekle

18. dreamweaver’da link verme işleminde açılacak sayfanın yeni bir sayfada açılması için hangisi kullanılır?
- a- blank
 - b- self
 - c- parent
 - d- top



19. characters düğmesinin görevi aşağıdakilerin hangisinde doğru olarak verilmiştir ?
- a- bir üst menüye dönmeye yarar
 - b- link vermeye yarar
 - c- özel karakter ekler
 - d- otomatik html kodu ekler

20. modify menüsünde bulunan page properties seçeneğinin kullanımı aşağıdakilerin hangisinde doğru olarak verilmiştir ?
- a- tag düzenlemek için kullanılır
 - b- seçilen kısmın özelliklerini ayarlar
 - c- taslak özelliklerini ayarlar
 - d- sayfa özelliklerini ayarlamayı sağlar



21. yukarıdaki hyperlink butonun anlamı nedir?
- a- köprü ekler
 - b- link verir
 - c- değişken resim yapmayı sağlar
 - d- media ekler



22. - yandaki media butonu hangi menüde bulunur ?
- a- window
 - b- edit
 - c- insert
 - d- modify

“ DOĞRU TERCİHLER SİZİ ÇÖZÜME GÖTÜRÜR “

Bizi Tercih Ettiğiniz İçin Teşekkür Ederiz, Tüm Kursiyerlerimize Sınavlarında Başarılar Dileriz..

İLETİŞİM : 0(258) 265 57 52 - 241 75 15 - 0530 565 95 60 – 532 168 41 11 www.cozumkariyer.com

23. 1- ctrl + j
11 – modify – page proparties
111 – insert – page proparties
page proparties menüsüne yukarıda numaralandırılmış seçeneklerden hangileri ile ulaşılabilir?
a- 11 – 111 b- 1 – 111
c- 1 – 11 – 111 **d- 1 – 11**


24. aşağıda verilen tablo ekleme yöntemlerinden hangileri doğrudur?
1 – ctrl – alt – t
11 – common
111 – insert – table
1V – forms – table
v – layout – table
a- 1 – 1V – 111 b- 1 – 11 – v
c- 1 – 11 – 111 – v **d- 1 – 1V – v**

25. undo – redo – select all – find next
yukarıda verilen sekmeler hangi menüde bulunur?
a- file **b- edit** c- view d- insert

26. 1 – aling
11- list
111- outdent
1V – make link

Yukarıda sıralanmış sekmelerden hangisi yada hangileri format menüsünün içerisinde bulunur?
a- 1 – 11 **b- 11 – 1V** c- 1 – 11 – 111 d- 1 – 11 – 1V

27. bold ve italik gibi text style özelliklerine hangi menüden ulaşılır?
a- modify – edit tag
b- **format – style**
c- forms – style
d- insert – form t

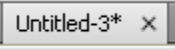

28.  yanda numaralandırılmış özellikler hangisi sayfaya yatay çizgi çizer?
a- 1
b- 11
c- 111
d- 1V

29. sıralı liste oluşturmak için aşağıdaki seçeneklerden hangisi kullanılır
a- format – list - unorderedlist
b- **format – list – orderedlist**
c- format – list –none
d- format – list –list
30. seçili olan öğeleri hizalamak için aşağıdaki menülerden hangisi kullanılır
a- format
b- insert
c- window
d- file

“ DOĞRU TERCİHLER SİZİ ÇÖZÜME GÖTÜRÜR “

Bizi Tercih Ettiğiniz İçin Teşekkür Ederiz, Tüm Kursiyerlerimize Sınavlarında Başarılar Dileriz..

İLETİŞİM : 0 (258) 265 57 52 - 241 75 15 - 0530 565 95 60 – 532 168 41 11 www.cozumkariyer.com


31. gizli olan files panelini ekrana getirmek için hangi seçenek kullanılır
a- window - file
b- insert - file
c- view - file
d- file - file
32. aşağıdaki seçeneklerden hangisi file menüsü içerisinde yer almaz
a- save
b- save for web
c- open
d- save all
33. aşağıdaki programlardan hangisinde web tasarımı yapılamaz
a- dreamweaver
b- frontpage
c- freehand
d- fireworks
34. - dreamweaver programında hazırlanan tasarımların internette yayınlanabilmesi için hangi uzantıda olması gerekir?
a- jpg
b- html
c- gif
d- psd
35. ctrl + y kısayolunun görevi nedir ?
a- en son yapılan işlemi geri alır
b- geri aldığımız işlemi ileri alır
c- yapılan işlemi kopyalar
d- kes
36. ctrl +z kısayolunun görevi nedir ?
a- en son yapılan işlemi geri alır
b- geri aldığımız işlemi ileri alır
c- yapılan işlemi kopyalar
d- kes
37. ctrl + o kısayol tuşunun kullanımını hangi şıkta doğru olarak verilmiştir
a- seçili olan öğeleri kopyalar
b- dosyada kayıtlı olan sayfaları çağırır
c- seçili olan öğeleri kopyalar taşıma işlemi yapar
d- gizli olan panelleri açar
38.  sayfa başlığının yanında bulunan * simgesinin anlamı nedir?
a- tasarımı yapılan sayfanın önemli bir sayfa olduğu
b- tasarımı yapılan sayfanın kaydedilmiş olduğunu
c- tasarımı yapılan sayfanın kaydedilmemiş olduğunu
d- tasarımı yapılan sayfanın silinmiş olduğunu
39.  Simgesinin ismi aşağıdaki seçeneklerden hangisinde doğru olarak verilmiştir
a- tasarımı yapılan sayfanın önizlemesini gösterir
b- tasarımı yapılan sayfaya link vermek için kullanılır
c- tasarımı yapılan sayfayı internette yayınlamak için kullanılır
d- tasarımı yapılan sayfayı düzenlemek için kullanılır

“ DOĞRU TERCİHLER SİZİ ÇÖZÜME GÖTÜRÜR “

Bizi Tercih Ettiğiniz İçin Teşekkür Ederiz, Tüm Kursiyerlerimize Sınavlarında Başarılar Dileriz.

İLETİŞİM : 0 (258) 265 57 52 - 241 75 15 - 0530 565 95 60 – 532 168 41 11


www.cozumkariyer.com

40.  Simgesinin ismi aşağıdaki seçeneklerden hangisinde doğru olarak verilmiştir
- save
 - save all**
 - open
 - new


41. Save as... hangi menüde bulunur?
- edit
 - file**
 - view
 - fitler

42. Save as... in kısayol tuşu aşağıdakilerden hangisidir?
- ctrl + s
 - ctrl + x
 - shift + ctrl + s**
 - ctrl + w

43. dreamweaver programında resim ekleme işleminde aşağıdaki simgelerden hangisi resme link vermek içinde kullanılır



- 44) dreamweaver programında resim ekleme işleminde resmin sadece istediğimiz bir kısmını kırmak için aşağıdaki simgelerden hangisi kullanılır



- 45) dreamweaver programında resim ekleme işleminde 5 numaralı alanın kullanımı hangi şıkta doğru olarak verilmiştir



- eklenen resmin genişlik ve yüksekliğini ayarlar
- eklenen resmin kenardan uzaklığını ayarlar
- resmi alta hizalar
- mouse resmin üzerine geldiğinde çıkmasını istediğimiz açıklama**

“ DOĞRU TERCİHLER SİZİ ÇÖZÜME GÖTÜRÜR “

Bizi Tercih Ettiğiniz İçin Teşekkür Ederiz, Tüm Kursiyerlerimize Sınavlarında Başarılar Dileriz..

İLETİŞİM : 0 (258) 265 57 52 - 241 75 15 - 0530 565 95 60 – 532 168 41 11

www.cozumkariyer.com

46) dreamweaver programında resim ekleme işleminde 2 numaralı alanın kullanımı hangi şıkta doğru olarak verilmiştir



- a- eklenen resmin genişlik ve yüksekliğini ayarlar
- b- eklenen resmin kenardan uzaklığını ayarlar
- c- resmi hizalar
- d- resme çerçeve ekler

47) dreamweaver programında resim ekleme işleminde 6 numaralı alanın kullanımı hangi şıkta doğru olarak verilmiştir



- a- resmin etrafına şekil çizer
- b- resmin sadece istenilen kısımlarına link verir
- c- resmi hizalar
- d- resme çerçeve ekler

48) dreamweaver programında resim ekleme işleminde 1 numaralı alanın kullanımı hangi şıkta doğru olarak verilmiştir



- a- resmin etrafına şekil çizer
- b- resmin sadece istenilen kısımlarına link verir
- c- resmi hizalar
- d- resme çerçeve ekler

49) dreamweaver programında ctrl + s nin görevi nedir

- a- yapılan işlemleri kaydeder
- b- yapılan işlemleri siler
- c- gizli panelleri gösterir
- d- tablo ekler

50) dreamweaver programında code bölümüne geçmek için aşağıdaki yöntemlerden hangisi kullanılamaz

- a.
- b.
- c.
- d. view - code

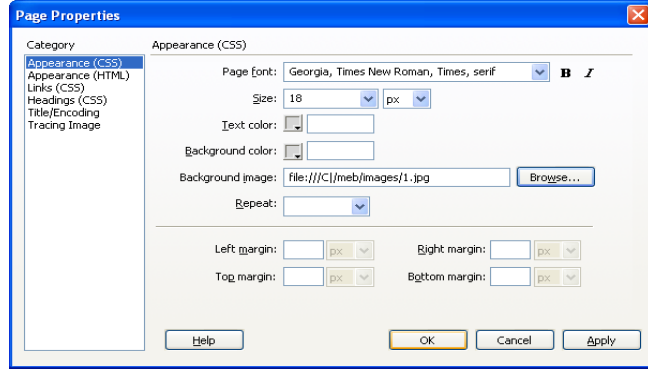
“ DOĞRU TERCİHLER SİZİ ÇÖZÜME GÖTÜRÜR “

Bizi Tercih Ettiğiniz İçin Teşekkür Ederiz, Tüm Kursiyerlerimize Sınavlarında Başarılar Dileriz..

İLETİŞİM : 0 (258) 265 57 52 - 241 75 15 - 0530 565 95 60 – 532 168 41 11

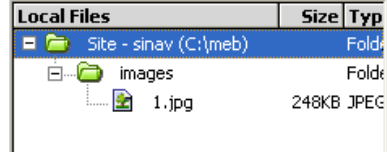
www.cozumkariyer.com

51. aşağıdaki ekran görüntüsüne göre seçeneklerden hangisi yanlıştır?



- arka plana 1.jpg isimli bir resim yerleştirilmiştir
- sayfadaki yazı boyutu 18 olarak ayarlanmıştır
- sayfada kullanılacak yazı fontu belirtilmemiştir
- sayfa kenarındaki boşluklar belirtilmemiştir

52. aşağıdaki ekrana göre seçeneklerden hangisi yanlıştır?



- oluşturulan sitenin ismi sinav dır
- images klasörünün içerisinde 1 adet resim dosyası vardır
- images klasörünün içerisinde 1 adet resim klasörü vardır
- oluşturulan site c sürücüsü içerisinde kayıtlıdır

53. dreamweaver programı başlat menüsünde nerede yer alır

- başlat – programlar
- başlat – programlar – donatılar
- başlat – programlar – başlangıç
- başlat – donatılar

54. yeni bir web sayfası açmak için aşağıdaki yöntemlerden hangisi uygulanır

- file – new
- file – open
- file – save
- file – sav as


55. ekranda görünmeyen panelleri görüntülemek için aşağıdaki menülerden hangisi kullanılır

- file
- windows
- help
- site

56. page properties penceresini ekrana getirmek için aşağıdaki yöntemlerden hangisi kullanılmaz

- properties panelinden
- modify – page properties
- ctrl + j
- file - page properties

57. yeni bir web sayfası oluşturmak için aşağıdaki yöntemlerden hangisi kullanılmaz


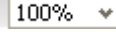




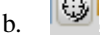
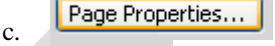
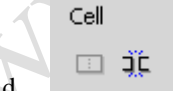
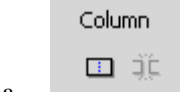

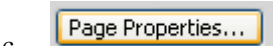
- file – new
- ctrl + n
-  simgesi
- file – save

“ DOĞRU TERCİHLER SİZİ ÇÖZÜME GÖTÜRÜR “

Bizi Tercih Ettiğiniz İçin Teşekkür Ederiz, Tüm Kursiyerlerimize Sınavlarında Başarılar Dileriz..

İLETİŞİM : 0 (258) 265 57 52 - 241 75 15 - 0530 565 95 60 – 532 168 41 11

www.cozumkariyer.com

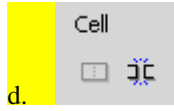
58.  simgelerinin sırası ile isimleri nelerdir
- cut – paste- copy
 - paste – cut – copy
 - cut- copy– paste
 - copy -cut – paste
59.  anlamı nedir?
- işleminizin %100 doğru olduğu
 - sayfa boyutu
 - yazı boyutu
 - yakınlaştırma derecesi
60.  simgesinin kullanımı nedir?
- sayfaya el işareti çizer
 - sayfayı sadece yukarı aşağı kaydırır
 - sayfayı sadece sağa sola kaydırır
 - sayfayı istediğimiz yöne kaydırır
61.  simgesinin kullanımı nedir?
- sayfaya daire çizer
 - sayfayı kaydırır
 - sayfayı yakınlaştırır
 - hiçbir işe yaramaz
62. aşağıdaki sekme isimlerinden hangisi insert panelinde yer almaz
- edit
 - forms
 - text
 - data
63.  simgelerinin isimleri aşağıdakilerden hangisidir
- undo – paste
 - undo – redo
 - paste – copy
 - redo – undo
64. web sayfanızda oluşturduğunuz bir tablonun iki hücreyi birleştirmek için hangi simge kullanılır
- a. 
- b. 
- c. 
- d. 
65. web sayfanızda oluşturduğunuz bir tablonun tek hücreyi birden fazla hücre yapmak için hangi simge kullanılır
- a. 
- b. 
- c. 

“ DOĞRU TERCİHLER SİZİ ÇÖZÜME GÖTÜRÜR “

Bizi Tercih Ettiğiniz İçin Teşekkür Ederiz, Tüm Kursiyerlerimize Sınavlarında Başarılar Dileriz..


İLETİŞİM : 0 (258) 265 57 52 - 241 75 15 - 0530 565 95 60 – 532 168 41 11

www.cozumkariyer.com



d.

66. aşağıdaki simgelerden hangisi tablo eklemek için kullanılır




a.

b.

c.

d.

67. aşağıdaki simgelerden hangisi güncelleme tarihini eklemek için kullanılır



a.

b.

c.

d.

68. oluşturulan web sayfasına yatay çizgi eklemek için hangi simge kullanılır



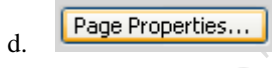
a.



b.



c.



d.

69. **code** görünümüne geçmek için aşağıdaki menülerden hangisi kullanılır

- a. file
- b. edit
- c. view (highlighted in yellow)
- d. windows

70. ekranda görünen ikonları renkli görmek için aşağıdaki menülerden hangisi kullanılır

- a. view – color
- b. view – cicons
- c. view – color icons (highlighted in yellow)
- d. view – icons

71. oluşturduğunuz web sayfasındaki tüm öğeleri seçmek için hangi menü kullanılır

- a. edit – select all (highlighted in yellow)
- b. file – select all
- c. view – select all
- d. insert - select all

72. web sayfanızı oluştururken kullandığımız kısayol tuşlarını değiştirmek için hangi menü kullanılır

- a. edit – keyboard shortcuts (highlighted in yellow)
- b. file – keyboard shortcuts
- c. view – keyboard shortcuts
- d. insert - keyboard shortcuts

“ DOĞRU TERCİHLER SİZİ ÇÖZÜME GÖTÜRÜR “

Bizi Tercih Ettiğiniz İçin Teşekkür Ederiz, Tüm Kursiyerlerimize Sınavlarında Başarılar Dileriz..

İLETİŞİM : 0 (258) 265 57 52 - 241 75 15 - 0530 565 95 60 – 532 168 41 11

www.cozumkariyer.com

73. cetveli görüntülemek için hangi menü kullanılır
a. file – ruler
b. insert – ruler
c. edit – ruler
d. view – ruler
74. ekranda görülen tüm panelleri gizlemek için hangi kısa yıl kullanılır
a. f3
b. f4
c. f5
d. f6
75. web sayfamıza resim eklemek için hangi menü kullanılır
a. edit – image
b. insert – image
c. modify – image
d. format – image
76. web sayfamıza tablo eklemek için hangi menü kullanılır
a. edit – table
b. insert – table
c. modify – table
d. format – table
77. seçili olan öğeleri hizalamak için hangi seçenek kullanılır
a. format – align
b. modify – align
c. insert – align
d. edit – align
78. yeni bir site kurmak için hangi seçenek kullanılır
a. file – new
b. edit – new
c. site – new
d. format – new
79. sıralı liste oluşturmak için hangi simge kullanılır

- a. ul
b. ol
c. dl
d. B

80. sıralı olmayan liste oluşturmak için hangi simge kullanılır

- a. ul
b. ol
c. dl
d. B





“ DOĞRU TERCİHLER SİZİ ÇÖZÜME GÖTÜRÜR “

Bizi Tercih Ettiğiniz İçin Teşekkür Ederiz, Tüm Kursiyerlerimize Sınavlarında Başarılar Dileriz.

İLETİŞİM : 0 (258) 265 57 52 - 241 75 15 - 0530 565 95 60 – 532 168 41 11

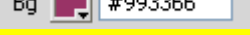
www.cozumkariyer.com

81. sadece üst ve alta frame oluşturmak için hangi frame stili seçilmelidir


- a.  Left Frame
- b.  Top Frame
- c.  Bottom Frame
- d.  Top and Bottom Frames

82. ekranda görünmeyen araç çubuklarını görüntüleyip, gizlemek için aşağıdaki seçeneklerden hangisi kullanılır

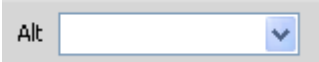
- a. file – toolbars
- b. insert – toolbars
- c. common – toolbars
- d. view – toolbars

83.  properties öğesinin görevi nedir?


- a. yazı rengi
- b. arka plan rengi
- c. vurgu rengi
- d. ön alan rengi

84.  öğesinin kullanımı hangi seçenekte doğru olarak verilmiştir?

- a. web sayfanızın başlık çubuğunda görünmesi istenilen metin buraya yazılır
- b. web sayfanızın durum çubuğunda görünmesi istenilen metin buraya yazılır
- c. web sayfanızın araç çubuğunda görünmesi istenilen metin buraya yazılır
- d. web sayfanızın başlıksız alanlarını listeler



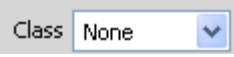
85. web sayfamıza eklediğimiz resim için properties panelinde yer alan  öğenin kullanımı hangi seçenekte doğru olarak verilmiştir

- a. mouse resim üzerine geldiğinde çıkması istenen metin buraya yazılır
- b. resmin hemen altına yazılacak yazı buraya eklenir
- c. resmin altına başka resim eklemek için kullanılır
- d. link vermek için kullanılır

86. web sayfamıza eklediğimiz resime link verme işleminde properties panelinde yer alan  öğenin kullanımı hangi seçenekte doğru olarak verilmiştir

- a. mouse resim üzerine geldiğinde çıkması istenen metin buraya yazılır
- b. link vermek için kullanılır
- c. link verilen sayfanın nerede açılacağını belirler
- d. link verme işleminde kullanılmaz

87. web sayfamıza eklediğimiz resime link verme işleminde sadece resmin belirli bir kısmına link vermek için hangi properties seçenekleri kullanılır


- a. 
- b. 
- c. 

“ DOĞRU TERCİHLER SİZİ ÇÖZÜME GÖTÜRÜR “


Bizi Tercih Ettiğiniz İçin Teşekkür Ederiz, Tüm Kursiyerlerimize Sınavlarında Başarılar Dileriz.

İLETİŞİM : 0 (258) 265 57 52 - 241 75 15 - 0530 565 95 60 – 532 168 41 11

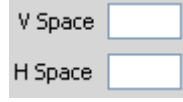
www.cozumkariyer.com



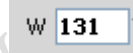
d.

88. web sayfamıza eklediğimiz resim için properties panelinde yer alan  öğenin kullanımı hangi seçenekte doğru olarak verilmiştir


- a. resmin hizalaması
- b. resmin boyutları
- c. resime link verilir
- d. resmin üzerine “default “ yazar

89. web sayfamıza eklediğimiz resim için properties panelinde yer alan  öğenin kullanımı hangi seçenekte doğru olarak verilmiştir



- a. resmin yüksekliğini ve genişliğini ayarlarız
- b. resmin etrafındaki metinler ile arasındaki boşluk ayarlanır
- c. resmin sayfadaki konumunu belirler
- d. resme çerçeve ekler

90. web sayfamıza eklediğimiz resim için properties panelinde yer alan  öğenin kullanımı hangi seçenekte doğru olarak verilmiştir

- a. eklenen resmin genişliğini ayarlar
- b. eklenen resmin yüksekliğini ayarlar
- c. eklenen resmin etrafına eklenecek çerçevenin kalınlığını belirler
- d. eklenen resmin hem genişlik hem yükseklik ayarı buradan yapılır

91. web sayfamıza eklediğimiz resim için properties panelinde yer alan  öğenin kullanımı hangi seçenekte doğru olarak verilmiştir

- a. eklenen resmin genişliğini ayarlar
- b. eklenen resmin yüksekliğini ayarlar
- c. eklenen resmin etrafına eklenecek çerçevenin kalınlığını belirler
- d. eklenen resmin hem genişlik hem yükseklik ayarı buradan yapılır

92. web sayfamıza eklediğimiz resim için properties panelinde yer alan  seçeneğinde bulunan  simgesinin kullanımı hangi seçenekte doğru olarak verilmiştir

- a. resimde yapılan tüm işlemleri geri alır
- b. resimde yapılan boyutlandırmayı geri alır
- c. resimde yapılan boyutlandırmayı tıklandığında artırır
- d. resimde yapılan boyutlandırmayı tıklandığında azaltır

93. web sayfamıza eklediğimiz resim için properties panelinde yer alan



öğenin kullanımı hangi seçenekte doğru olarak verilmiştir


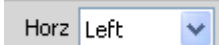
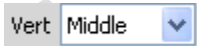

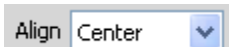
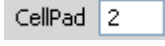
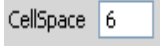
- a. sayfaya eklenen resmin konumunu gösterir
- b. sayfaya eklenen resmin üzerine yazılacak yazı buraya yazılır
- c. sayfaya eklenen resmi src ye dönüştürür
- d. sayfaya eklenen resme verilen link gösterilir

“ DOĞRU TERCİHLER SİZİ ÇÖZÜME GÖTÜRÜR “

Bizi Tercih Ettiğiniz İçin Teşekkür Ederiz, Tüm Kursiyerlerimize Sınavlarında Başarılar Dileriz..

İLETİŞİM : 0 (258) 265 57 52 - 241 75 15 - 0530 565 95 60 – 532 168 41 11

www.cozumkariyer.com

94. web sayfamıza oluşturduğumuz tablo için properties panelinde yer alan  öğenin kullanımı hangi seçenekte doğru olarak verilmiştir
- tabloda yer alan metinlerin yazı rengi
 - tablonun kenarlık rengi
 - tablonun arkaplan rengi**
 - tablonun başlık rengi
95. web sayfamıza oluşturduğumuz tablo için properties panelinde yer alan  öğenin kullanımı hangi seçenekte doğru olarak verilmiştir
- seçili olan hücrelerdeki nesnelerin hücre içindeki yatay hizalaması yapılıır**
 - seçili olan hücrelerdeki nesnelerin hücre içindeki dikey hizalaması yapılıır
 - tabloyu sayfaya göre yatay hizalar
 - tabloyu sayfaya göre dikey hizalar
96. web sayfamıza oluşturduğumuz tablo için properties panelinde yer alan  öğenin kullanımı hangi seçenekte doğru olarak verilmiştir
- seçili olan hücrelerdeki nesnelerin hücre içindeki yatay hizalaması yapılıır
 - seçili olan hücrelerdeki nesnelerin hücre içindeki dikey hizalaması yapılıır**
 - tabloyu sayfaya göre yatay hizalar
 - tabloyu sayfaya göre dikey hizalar
97. web sayfamıza oluşturduğumuz tablo için properties panelinde yer alan  öğenin kullanımı hangi seçenekte doğru olarak verilmiştir
- tablo içerisindeki metnin yazı boyutu
 - tablo içerisindeki metnin renk kodu
 - tablonun kenarlık kalınlığı**
 - tablonun boyutu
98. web sayfamıza oluşturduğumuz tablo için properties panelinde yer alan  öğenin kullanımı hangi seçenekte doğru olarak verilmiştir
- seçili olan hücrelerdeki nesnelerin hücre içindeki yatay hizalaması yapılıır
 - seçili olan hücrelerdeki nesnelerin hücre içindeki dikey hizalaması yapılıır
 - tabloyu sayfaya göre yatay hizalar**
 - tabloyu sayfaya göre dikey hizalar
99. web sayfamıza oluşturduğumuz tablo için properties panelinde yer alan  öğenin kullanımı hangi seçenekte doğru olarak verilmiştir
- tablo kenarlığının kalınlığı
 - hücre içindeki metinlerin kenar çizgisinden uzaklıkları**
 - hücreler arasındaki uzaklık
 - tablonun sayfa kenarından uzaklığı
100. web sayfamıza oluşturduğumuz tablo için properties panelinde yer alan  öğenin kullanımı hangi seçenekte doğru olarak verilmiştir
- tablo kenarlığının kalınlığı
 - hücre içindeki metinlerin kenar çizgisinden uzaklıkları
 - hücreler arasındaki uzaklık**
 - tablonun sayfa kenarından uzaklığı

“ DOĞRU TERCİHLER SİZİ ÇÖZÜME GÖTÜRÜR “

Bizi Tercih Ettiğiniz İçin Teşekkür Ederiz, Tüm Kursiyerlerimize Sınavlarında Başarılar Dileriz..

İLETİŞİM : 0 (258) 265 57 52 - 241 75 15 - 0530 565 95 60 – 532 168 41 11

www.cozumkariyer.com

XHTML VE CSS SORULARI

1. <tr> ve <td> etiketlerinin görevi nedir ?

A) <tr> etiketi, tablo satırını temsil eder. <td> etiketi tablo verisini temsil eder ve hücre olarak da bilinir.

B) <tr> etiketi, tablo sütununu temsil eder. <td> etiketi tablo verisini temsil eder ve hücre olarak da bilinir. 3

C) <tr> etiketi, tabloyu temsil eder. <td> etiketi tablo satırını temsil eder ve hücre olarak da bilinir.

D) <tr> etiketi, tablo satırını temsil eder. <td> etiketi kenarlık kalınlığını temsil eder ve hücre olarak da bilinir.
2. <h3> ... </h3> etiketi ne işe yarar?

A) Üçüncü paragrafı belirler. B) Üçüncü sayfayı belirler.

C) Üçüncü başlık stili belirler. D) Hiçbiri
3. ... etiketi ne işe yarar?

A) Paragraf başı yapar B) Koyu yazmaya yarar

C) Altı çizili yazar D) Yana yatık yazar
4. <a href>... etiketi ne işe yarar?

A) Altı çizili yazar B) Resim eklemeye yarar

C) Link vermeye yarar D) Yazı tipini değiştirmeye yarar
5. “Sayfanın başlığını belirtir. Burada yazılanlar browser'ın üst tarafında browser adıyla beraber gösterilir.” Bu açıklama hangi etikete aittir?

A) title B) a href C) body D) html
6. <u>...</u> etiketinin işlevi nedir?

A) Yazıyı ortalar B) Altı çizili yazar

C) Paragraf başı yapar D) Hiçbiri
7. etiketinin işlevi nedir?

A) Yazı tipini belirler B) Yazı boyutunu belirler

C) Yazı rengini belirler D) Yazıyı hizalamak içindir
8. Aşağıdakilerden hangisi resim ekleme etiketidir?

A) a href B) img C) center D) body
9. Tabloda çerçeve kalınlığını belirleyen özellik hangisidir?

A) Border B) Cellpadding

C) Cellspacing D) Width

“ DOĞRU TERCİHLER SİZİ ÇÖZÜME GÖTÜRÜR “

Bizi Tercih Ettiğiniz İçin Teşekkür Ederiz, Tüm Kursiyerlerimize Sınavlarında Başarılar Dileriz.
İLETİŞİM : 0 (258) 265 57 52 - 241 75 15 - 0530 565 95 60 – 532 168 41 11 www.cozumkariyer.com

10. CSS (Cascading Style Sheet) ile aşağıdakilerden hangisi yapılamaz.
A) Bir tablonun border'ının rengi kırımızı yapılması
B) Bir yazının fontunun Arial yapılması
C) Bir link alt çizgisinin kaldırılması
D) Bir link'in üzerine gelindiğinde link'in renginin değiştirilmesi
E) Bir sayfanın yeniden yüklenmesi
11. Bir tablo hücresinin genişliğini diğer hücrelerden daha büyük yapmak için td tag'inin hangi özelliği kullanılır.
A) cols
B) rows
C) colspan
D) rowspan
E) columns
12. test.css dosyalarındaki style'leri kullanmak için hangi tag kullanılmalıdır.
A) html B) style C) link D) body E) head
13. Class selector ile id selector arasındaki en önemli fark aşağıdakilerden hangisidir?
A) class selector'ler yalnızca inline elementler için geçerlidir. id ise block level için geçerlidir.
B) class selector'ler yalnızca block level elementler için kullanılır. id ise inline elementler için kullanılır
C) class'lar sadece renk ve border özellikleri için kullanılır. id her style için kullanılabilir.
D) class selectorler istenildiği kadar kullanılabilir. id selector'ler yalnızca bir kere kullanılabilir.
E) class selector'ler sadece .css dosyalarında kullanılır. id ise istenildiği yerde kullanılabilir.
14. Bir sayfadaki tüm linklerin alt çizgisini kaldırmak için aşağıdaki hangi style'li kullanmamız gerekir.
A) a{ text-line:none }
B) a{ text-decoration:none }
C) link{ text-decoration:none }
D) a{ text-decoration:none }
E) a{ text-decoration:null }
15. Bir link tıklandığında bağlanılan sayfanın başka bir frame'de açılması için A tag'inin hangi attribute'si kullanılır.
A) link B) name C) target D) base E) frame
16. Aşağıdaki kodlardan hangisiyle yazıyı ortalarız
a) <center> b) <left> c) <body> d) <align>
17. FTP nedir?
a) Dosya transfer protokolü
b) İnternet protokolü
c) Alan adı

“ DOĞRU TERCİHLER SİZİ ÇÖZÜME GÖTÜRÜR “

Bizi Tercih Ettiğiniz İçin Teşekkür Ederiz, Tüm Kursiyerlerimize Sınavlarında Başarılar Dileriz.

İLETİŞİM : 0(258) 265 57 52 - 241 75 15 - 0530 565 95 60 – 532 168 41 11 www.cozumkariyer.com

d) Web sunucu

18. Hangisi bir web tarayıcı yazılımıdır?

- a) Apache b) Dreamweaver c) Fireworks **d) Firefox**

19. Bir yazının biçimlendirilmesi için kullanılan HTML etiketi aşağıdakilerden hangisidir?

- a) ** b) <body> c) <title> d) <table>

20. Mouse ile resmin üzerine gelindiğinde istenilen bir mesajın çıkmasını sağlayan HTML parametresi aşağıdakilerden hangisidir?

- a) alt** b) value c) src d) top

21. Hangisi geçerli bir mail adresi bağlantısıdır?

- a) <link href="mailto:megep@meb.gov.tr"> mailto:megep@meb.gov.tr</link>
b) <href="mailto:megep@meb.gov.tr"> maillerinizi bekliyoruz.
c) <href="to:megep@meb.gov.tr">to:megep @meb.gov.tr
d) megep@meb.gov.tr

22. Bir tablonun arkaplan rengini ayarlamak için kullanılan HTML parametresi aşağıdakilerden hangisidir?

- a) img **b) bgcolor** c) image d) background

23. Link(bağlantı) oluşturmak için kullanılan HTML etiketi aşağıdakilerden hangisidir?

- a) b) **c) <a>** d) <div>

24. Harici stil sayfasını bağlamak için düğmesine tıklayarak yapılan işlem sonucunda eklenen komutlar aşağıdakilerden hangisidir?

- a) <link href="stil.css" rel="stylesheet" type="text/css" />**
b) <style type="text/css">
c) <meta http-equiv="Content-Type" content="text/html; charset=utf-8" />
d) stil

25. Parola: web sayfasında yandaki görüntüyü oluşturan satır nedir?

- a) Parola: <input type="checkbox" name="parola" >
b) Parola: <input type="radio" name="parola" >
c) Parola: <input type="password" name="parola" >
d) Parola: <input type="text" name="parola" >

“ DOĞRU TERCİHLER SİZİ ÇÖZÜME GÖTÜRÜR “

Bizi Tercih Ettiğiniz İçin Teşekkür Ederiz, Tüm Kursiyerlerimize Sınavlarında Başarılar Dileriz.

İLETİŞİM : 0 (258) 265 57 52 - 241 75 15 - 0530 565 95 60 – 532 168 41 11 www.cozumkariyer.com

26. <style>..</style>damgasi ne yapar?

- A)İtalik, bold, alt çizgi vb. font stilini belirler .
- B)Formun bütün görünüsünü düzenler.
- C)Tablonun bütün görünüsünü düzenler.
- D)Bütün web sayfasinin görünüsünü düzenler.**

27. <STYLE>..</STYLE>damgasi asagidakilerden hangisini ayarlar?

- A)Web sayfasinda marj ayari
- B)Web sayfasinda paragraf açıkligi
- C)Web sayfasinda font tipini seçme
- D)Hepsi**

28. <STYLE>..</STYLE>damgasi asagidakilerden hangisini ayarlar?

- A)Web sayfasinda karakter renklerini
- B)Web sayfasinda zemin rengini
- C)Web sayfasinda font büyüklüğünü (size)
- D)Hepsi**

29. BODY { font-family:Verdana, Tahoma, Arial, Helvetica, sans-serif ; } nitelemesi ne yapar?

- A)Belirtilen fontlarin web sayfasinda dönüşümlü kullanilmasini saglar
- B)Belirtilen fontlari kullanicinin makinasindaki tarayiciya yollar
- C)Tarayici, sistemde var olan fontu, yazilis sirasiyla kullanir**
- D)Hiçbiri

30. P { color : "#FF0000"; } nitelemesi ne yapar?

- A)Paragraflari zemin rengini kirmizi yapar
- B)Bütün web sayfasinin zemin rengini kirmizi yapar
- C)Paragraflarin karakter rengini kirmizi yapar**
- D) Bütün web sayfasinin karakter rengini kirmizi yapar

31. Hangisi tıklanabilen goruntu haritasında(imagemap) bir daire ve bir dortgen kullanır?.

(a)
<map name="planetmap"> <area shape="rect" coords="0,0,82,126" alt="Sun" href="sun.htm" /> <area shape="circle" coords="90,58,3" alt="Mercury" href="mercur.htm" /> </map>

(b)
<image map name="planetmap">
<area object="rectangular" coords="0,0,82,126" alt="Sun" href="sun.htm" />
<area object="circle" coords="90,58,3" alt="Mercury" href="mercur.htm" /></imagemap>

(c)
<map name="planetmap">
<image map shape="rectangle" coords="0,0,82,126" alt="Sun" href="sun.htm" />
<image map shape="circle" coords="90,58,3" alt="Mercury" href="mercur.htm" /></map name>

“ DOĞRU TERCİHLER SİZİ ÇÖZÜME GÖTÜRÜR “

Bizi Tercih Ettiğiniz İçin Teşekkür Ederiz, Tüm Kursiyerlerimize Sınavlarında Başarılar Dileriz.

İLETİŞİM : 0 (258) 265 57 52 - 241 75 15 - 0530 565 95 60 – 532 168 41 11 www.cozumkariyer.com

(c)
<map name="planetmap">
<shape="rectangle" coords="0,0,82,126" alt="Sun" href="sun.htm" />
<shape="circle" coords="90,58,3" alt="Mercury" href="mercur.htm" /></map name>

32. P { font-size : 10pt; } nitelemesi ne yapar?

- a)Paragraflarları 10 ar satır yapar
- b)Paragrafların harf büyüklüğünü ayarlar**
- c)Paragrafların genişliğini 10 ar karaktere ayarlar
- d)Hiçbiri

33. A:link { color: #0000FF; } deyimi ne is yapar?

- a)Ziyaret edilmemiş hypertext link'in rengini belirler**
- b)Ziyaret edilmiş hypertext link'in rengini belirler
- c)Ziyaret edilmek için tiklanan hypertext link'in rengini belirler
- d)Üzerinde mouse gezinen hypertext link'in rengini belirler

34. A:visited { color: #FF00FF; } deyimi ne is yapar?

- a)Ziyaret edilmemiş hypertext link'in rengini belirler
- b)Ziyaret edilmiş hypertext link'in rengini belirler**
- c)Ziyaret edilmek için tiklanan hypertext link'in rengini belirler
- d)Üzerinde mouse gezinen hypertext link'in rengini belirler

35. A:active { color: rgb(255, 0, 102); } deyimi ne is yapar?

- a)Ziyaret edilmemiş hypertext link'in rengini belirler
- b)Ziyaret edilmiş hypertext link'in rengini belirler
- c)Ziyaret edilmek için tiklanan hypertext link'in rengini belirler**
- d)Üzerinde mouse gezinen hypertext link'in rengini belirler

36. Div.color { background: rgb(204, 204, 255); } deyimi ne yapar?

- a)<div>..</div>ile sınırlanan bölgede text rengini belirler
- b)<div>..</div>ile sınırlanan bölgede çerçeve rengini belirler
- c)<div>..</div>ile sınırlanan bölgede zemin rengini belirler**
- d)Hiçbiri

37. Div.box { border: solid; border-width: thin; width: 100%; } deyimi ne yapar?

- a)<div class="box">..</div> ile sınırlanan bölgeye ince çerçeve çizer**
- b>Bütün tablolara ince çerçeve çizer
- c>Bütün web sayfasına ince çerçeve çizer
- d)Hiçbiri

38. #bitki { color : #AA0080 ; } deyimi ne yapar?

- a)<P ID="bitki">..</P> ile sınırlanan paragrafın zemin rengini belirler
- b)<P ID="bitki">..</P> ile sınırlanan paragrafın text rengini belirler**
- c)<P ID="bitki">..</P> ile sınırlanan paragrafın çerçeve rengini belirler
- d)Hiçbiri

“ DOĞRU TERCİHLER SİZİ ÇÖZÜME GÖTÜRÜR “

Bizi Tercih Ettiğiniz İçin Teşekkür Ederiz, Tüm Kursiyerlerimize Sınavlarında Başarılar Dileriz..

İLETİŞİM : 0 (258) 265 57 52 - 241 75 15 - 0530 565 95 60 – 532 168 41 11

www.cozumkariyer.com

39. Hangi CSS kuralı, “boxed” sınıf tanımı ile belirlenen, elemanların çevresine 1-pixel kalınlığında düz mavi kenar çizgisi çizer?

- A. `.boxed { border: 1px solid blue; }`
- B. `#boxed { border: 1px solid blue; }`
- C. `boxed { border: 1px solid blue; }`
- D. `$boxed { border: 1px solid blue; }`
- E. `!boxed { border: 1px solid blue; }`

40. Bu CSS kuralı ne yapar: `h1 { text-align: center; text-decoration: underline; }`

- A. Butun yazılar yatay olarak ortalanır ve altı çizgili yapılır.
- B. Butun “h1” ile belirtilen paragraflar, ortalanır ve altı çizgili yapılır.
- C. “h1” id turu ile belirtilen paragraflar, ortalanır ve altı çizgili yapılır.
- D. Butun `<h1>` etiketleri yazılanlar ortalanır ve altı çizgili yapılır.
- E. hiçbirsey

41. P.dersler `A:link { color : #FF00AA ; }` deyimi neyi belirler?

- a) `<P CLASS="dersler">..</P>` ile sınırlanan paragrafin zemin rengini belirler
- b) `<P CLASS="dersler">..</P>` ile sınırlanan paragrafin text rengini belirler
- c) `<P CLASS="dersler">..</P>` ile sınırlanan paragrafin çerçeve rengini belirler
- d) Hicbiri

42. P.dersler `A:link { font-weight: 70% ; }` deyimi neyi belirler?

- a) `<P CLASS="dersler">..</P>` içindeki karakterlerin koyulugunu
- b) `<P CLASS="dersler">..</P>` içindeki karakterlerin büyüklüğünü
- c) `<P CLASS="dersler">..</P>` içindeki hypertext link karakterlerin koyulugunu
- d) Hiçbiri

43. `A:plain { text-decoration: none; }` damgasi ne yapar?

- a) Paragrafta satırbaşı olmasını önler
- b) Paragrafa kenar süsleri koyar
- c) Paragrafta kenar süslerini kaldırır
- d) Hypertext link’ te alt çizgiyi kaldırır

44. Bir paragraf içinde seçilen bir text’in rengini hangisi belirler ?

- a) `<color="red"> ... </color>`
- b) `<FONTCOLOR="red"> ... </FONTCOLOR>`
- c) `<FONTCOLOR="red"> ... `
- d) Hiçbiri

45. Bir paragraf içinde seçilen bir text’in font büyüklüğünü hangisi belirler ?

- a) `<size="+1"> ...</size> ...</size>`
- b) `<FONTSIZE="+1"> ... </FONTSIZE>`
- c) ` ... `
- d) Hiçbiri

“ DOĞRU TERCİHLER SİZİ ÇÖZÜME GÖTÜRÜR “

Bizi Tercih Ettiğiniz İçin Teşekkür Ederiz, Tüm Kursiyerlerimize Sınavlarında Başarılar Dileriz..

İLETİŞİM : 0 (258) 265 57 52 - 241 75 15 - 0530 565 95 60 – 532 168 41 11 www.cozumkariyer.com

46. Bir paragraf içinde seçilen bir text'in font tipini hangisi belirler ?

- a) <TYPE="Arial">...</TYPE>
- b) <FONTTYPE="Arial">...</FONTTYPE>
- c) <FONTFACE="Arial">...</FONTFACE>
- d) <FONTFACE="Arial">...

47. Çok sayıda web sayfasında aynı stili kullanmak için ne yapılır?

- a) Hepsinde aynı <style>...</style> nitelermeleri kullanılır
- b) Böyle bir iş yapılamaz
- c) Ortak bir CSS dosyasına link yapılır
- d) Hiçbiri

48. Hangi imagemap doğru kullanır?

- (a) <imgsrc="deitel.gif" alt="hello" usemap="hello" />.
- (b) <imgsrc="deitel.gif" alt="hello" map name="#hello" />.
- (c) <imgsrc="deitel.gif" alt="hello" usemap="#hello" />.
- (d) <imgsrc="deitel.gif" alt="hello" map="hello" />.

49. Aşağıdaki programa göre, link1, link2 ve link3 rengi ne olur?

```
<html>
<head>
<style type="text/css">
.navtext {color: black; font-weight : bold}
p {color: blue}
</style>
</head>
<body>
<P class="navtext" STYLE="color : red">Link 1</P>
<P class="navtext">Link 2</P>
<P class="navtext">Link 3</P></body></html>
```

- (a) Link 1= red , Link 2= black and Link 3= black
- (b) Link 1= red , Link 2= black and Link 3= blue
- (c) Link 1= red , Link 2= blue and Link 3= black
- (a) Link 1= black , Link 2= black and Link 3= red

50. hangisi doğru XHTML kodudur?

- (a) <P></p>
- (b) <P></P>
- (c) <p></p>
- d) hiçbir

51. hangisi doğru XHTML kodudur?

- (a)

- (b)

- (c) <break />
- d) hiçbir

“ DOĞRU TERCİHLER SİZİ ÇÖZÜME GÖTÜRÜR “

Bizi Tercih Ettiğiniz İçin Teşekkür Ederiz, Tüm Kursiyerlerimize Sınavlarında Başarılar Dileriz.

İLETİŞİM : 0 (258) 265 57 52 - 241 75 15 - 0530 565 95 60 – 532 168 41 11

www.cozumkariyer.com

52. Hangisinde XHTML değeri doğru kullanılmıştır?

- (a) width=90
- (b) width="90"**
- (c) WIDTH="90"
- d) hiçbir

53. <LINK REL="stylesheet" HREF="makale.css"> damgası ne yapar?

- a)Stylesheet adlı dosyaya link yapar
- b) Makale.css adlı dosyaya link yapar**
- c)Aynı Makale.css adlı dosyayı stil olarak kabul eder
- d)Hiçbiri

54. .dikkat { border-color: #AACC00 ; } nitelemesi ne yapar?

- a)<P CLASS="dikkat"> ... </P> ile sınırlı bölgenin kenarlarının rengini belirler**
- b)<P CLASS="dikkat"> ... </P> ile sınırlı bölgenin karakterlerinin rengini belirler
- c)<P CLASS="dikkat"> ... </P> ile sınırlı bölgenin zemin rengini belirler
- d)Hiçbiri

55. UL { list-style-type: square ; } nitelemesi ne yapar?

- a>Listelenen maddeleri kare biçiminde bir çerçeveye alır
- b>Kullanıcının girdiği sayıların karesini yazar
- c>Listelenen maddelerin önüne kare simgesi koyar**
- d)Hiçbiri

56. CCS(cascading style sheets)de kurallar nelerden oluşur?

- a>Selectors and Declarations (seçiciler ve tanımlar)
- b)Properties and Declarations (özellikler ve tanımlar)
- c>Selectors and Attributes (seçiciler ve değerler)**
- d)hiçbiri

57. CSS kodu, HTML dosyasının body kısmına yazılırsa bu xhtml komutu ne diye adlandırılır?

- a. Embedded
- b. Inline**
- c. External
- d. Imported

58. Aşağıdakilerden hangisi CSS selector(secici) olarak kullanılır?

- a. XHTML kod elemanı
- b. class adı
- c. id adı
- d. hepsi**

59. Aşağıdaki css ve xhtml koduna göre tarayıcıda text nasıl görünür?

```
css:  
div {  
color: red;
```

“ DOĞRU TERCİHLER SİZİ ÇÖZÜME GÖTÜRÜR “

Bizi Tercih Ettiğiniz İçin Teşekkür Ederiz, Tüm Kursiyerlerimize Sınavlarında Başarılar Dileriz.

İLETİŞİM : 0(258) 265 57 52 - 241 75 15 - 0530 565 95 60 – 532 168 41 11 www.cozumkariyer.com

```
font-size: 200%;  
}  
p {  
color: blue;  
}
```

```
xhtml:  
<div>  
<p>ElectricCar</p>  
</div>
```

- a) ElectricCar red-kırmızı ve 100% boyunda
- b) ElectricCar red-kırmızı ve 200% boyunda
- c) ElectricCar blue-mavi ve 100% boyunda
- d) ElectricCar blue-mavi ve 200% boyunda**

60. Aşağıdaki kodda hata nedir?

```
<table>  
<th>Car</th>  
<th>Efficiency</th>  
<tr>  
<td>Corolla</td>  
<td>43 MPG</td>  
</tr>  
<tr>  
<td>Echo</td>  
<td>48 MPG</td>  
</tr>  
</table>
```

- a) tr komutu olmamalıydı
- b) td ve th yer değişmeliydi
- c) tr elemanı eksik yazılmış**
- d) her hangi bir hata yoktur

61. XHTML neyin kısaltmasıdır?

- a. EXtra Hyperlinks and Text Markup Language.
- b. EXtensible HyperText Marking Language .
- c. EXtensible HyperText Markup Language .**
- d. EXtreme HyperText Markup Language

62. Web sayfasının içine link yapmak için hangi sembol kullanılır?

- a. @ symbol
- b. * symbol
- c. % symbol
- d. # symbol**

“ DOĞRU TERCİHLER SİZİ ÇÖZÜME GÖTÜRÜR “

Bizi Tercih Ettiğiniz İçin Teşekkür Ederiz, Tüm Kursiyerlerimize Sınavlarında Başarılar Dileriz.
İLETİŞİM : 0(258) 265 57 52 - 241 75 15 - 0530 565 95 60 – 532 168 41 11 www.cozumkariyer.com

63. Harici CSS style sheets dosyaları hangi uzantılı dosyada saklanır?

- a. .html
- b. .txt
- c. .css
- d. .txtcss

64. Harici CSS dosyaları, html dokumanının neresinde tanımlanır?

- a. dokuman sonunda
- b. <head> kısmında
- c. <body> kısmında
- d. dokuman başında

65. Hangi CSS kod, “offer” adlı blue(mavi) text, 20 px boyunda and Arial or sans-serif font larında tanım yapar?

- a. .offer { color:blue; font-size:20x; font-family:Arial,sans-serif; }
- b. .offer { color:blue; font-size:20px; font-family:Arial,sans-serif; }
- c. .offer { text:blue;font-size:20px; font-family:Arial,sans-serif; }
- d. #offer { text:blue;font-size:20px; font-family:Arial,sans-serif; }

66. “school.gif” resmine tıklanıldığında “school.htm” sayfasını açan kod hangisidir?

- a.
- b.
- c.
- d. none of the above

67. html ve css arasındaki fark nedir?

- A) Html dosya transferi yapar, css dosya düzenini sağlar
- B) html içerik düzenler, css stil-görünüş düzenleme amaçlıdır
- C) html web dosyaları, css resim dosyaları içindir
- D) html stil bilgisi içerir, css içerik bilgisi içerir.

68. Aşağıdaki stilde sırasıyla aaa,bbb ve ccc ne diye adlandırılır?

sırasıyla aaa, bbb, ccc ne diye adlandırılır?

```
aaa {  
bbb : x ;  
ccc : y ;  
}
```

- a)selector,property,value
- b) property,selector,value
- c)value,selector,property
- d) selector,value, property

“ DOĞRU TERCİHLER SİZİ ÇÖZÜME GÖTÜRÜR “

Bizi Tercih Ettiğiniz İçin Teşekkür Ederiz, Tüm Kursiyerlerimize Sınavlarında Başarılar Dileriz.
İLETİŞİM : 0 (258) 265 57 52 - 241 75 15 - 0530 565 95 60 – 532 168 41 11 www.cozumkariyer.com

69. Hangisi komut nitelikleridir(attributes)?

- I. width
- II. href
- III. a
- IV. h3
- (a) IV
- (b) I, II ve IV
- (c) I ve II**
- d) I ve IV

70. Hangisi “menu” adında bir class(sınıf) için bir selector(Seçici)dir?

- a) menu
- b) #menu
- c) .menu**
- d) > menu

71. Tablolardaki hücreler arası kenar mesafesi hangi terimle ifade edilir?

- a. cellpadding
- b. cellspacing
- c. cellspacing *****
- d. cellborder

72. Tabloya yazılan yazının hücre kenarına uzaklığı hangi terimle ifade edilir?

- a. cellpadding
- b. cellspacing
- c. cellspacing *******
- d. cellborder

73. Tablolarda satırlar nasıl tanımlanır?

- a. <td> </td>
- b. <tr> </tr> *******
- c. <table> </table>
- d. hiçbirisi

71. Tablo başlıkları için hangi etiket kullanılır?

- a. <td> </td>
- b. <th> </th> *******
- c. <thead> </thead>
- d. hiçbirisi

72. “email” adında ve 40 boyunda XHTML form objesi hangisidir?

- a. <input type="text" id="email" width="40" />
- b. <input type="text" name="email" size="40" /> *******
- c. <input type="text" name="email" space="40" />
- d. <input type="text" width="40" />

“ DOĞRU TERCİHLER SİZİ ÇÖZÜME GÖTÜRÜR “

Bizi Tercih Ettiğiniz İçin Teşekkür Ederiz, Tüm Kursiyerlerimize Sınavlarında Başarılar Dileriz..

İLETİŞİM : 0 (258) 265 57 52 - 241 75 15 - 0530 565 95 60 – 532 168 41 11

www.cozumkariyer.com

73. Bir web anketinde öğrencilerin kullandığı cep telefonu servisi sorulmaktadır.

Öğrenciler birden fazla servis seçebilir. Hangi form objesi uygundur?

- a. **check box ******
- b. radio button
- c. text box
- d. scrolling text box

74. Bir ankette öğrenciler bayan veya erkek olduğu sorulmaktadır. Öğrenciler her iki seçeneği seçemez, sadece birini seçebilir. Hangi form objesi uygundur?

- a. check box
- b. **radio button ******
- c. text box
- d. scrolling text box

75. En tepedeki satırın yüzde 40, sonraki satırın önemli olmadan ayrıldığı frame komutu hangisidir?

- a) <FRAMESET ROWS= 40, *>
- b) <FRAMESET COLS= 40, *>
- c) **<FRAMESET ROWS= 40%, *> *****
- d) <FRAME ROWS= 40%, *>

76. Frame içinde menu.html dosyasını gösteren komut hangisidir?

- a) **<FRAME SRC=menu.html> *****
- b) <FRAMESET SRC=menu.html>
- c) <FRAME=menu.html>
- d) <FRAMESET=menu.html>

77. Aşağıdaki kod ne yapar?

```
body {  
background-color: yellow ;  
font-size: 40px ;  
}
```

- a) font boyu 40 pixel ve sarı renkte yazı yazar
- b) **font boyu 40 pixel ve arkaplan rengi sarı yapar**
- c) font boyunu 40 büyütür ve sarı renkte yazı yazar
- d) hicbiri

78. Aşağıdaki font css özelliklerinde hangisi yanlıştır?

- a) font-family: Arial, Helvetica, sans-serif;
- b) font-size: 80%;
- c) font-style: italic;
- d) **font-color: bold; ******

“ DOĞRU TERCİHLER SİZİ ÇÖZÜME GÖTÜRÜR “

79. Aşağıdaki tablo(table) kodunda “kaç satır x kaç sütun” vardır?

```
<table><tr><td>100</td></tr> <tr><td>200</td></tr> <tr><td>300</td></tr> </table>?
```

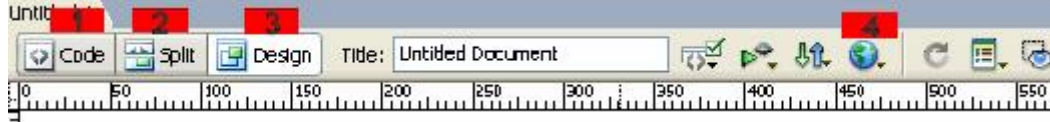
- a) 2 x 2
- b) 1 x 3
- c) 2 x 1
- d) 3 x 1

80. CSS nin açılımı nedir ve niçin kullanılır?

- a. Cascading Style Sheets. Web sayfalarını stilize etmek için kullanılır.
- b. Computer Style Short. Bilgisayar stillerini kısaltmak için kullanılır.
- c. Computer Style Short. Bilgisayarda resimleri stilize eder.
- d. Cascading Style Sheets. Web sayfalarında gezinmek için kullanılır

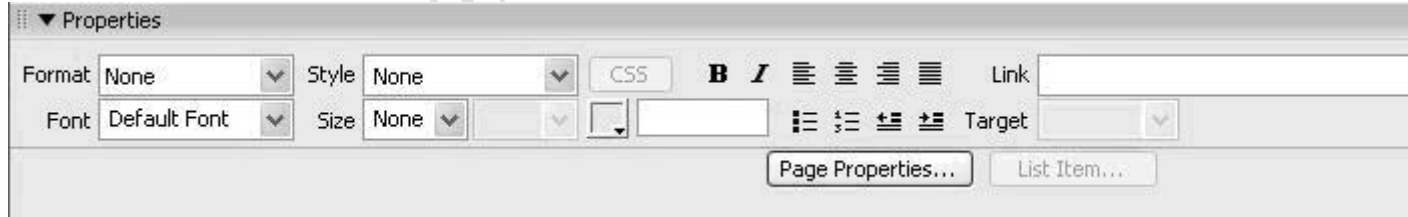
DREAMWAVER TEST SORULARI

1)



Dreamweaver programında kod ve dizayn görünümünü aynı anda görmek isteyen birisi yukarıda numaralarla belirtilen butonlardan hangisini kullanmalıdır?

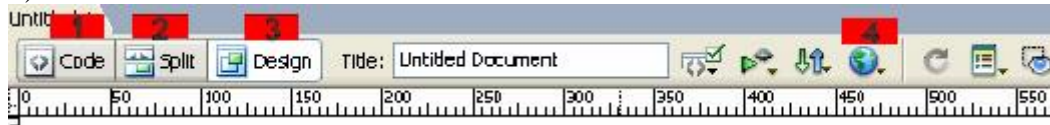
- A) 1
 - B) 2
 - C) 3
 - D) 4
- 2)



Yukarıdaki resimde (properties penceresi) yer alan alanlardan hangisi yazıyı italik olarak gösterir? (C)

- A) **B**
- B) *I*
- C) *I*
- D) **B**

3)



Dreamweaver programında yaptığı sayfa dizaynını internet explorerda önizleme yapmak

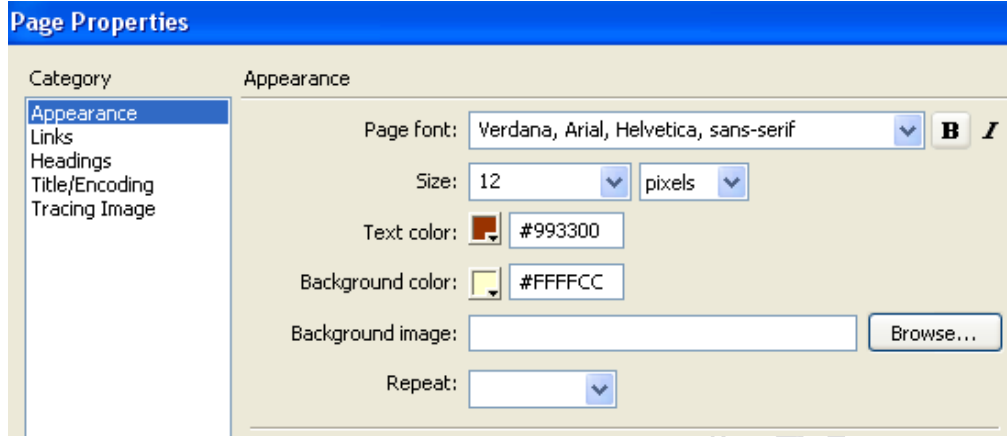
“ DOĞRU TERCİHLER SİZİ ÇÖZÜME GÖTÜRÜR “

Bizi Tercih Ettiğiniz İçin Teşekkür Ederiz, Tüm Kursiyerlerimize Sınavlarında Başarılar Dileriz..

İLETİŞİM : 0 (258) 265 57 52 - 241 75 15 - 0530 565 95 60 – 532 168 41 11 www.cozumkariyer.com

isteyen birisi yukarıda numaralarla belirtilen butonlardan hangisini kullanmalıdır?

- A) 1
- B) 2
- C) 3
- D) 4**

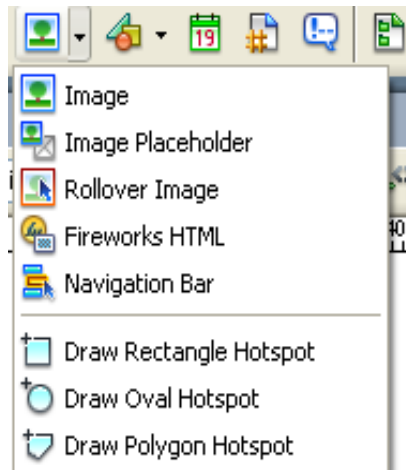


4) Dreamweaver programında Modify---Page properties ile açılan yukarıdaki pencerede birtakım ayarlamalar yapılmıştır. Buna göre aşağıdakilerden hangisi söylenemez?

- A) Yazı tipi Verdana, Arial, Helvetica, Sans-serif ayarlanmıştır.
- B) Yazı büyüklüğü 14 pixel olarak ayarlanmıştır.**
- C) Yazı rengi #993300 olarak ayarlanmıştır.
- D) Sayfa arkaplan rengi #FFFFCC olarak ayarlanmıştır.

5) Aşağıdaki araç çubuğuna göre sayfasına değişen resim eklemek isteyen biri hangi bölümü kullanacaktır?

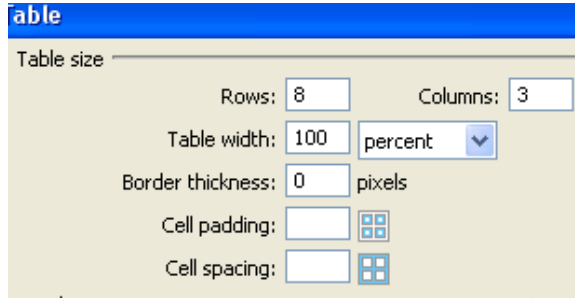
- A) Fireworks HTML
- B) Rollover Image**
- C) Image
- D) Image Placeholder



“ DOĞRU TERCİHLER SIZI ÇÖZÜME GOTURUR ”

6) Sayfasına tablo eklemek isteyen biri yandaki gibi ayarlamalar yapıyor. Buna göre aşağıdakilerden hangisi söylenebilir?

- A) Tablo 8 sütun olacaktır
B) Tablo 3 Satır olacaktır
C) Tablo %100 genişlikte olacaktır
D) Tablo 100 pixel genişliğinde olacaktır.

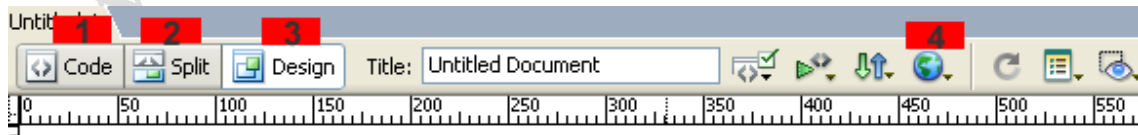


7) Sayfamızdaki forma bir check button eklemek için form araç çubuğundan aşağıdaki butonlardan hangisini kullanırsınız?

- A)  B)  C)  D) 

8) Sayfamızda yeni bir CSS tanımlamak isteyen birisi css paneli açıkken aşağıdaki butonlardan hangisini kullanmalıdır?

- A)  B)  C)  D) Hiçbiri



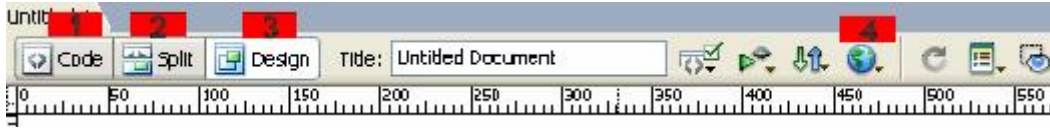
9) Dreamweaver programında kod görünümüne geçmek isteyen birisi yukarıda numaralarla belirtilen butonlardan hangisini kullanmalıdır?

- A) 1 B) 2 C) 3 D) 4

“ DOĞRU TERCİHLER SİZİ ÇÖZÜME GÖTÜRÜR “

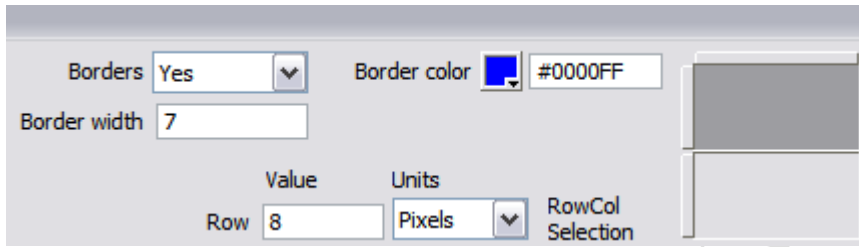
Bizi Tercih Ettiğiniz İçin Teşekkür Ederiz, Tüm Kursiyerlerimize Sınavlarında Başarılar Dileriz.

İLETİŞİM : 0(258) 265 57 52 - 241 75 15 - 0530 565 95 60 – 532 168 41 11 www.cozumkariyer.com



10) Dreamweaver programında kod ve dizayn görünümünü aynı anda görmek isteyen birisi yukarıda numaralarla belirtilen butonlardan hangisini kullanmalıdır?

- A) 1
- B) 2**
- C) 3
- D) 4







11) Yukarıda sayfaya bir frame eklenmiştir. Buna göre hangisi yanlıştır ?

- A) Sayfaya top(üst) frame eklenmiştir
- B) Framede çizgi kalınlığı 7 dir
- C) Framede satır kalınlığı 8 dir
- D) Sayfaya right frame eklenmiştir**

12- Dreamweaver de açtığımız sayfada birden fazla boşluk verebilmek için aşağıdakilerden hangisini yapmalıyız?

- A) CTRL + SHIFT + BOŞLUK
- B) CTRL + ENTER
- C) CTRL + S
- D) CTRL + F4

13- Sayfamızdaki yeni bir tablo eklemek için aşağıdaki butonlardan hangisini kullanırız?(B)

- A) 
- B) 
- C) 
- D) 



Yukarıdaki resimde (properties penceresi) yer alan alanlardan hangisi yazı punto boyutunu değiştirir?

“ DOĞRU TERCİHLER SİZİ ÇÖZÜME GÖTÜRÜR “

Bizi Tercih Ettiğiniz İçin Teşekkür Ederiz, Tüm Kursiyerlerimize Sınavlarında Başarılar Dileriz.
İLETİŞİM : 0 (258) 265 57 52 - 241 75 15 - 0530 565 95 60 – 532 168 41 11 www.cozumkariyer.com

A) Size

B) Page Properties...

C) Target

D) Font

Dreamweaver programında hepsinde nesneleri hizalamak için kullanılan panel hangisidir?

a. Layers

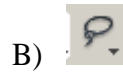
b. History

c. Align


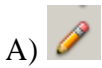
d. Colors


PHOTOSHOP TEST SORULARI

1. Aşağıdaki simgelerden hangisi kırpma (crop) işleminde kullanılır?



2. Bir resim veya grafik üzerinde kenar renk keskinliğini gidermek için aşağıdaki araçlardan hangisi kullanılır?



3. Tools Çubuğunda elips  simgesi seçili durumda iken çalışma alanı içerisine merkezden büyüyen daire çizmek için hangi yardımcı tuş/tuşlar kullanılır?

A) Shift

B) Alt

C) Shift + Alt

D) Ctrl

E) Ctrl + Alt

4. Menu seçeneklerini kullanarak yeni bir katman nasıl eklenir?

A) Layers/Duplicate Layer

B) Edit/Copy

C) Layers/New Layer

D) Windows/Layers

5. Asagidaki Layers arac penceresindeki göz şeklindeki ikon ne ifade eder?



“ DOĞRU TERCİHLER SİZİ ÇÖZÜME GÖTÜRÜR “

Bizi Tercih Ettiğiniz İçin Teşekkür Ederiz, Tüm Kursiyerlerimize Sınavlarında Başarılar Dileriz..

İLETİŞİM : 0 (258) 265 57 52 - 241 75 15 - 0530 565 95 60 – 532 168 41 11

www.cozumkariyer.com

- A) Fotoraftaki kırmızı göz efektini siler
B) Katmanın görünurlüğünü sağlar
C) Katmanın hatlarının sertleşmesini sağlar
D) Katmanın büyütülmesini sağlar

6. Aşağıdakilerden hangisi doğrudur?

- A) Katmanlar silinemez, değiştirilemez.
B) En üstte bulunan katman diğer katmanlarca görünür
C) En alttaki Background katmanı silinemez
D) Katmanların sırası değiştirilemez

7. 1 inç² deki piksel sayısına(resmin piksel yoğunluğuna,PPI=Pixel Per Inches) ne denilir?

- A) Çözünürlük
B) Rezolasyon
C) Dot Aralığı
D) LPI (Line Per Inch)

8. Bir defada ekranda görüntülebilen piksel sayısına ne denir?


- A) Çözünürlük
B) Rezolasyon
C) Dot Aralığı
D) LPI (Line Per Inch)

9. Aşağıdakilerden hangisi bir seçim simgesi değildir?

- A)  B)  C)  D)  E) 

10. Aşağıdaki seçeneklerden hangisi seçili bölge dışındaki alanların tamamını seçmek için kullanılır?

- A) Select/Inverse**
B) Edit/Paste Inside
C) View/Rulers
D) Modify/Ungroup
E) Select/All

11. Resimde görülen  komutunun görevi nedir?

- A) Dikdörtgen çizmek
B) Resimde gereksiz kısımları kırmak
C) Resimi ikiye bölmek
D) Resimde gölge yaratmak

12. Photoshop'un dosya tür uzantisi aşağıdakilerden hangisidir



- A) .jpg
B) .psd
C) .gif
D) .html

“ DOĞRU TERCİHLER SİZİ ÇÖZÜME GÖTÜRÜR “


Bizi Tercih Ettiğiniz İçin Teşekkür Ederiz, Tüm Kursiyerlerimize Sınavlarında Başarılar Dileriz..

İLETİŞİM : 0 (258) 265 57 52 - 241 75 15 - 0530 565 95 60 – 532 168 41 11

www.cozumkariyer.com

13. Yapılan hata nasıl geri alınır?
A) Aracı çubuğundaki sola mavi ok tuşuna basılır
B) Edit/Undo seçilir
C) Control+Z basılır
D) Yukarıdakilerin hepsi
14. Resimdeki  aracının ismi nedir
A) Lasso aracı
B) Magnetic Lasso aracı
C) Polygonal Lasso aracı
D) Rotate aracı
15. Seçili olan bir objeyi dondurmek için ne yaparız
A) Edit/Fill
B) Edit/ Stroke
C) Edit/Transform/Rotate
D) Edit/Purge
16. Bir resim dosyasının boyutlatını deęistirmek için ne yaparız?
A) Image/ Image Size
B) Image/ Canvas Size
C) View/ Print Size
D) File/ Page Setup
17. Bir resmin kenarlarının karakalem çizgilerini elde etmek için hangi işlemleri yaparız?
A) Image- Adjustment- Invert ardından Filter-Stylize-Find Edges
B) Image-Mode-Desaturate ardından Filter-Sytlize-Find Edges
C) Image-Mode-Desaturate ardından Filter-Sketch- Graphic Pen
D) Image-Adjustment-Invert ardından Filter-Sketch- Graphic Pen
18. Bir resmin rezolasyonunu artırırsak ne tür bir sonuç elde ederiz?
A) Görüntü küçülür
B) Görüntü kalitesi azalır
C) Dosyanın boyu büyür
D) Renk tonu deęişir.
19. Navigator araç penceresi ne için kullanılır?
A) Dosyalar arasında dolasmak için
B) Resmin içinde pencere ile dolasmak için
C) Resmin renkleri deęistirmek için
D) Resmin katmanlarını deęistirmek için
20. Araç çubuğundaki magic wand aracı ne için kullanılır?
A) Seçilen objeyi boyamak için kullanılır
B) İçine tıklanılan objeyi seçmek için kullanılır
C) İçine tıklanan objeyi başka bir obje ile deęistirmek için kullanılır
D) İçine tıklanan objeyi tasılamak için kullanılır
21. Resimdeki  aracının ne için kullanılır
A) Objeleri büyütüp-küçültmek
B) Objeleri dondurmek
C) Objeleri tasılamak
D) Objeleri seçmek için kullanılır

“ DOĞRU TERCİHLER SİZİ ÇÖZÜME GÖTÜRÜR “

22. Resimdeki  healing brush araci ne yapar?
A) Resimdeki siyah-beyaz renk dengesini saglar
B) Resimdeki hatali kisimlari veriler hedef nokta sayesinde onarmayi saglar
C) Resimdeki istenmeyen kisimlari yok etmeyi saglar
D) Resimdeki renk tonlari araligini duzenlememizi saglar
23. Kontrast (Constrast) ne demektir?
A) Resimdeki acik ve koyu renk farki
B) Resimdeki bulanik ve keskin renk farki
C) Resimdeki siyah ve beyaz renk orani
D) Resimdeki ıřık orani
24. Damlalik (eyedropper) araci ne yapar?
A) Renklerin dagilmasini, bulaniklasmasini saglar
B) Resmi daha keskin gosterir
C) Tiklanan yerin rengini yakalamayi saglar
D) Tiklanan rengin acilmasini saglar
25. Resimde istenmeyen bir kısmi silmek ama arka plan rengini korumak icin hangi araci kullaniriz
A) Patch
B) Eraser
C) Smudge
D) Stamp
26. Rectangular Marquee(dikdortgen secme) araci ile secilen bir yeri boyamak icin hangi araci kullaniriz?
A) Brush Tool
B) Pen Tool
C) Pencil Tool
D) Paint Bucket Tool
27. Bir resmi daha keskinlestirmek icin asagidaki filtrelerden hangisini kullaniriz?
A) Blur
B) Noise
C) Sharpen
D) Distort
28. Bir resmin hatlarini daha yumusatmak icin hangi filtre kullanilir?
A) Blur
B) Noise
C) Sharpen
D) Distort
29. Bir resmi kalem ile kirmizi renge boyamak icin ne yapilir?
A) Pen araci secilir, ön plan renk kutusuna tiklanir, kirmizi renk secilir
B) Pencil araci secilir, ön plan renk kutusuna tiklanir, kirmizi renk secilir
C) Paint Bucket araci secilir, ön plan renk kutusuna tiklanir, kirmizi renk secilir
D) Brush araci secilir, ön plan renk kutusuna tiklanir, kirmizi renk secilir.
30. Resimde silinen bolgenin rengini degistirmek icin ne yapariz
A) On plan rengini renk kutucugundan degistiririz
B) Arka plan rengini renk kutucugundan degistiririz
C) Edit-Stroke secenegini seceriz
D) Image-mode-RGB secenegi secilir

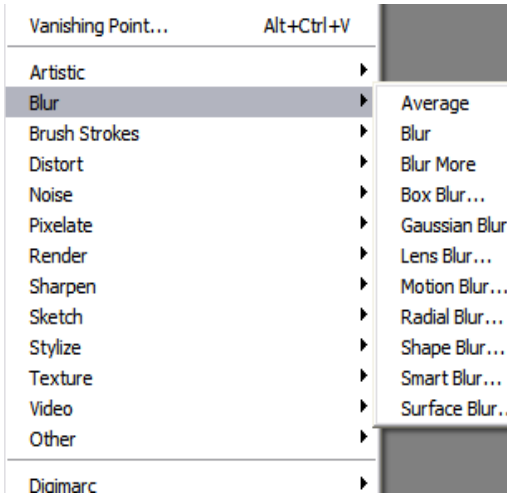
“ DOĐRU TERCİHLER SİZİ ÇÖZÜME GÖTÜRÜR “



31. Yandaki numaralı araçlardan hangisi resmi keskinleştirmeye yarar?

- A) 1 B) 2 **C) 3** D) 4

32. Şekilde görülen filtreler resimde ne gibi bir değişiklik yapar?



- A) Resmi bulanıklaştırır**
B) Resmi keskinleştirir
C) Resme parazit katar
D) Resmin renk ayarlarını yapmamızı sağlar

33. Photoshopta bir layerin özelliğini yeni bir layera kopyalamak için layer menüsünden hangisini kullanmalıyız?

- A) Layer mask
B) Fill layer
C) Duplicate layer
D) Merge layers

34. Farklı programlarda yapılmış dosyaları çalışma alanı içerisine eklemek için aşağıdaki menülerden hangisi kullanılır?

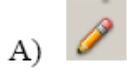
- A) Modify/Group
B) Modify/Canvas/Fit Canvas
C) File/Import
D) File/Open Recent

“ DOĞRU TERCİHLER SİZİ ÇÖZÜME GÖTÜRÜR “

Bizi Tercih Ettiğiniz İçin Teşekkür Ederiz, Tüm Kursiyerlerimize Sınavlarında Başarılar Dileriz..

İLETİŞİM : 0 (258) 265 57 52 - 241 75 15 - 0530 565 95 60 – 532 168 41 11 www.cozumkariyer.com

35. Çalışma alanı içerisindeki bir nesnenin belli bir bölgesinin kopyası oluşturulmak istendiğinde aşağıdaki araçlardan hangisi kullanılır?



36. Çalışma alanı içerisine kılavuz çizgileri yerleştirmek için hangi araçtan faydalanılır?

- A) Tools
- B) Menu Bar
- C) Properties
- D) Rulers**

37. Aşağıdakilerden hangisi menü olarak Photoshop Programında bulunmaz?

- a.Select
- b.Layer
- c.İmage
- d.Arrange**

38. Photoshop programında Tools araç paleti nereden aktif pasif edilir?

- a.Select
- b.Window**
- c.İmage
- d.Layer

39. Photoshop programının görevi aşağıdaki seçeneklerden hangisinde doğru olarak verilmiştir?

- a.Pixel tabanlı resim düzenleme programıdır.**
- b.Vektörel tabanlı resim düzenleme programıdır.
- c.Vektörel tabanlı dizgi programıdır.
- d.Vektörel tabanlı web tasarım programıdır.

40. Photoshop programı aşağıdaki program gruplarından hangisine girer?

- a.Bitmap Program**
- b.Vektörel Program
- c.Kelime İşlemci
- d.Hesap Tablo

“ DOĞRU TERCİHLER SİZİ ÇÖZÜME GÖTÜRÜR “

Bizi Tercih Ettiğiniz İçin Teşekkür Ederiz, Tüm Kursiyerlerimize Sınavlarında Başarılar Dileriz..

İLETİŞİM : 0(258) 265 57 52 - 241 75 15 - 0530 565 95 60 – 532 168 41 11 www.cozumkariyer.com


41. Aşağıdaki yöntemlerden hangisi resme ışık veren İmage efektidir?
a. İmage-Adjustment-Invert
b. İmage-Adjustment-Replace Color
c. İmage-Adjustment-Expusere
d. İmage-Adjustment-Hue Saturation
42. Bir resmi en son kayıtlı haline döndürmek için izlenmesi gerek yol aşağıdakilerden hangisidir?
a. File- İmport
b. File- Export
c. File- Revert
d. File-Automate
43. Photoshop programında Open Recent seçeneğinin görevi aşağıdakilerden hangisinde doğru olarak verilmiştir.
a. Son Kullanılan resim dosyasını açar.
b. En son Kullanılan resimlerin listesini verir.
c. Kayıtlı Photoshop Dosyalarını açar.
d. Jpeg resimleri Psd olarak açar.
44. Photoshop Programında en son seçimi tekrar çağırmak için izlenmesi gereken yol aşağıdakilerden hangisidir?
a. Select- Deselect
b. Select- Reselect
c. Select- Inverse
d. Select- Similar
45. Photoshop Programında seçili bölgenin seçimini iptal edip Seçili bölgenin Dışındaki bölgeleri seçmek için izlenmesi gereken yol aşağıdakilerden hangisidir?
a. Select- Deselect
b. Select- Reselect
c. Select- Inverse
d. Select- Similar
46. Photoshop programında Stroke seçeneğinin görevi aşağıdakilerden hangisinde doğru olarak verilmiştir?
a. Seçili Alana Dolgu ekler.
b. Seçili Alana Doku ekler.
c. Seçili Alana çerçeve ekler.
d. Seçili Alanı siler.

“ DOĞRU TERCİHLER SİZİ ÇÖZÜME GÖTÜRÜR “

Bizi Tercih Ettiğiniz İçin Teşekkür Ederiz, Tüm Kursiyerlerimize Sınavlarında Başarılar Dileriz..

İLETİŞİM : 0 (258) 265 57 52 - 241 75 15 - 0530 565 95 60 – 532 168 41 11

www.cozumkariyer.com

47.  **Photoshopta bu simgenin ismi ve görevi nedir?**
a.Move Tool- Boyama İşlemi Yapar.
b.Move Tool- Taşıma İşlemi Yapar.
c.Blur Tool- Resmi bulanıklaştırır.
d.Move Tool- Resmi keskinleştirir.
48. **Mevcut bir resmin çözünürlüğünü ve boyutunu değiştirmenin yöntemi aşağıdakilerden hangisinde doğru olarak verilmiştir?**
a.Hue Saturation
b.Image Size
c. Canvas Size
d. Trim
49. **Aşağıdaki yöntemlerden hangisi ile Photoshop çalışma alanına bir resim katman olarak aktarılamaz?**
a.İki resim açılır Biri Diğeri üzerine sürükle bırak
b.Kopyala-Yapıştır
c.File-Revert
d.File-Place
50. **Siyah Beyaz resmin Renkli bir resme dönüştürmenin ilk aşaması aşağıdakilerden hangisinde doğru olarak verilmiştir?**
a.İmage-Trim özelliği verilerek,
b.View Gamut warning özelliği uygulanarak,
c.İmage-Adjustmet- Hue Saturation özelliği uygulanarak,
d.İmage- Mode- RGB veya CMYK Mode seçeneklerinden biri seçilerek
51. **Klavyede bulunan Tab tuşunun görevi nedir?**
a.Açık olan Photoshop dokümanları arasında geçiş yapmayı sağlar.
b.Tools seçenekleri arasında geçiş yapmayı sağlar.
c.Photoshop Ekranındaki Tools, Paletler ve Options çubuğunu gizleyip göstermeyi d.sağlar.
Ekran Modları arasında geçiş yapmayı sağlar.
52. **Photoshop programına yeni fırça Stili tanımlamak için aşağıdakilerden hangisi yapılır?**
a.Define Custom Shape
b.Define Pattern
c.Define Brush Preset
d.Check-in

“ DOĞRU TERCİHLER SİZİ ÇÖZÜME GÖTÜRÜR “

Bizi Tercih Ettiğiniz İçin Teşekkür Ederiz, Tüm Kursiyerlerimize Sınavlarında Başarılar Dileriz.
İLETİŞİM : 0 (258) 265 57 52 - 241 75 15 - 0530 565 95 60 – 532 168 41 11 www.cozumkariyer.com

53. Photoshop programında Transparanlık özelliği veren özellik aşağıdakilerden hangisidir?
a.Mode
b.Opacity
c.Extract
d.Liquify
54. Çayırda yayılan bir geyiği aynısını klonlama yöntemi aşağıdakilerden hangisidir?
a.Tools Araç paletindeki Clone Stamp aracını Alt tuşu ile kullanarak,
b.Tools Araç paletindeki Clone Stamp aracını Shift tuşu ile kullanarak,
c.Tools Araç paletindeki Brush Tool aracını Alt tuşu ile kullanarak,
d.Tools Araç paletindeki Healing Brush Tool aracını Alt tuşu ile kullanarak,
55. Photoshop programında yapmak istediğimi iş gerçekleştiremiyorsa aşağıdaki nedenlerden hangisi bunun nedeni olamaz?
a.Yanlış Layer da çalışıyorum,
b.Yanlış Tool ile çalışıyorum,
c.Quick selection modunda çalışıyorum,
d.Çalışmam Sadece bir Layer'dan oluşuyor,
56. Photoshop'da resmi Bulanıklaştırma efekti veren Araç Aşağıdakilerden hangisidir?
a.Sharpen tool
b.Blur tool
c.Burn tool
d.Smudge Tool
57. Aynı anda birden fazla seçim yapmak için hangi tuş kullanılır?
a.Ctrl
b.Ctrl + Space
c.Shift
d.Shift + Space
58. Photoshop programında Hand Tool aracının görevi aşağıdakilerden hangisinde doğru olarak verilmiştir?
a.Çalışma sayfasını büyütür.
b.Çalışmayı istenilen bir bölgenin önüne getirmeyi sağlar.
c.Sayfayı taşır.
d.Vektörel çizime tırmık şeklinde müdahale eder.
59. Mevcut bir resmin resim boyutu değişmeden resmin kenarlarını genişletmek için izlenmesi gereken yol aşağıdakilerden hangisidir?
a.Image-Canvas Size
b.İmage-Adjustment

“ DOĞRU TERCİHLER SİZİ ÇÖZÜME GÖTÜRÜR “

Bizi Tercih Ettiğiniz İçin Teşekkür Ederiz, Tüm Kursiyerlerimize Sınavlarında Başarılar Dileriz..

İLETİŞİM : 0 (258) 265 57 52 - 241 75 15 - 0530 565 95 60 – 532 168 41 11 www.cozumkariyer.com

- c.File-Page Setup
d.İmage – İmage Size
60. Resim içerisindeki tüm beyaz pikselleri seçmenin en güzel yöntemi aşağıdakilerden hangisidir?
a.Select- Color Range
b.Select-Modify-Border
c.Select-Similar
d.Select-Modify-Expand
61. Background Color nedir?
a.Önalan rengidir.
b.Arka plan rengidir.
c.Yazı tipi rengidir.
d.Aktif Layer'ın rengidir.
62. Bir resmin renklerini düzenlemede genelde hangi renk modu kullanılır?
a.Bitmap mode
b.Grayscale mode
c.RGB renk modu
d.CMYK mode
63. Photoshop'da bir yazıya Wordart stili vermenin yöntemi aşağıdakilerden hangisidir?
a.Text Layer seçilir Edit- Transform - Skew
b.Text Layer seçilir Edit- Transform - Skala
c.Text Layer seçilir Edit- Transform - Distort
d.Text Layer seçilir Edit- Transform - Warp
64. Photoshop Tools paletinde aşağıdaki araçlardan hangisi bulunmaz?
a.Zoom Tool
b.Bursh Tool
c.Gradient Tool
d.Mesh fill Tool
65. Photoshop programında aşağıdakilerden hangisi seçim aracı değildir?
a.Quick Selection Tool
b.Select- Color Range
c.Type Tool
d.Magic Wand Tool

“ DOĞRU TERCİHLER SİZİ ÇÖZÜME GÖTÜRÜR “

Bizi Tercih Ettiğiniz İçin Teşekkür Ederiz, Tüm Kursiyerlerimize Sınavlarında Başarılar Dileriz..

İLETİŞİM : 0(258) 265 57 52 - 241 75 15 - 0530 565 95 60 – 532 168 41 11 www.cozumkariyer.com

66. **İmage Canvas Size** komutunun görevi nedir?

- a.Sayfa Boyutunu ayarlama.**
- b.Resmin Çözünürlüğünü ayarlama,
- c.Resmin yönünü ayarlama,
- d.Aktif karmanın boyutunu ayarlama,

67. **Photoshop'da aktif katmanı yatay olarak döndürmek için izlenmesi gereken yol** aşağıdakilerden hangisidir?

- a.İmage-Rotate Canvas Rotate
- b.İmage-Rotate Canvas 90° CW
- c.Edit-Transform-Rotate

d.İmage-Rotate Canvas 90o CW

68. **Bir resmi saat yönünün 90° tersinde döndürmek için izlenmesi gereken yol** aşağıdakilerden hangisidir?

- a.İmage-İmage Size
- b.Ctrl+T
- c.Edit-Free Transform

d.İmage-Rotate Canvas 90o CW

69. **Photoshop Ekranında mevcut bir seçimi saklamanın yolu** aşağıdakilerden hangisidir?

- a.Select-Load Selection
- b.Select-Save Selection**
- c.Select-Similar
- d.Select-Grow

70. **Photoshopda Filter-Liquify'nin görevi** nedir?

- a.Deforme etme görevini yapar**
- b.Hizalama görevi yapar
- c.Rötuş(düzeltilme) yapar
- d.Renk modunu ayarlar


71. **Aşağıdakilerden hangisi Duplicate karşılık gelmektedir?**

- a.Seçime dönüştürmeyi sağlar
- b.Secimi Çoğaltmayı sağlar**
- c.Seçimi iptal eder
- d.Sayfa başına döner

“ DOĞRU TERCİHLER SİZİ ÇÖZÜME GÖTÜRÜR “

Bizi Tercih Ettiğiniz İçin Teşekkür Ederiz, Tüm Kursiyerlerimize Sınavlarında Başarılar Dileriz..

İLETİŞİM : 0(258) 265 57 52 - 241 75 15 - 0530 565 95 60 – 532 168 41 11 www.cozumkariyer.com

72. Photoshop da iki resim katmanını geçiş yaparak birleştirmek için hangi araç kullanılır?
a.Clone Stamp Tool
b.Blur Tool
c.Gradient Tool
d.Patch Tool
73. Photoshop'da tüm katmanları tek bir Background katmanına kilitlemenin yolu aşağıdakilerden hangisidir?
a.Layer – Lock Layer
b.Layer Flatten image
c.Layer Merg Down
d.Layer – Merg Visible
74. Photoshop araçlarından Magic Wand Tool için aşağıdakilerden hangisi doğrudur?
a.Hızlı seçim aracıdır,
b.Klonlama aracıdır.
c.Poligonal seçim aracıdır..
d.Tolerans değerine göre tıklanan bölgedeki renk ve ona yakın olan renkleri seçmeyi sağlar.
75. Photoshop ekranında bir belge yada resmin kopyasını hangi komutla alırız?
a.Duplicate
b.Copy Merge.
c.Photomerge
d.Flatten İmage
76. Photoshop'da bir resmin saydam pikseller ve boş kısımlarını kırpma işlemi aşağıdaki yöntemlerden hangisi ile yapılabilir?
a.İmage-Reveal All
b.Layer-Trim
c.İmage-Trim
d.İmage – Dublicate
77.  Photoshop'da bu aracın ismi ve görevi aşağıdaki şıklardan hangisinde doğru olarak verilmiştir?
a.Eraser Tool Seçme Aracıdır.
b.Eraser Tool Silme Aracıdır.
c.Eyedropper Tool Silme Aracıdır.
d.Eyedropper Tool Boyutlandırma Aracıdır.

“ DOĞRU TERCİHLER SİZİ ÇÖZÜME GÖTÜRÜR “

Bizi Tercih Ettiğiniz İçin Teşekkür Ederiz, Tüm Kursiyerlerimize Sınavlarında Başarılar Dileriz.
İLETİŞİM : 0 (258) 265 57 52 - 241 75 15 - 0530 565 95 60 – 532 168 41 11 www.cozumkariyer.com

78. Eyedropper ve Paintbucket Tool araçlarının görevi sırasıyla aşağıdakilerden hangisidir?
a.Kopyala ve yapıştır
b.Kırp ve düzelt
c.Renk seç ve seçilen rengi uygula
d.Renk seç ve seçilen rengi kopyala
79. Aşağıdakilerden hangisi Photoshop programıyla ilgili değildir?
a.Resimleri birleştirmeyi sağlayan bir programdır
b.PSD, TIFF gibi formatlarda kayıt yapan bir programdır.
c.Üzerinde hesaplama yapılabilen bir programdır.
d.Katmanlardan oluşan resimleri düzenlemek için kullanılan bir programdır.
80. Photoshop programında Rectangular Marquee Tool aracının görevi nedir?
a.Kare şeklinde çizim yapmayı sağlar
b.Dikdörtgen şeklinde seçim yapmaya yarar
c.Nesneleri taşımakta kullanılır.
d.Çizim paletidir.
81. Aşağıdakilerden hangisi Photoshop programındaki “Horizontal Type Tool” un görevidir?
a.Resme çerçeve eklemeyi sağlar.
b.Çalışmaya katman olarak yazı yazmayı sağlar.
c.Resme ters çevirir.
d.Seçim yapmayı sağlar.
82. Photoshop programında kullanılan Araç paletlerini hangi menüden açıp kapatıyoruz?
a.View
b.Filter
c.Edit
d.Window
83. Aşağıdakilerden hangisi katman yönteminin özelliğidir?
a.Bir görüntünün ya da yazının seçilmiş bir kısmının çıkartıp panoya kopyalamayı sağlayan bir yöntem.
b. Nesnelerin, görüntünün bütününe etkilemeden, ayrı düzlemler üzerine verleştirilip düzeltilebilmesine imkan veren bir yöntem.
c. Renk tabanlı hızlı seçim aracıdır.
d.Seçili alanı verilen değer oranında genişletir.
84. Photoshop programında aşağıdakilerden hangisi Freeform Pen Tool aracının görevidir?
a.Çizilen pathe müdahale noktaları oluşturmayı sağlar.

“ DOĞRU TERCİHLER SİZİ ÇÖZÜME GÖTÜRÜR “

Bizi Tercih Ettiğiniz İçin Teşekkür Ederiz, Tüm Kursiyerlerimize Sınavlarında Başarılar Dileriz..

İLETİŞİM : 0 (258) 265 57 52 - 241 75 15 - 0530 565 95 60 – 532 168 41 11 www.cozumkariyer.com

b.Serbest Path oluşturma aracıdır.

- c.Oluşturulan Path deki müdahale noktalarını silmeyi sağlar.
d.Oluşturulan Path de müdahale noktalarından müdahale etmeyi sağlar.

85. Photoshop'da Select menüsünde bulunan "Deselect" ve "Reselect" komutlarının görevleri hangi aşağıdakilerden hangisinde doğru sıralanmıştır?

- a.Önceki seçimi tekrar seçmek – seçili alanı iptal etmek
b.Baskı önizleme – tam ekran göstermek

c.Seçili alanı iptal etmek – Önceki seçimi tekrar seçmek

- d.Tüm alanı seçmek – seçili bölgenin dışında kalan alanları seçmek

86. Photoshop'da "Clone Stamp Tool" aracının görevi nedir?

- a.Seçili olan bölgeyi başka aynı resim üzerinde başka bir yere klonlamaya yarar.

b.Seçilen bölgeyi kopyalayıp başka yere yapıştırmaya yarar.

- c.Resme ışık vermeye yarar.
d.Resimdeki katmanları silmeye yarar.

87. Aşağıdakilerden hangisi Arka Plan Temizleme metodu değildir?

- a. Pen Tool
b. Extract
c. Color Range
d. **Gradient Tool**

88. Aşağıdakilerden hangisi kontrast farkı çok olan kenarlarda kenarlara yapışarak kolayca seçmeyi sağlar?

- a. Magic Wand Tool
b. **Magnetic Lasso Tool**
c. Clone Stamp Tool
d. Healing Brush Tool

89. Aşağıdaki hangi filtre ışık yansıması efekti verir?

- a. **Filter/Render/Lens Flare**
b. Filter/Extract
c. Filter/Stylize/Emboss
d. Filter/Pixelate/Facet

90. Bir kenar çizgileri pixel olarak çizilen bir objenin vektörel olarak çizimi nasıl oluşturulur?

- a. Katmanlar menüsünden, katman maskesi oluşturulur.
b. **Seçim aracı ile seçilip, work path oluşturulur.**
c. Katmanlar menüsünden Blending Options, pattern oluşturulur.
d. Channel munsunen sadece Blue kanalı seçerek oluşturulur.

“ DOĞRU TERCİHLER SİZİ ÇÖZÜME GÖTÜRÜR “

Bizi Tercih Ettiğiniz İçin Teşekkür Ederiz, Tüm Kursiyerlerimize Sınavlarında Başarılar Dileriz..

İLETİŞİM : 0 (258) 265 57 52 - 241 75 15 - 0530 565 95 60 – 532 168 41 11 www.cozumkariyer.com

91. Katmanımıza stil eklemek için aşağıdaki araçlardan hangisini kullanabiliriz ?



- A) Hızlı seçim aracı
B) Taşıma aracı
C) Kement aracı
D) Yol seçim aracı

92. -  yandaki palettteki araçların görevleri nelerdir ?

- A) Birleştir-Katman stili ekle- katman maskesi ekle-yeni katman-katmanı sil
B) Katman stili ekle-katman maskesi ekle- Birleştir-yeni katman-katmanı sil
C) katman maskesi ekle- Birleştir-yeni katman-katmanı sil- Katman stili ekle
D) Birleştir-yeni katman-katmanı sil- Katman stili ekle- katman maskesi ekle

93. Photoshopda hangi kısayol fareyi seçili konumdan çıkartır?

- a. ctrl+alt+tab
b. ctrl+D
c. alt+F4
d. Ctrl+Shift+alt

WEB TASARIM VE HTM TEST SORULARI

- 1) HTML nedir?
a) Sayfa içindeki metinlerin tarayıcıda nasıl görüneceğini ve işlevsel olacağını düzenleyen işaret dilidir.
b) Diğer sayfaları bağlayan linkler
c) Nesneyi bağlayan linkler
d) XML etiketleri
- 2) Html etiketleri hangi karakterler arasına yazılır?
a) <> b) # # c) { } d) “ “
- 3) Aşağıdakilerden hangisi bir web sitesinin varsayılan anasayfa dosyasının adıdır?
a) anasayfa.htm b) anasayfa.html
c) index.html d) giris.htm
- 4) Başlık etiketlerinde hangisinde yazı boyutu en büyüktür?
a) <h1> b) <h2> c) <h3> d) <h4>
- 5) Bir web sayfası hangi HTML etiketi ile başlar?
a) <body> b) <html> c) <head> d) <title>
- 6) HTML dokümanına ilişkin tanımlamaların yapıldığı HTML etiketi aşağıdakilerden hangisidir?
a) <body> b) <html> c) <head> d) <title>
- 7) HTML dokümanının başlık çubuğunda yer alacak başlık yazısı hangi HTML etiketleri arasına yazılır?
a) <body> b) <html> c) <head> d) <title>

“ DOĞRU TERCİHLER SİZİ ÇÖZÜME GÖTÜRÜR “

- 8) HTML dokümanının esas içerik kısmı hangi HTML etiketi ile başlar?
a) <body> b) <html> c) <head> d) <title>
- 9) Alt satıra geçmek için kullanılan HTML etiketi aşağıdakilerden hangisidir?
a)
 b) <hr> c) <enter> d) </p>
- 10) Bir çizgi eklemek için kullanılan HTML etiketi aşağıdakilerden hangisidir?
a)
 b) <hr> c) <draw> d) <layer>
- 11) Aşağıdakilerden hangisi boşluk bırakmak için kullanılır?
a)
 b) c) <hr> d)
- 12) Link(bağlantı) oluşturmak için kullanılan HTML etiketi aşağıdakilerden hangisidir?
a) <a> b) c) d) <div>
- 13) Oluşturulacak linke ait dosyanın belirlendiği HTML parametresi aşağıdakilerden hangisidir?
a) a b) href c) src d) align
- 14) Linkin tıklanması durumunda sayfanın aynı pencere içinde açılmasını sağlayan HTML parametresi aşağıdakilerden hangisidir?
a) target=""_top" b) target=""_parent"
c) target=""_self" d) target=""_blank"
- 15) Linkin tıklanması durumunda sayfanın yeni pencerede açılmasını sağlayan HTML parametresi aşağıdakilerden hangisidir?
a) target=""_top" b) target=""_parent" c) target=""_self" d) target=""_blank"
- 16) Tablo oluşturmak için kullanılan HTML etiketi aşağıdakilerden hangisidir
a) <body> b) <html>
c) <head> d) <table>
- 17) Tablo içerisinde satır açmak için kullanılan HTML etiketi aşağıdakilerden hangisidir?
a) <td> b) <tr> c) <column> d) <row>
- 18) Tablo içerisinde sütun açmak için kullanılan HTML etiketi aşağıdakilerden hangisidir?
a) <td> b) <tr> c) <column> d) <row>
- 19) Tabloda aynı satırları birleştirmeyi sağlayan etiket hangisidir?
a) border b) rowspan c) colspan d) cellspacing
- 20) Bir tablonun arkaplanına resim yerleştirmek için kullanılan HTML parametresi aşağıdakilerden hangisidir?
a) bgcolor b) img
c) image d) background
- 21) Bir tablonun arkaplan rengini ayarlamak için kullanılan HTML parametresi aşağıdakilerden hangisidir?
a) bgcolor b) img
c) image d) background
- 22) HTML sayfasının arka zeminini mavi yapmak için hangi HTML satırı kullanılır?
a) <body color=""blue"> b) <body bgcolor=""blue">
c) <body background=""blue"> d) <body set=""blue">

“ DOĞRU TERCİHLER SİZİ ÇÖZÜME GÖTÜRÜR “

Bizi Tercih Ettiğiniz İçin Teşekkür Ederiz, Tüm Kursiyerlerimize Sınavlarında Başarılar Dileriz..

İLETİŞİM : 0 (258) 265 57 52 - 241 75 15 - 0530 565 95 60 – 532 168 41 11 www.cozumkariyer.com

- 23) Bir tablonun kenarlık kalınlığını ayarlamak için kullanılan HTML parametresi aşağıdakilerden hangisidir?
a) border b) height c) width d) align
- 24) Bir tablonun kenarlık rengini ayarlamak için kullanılan HTML parametresi aşağıdakilerden hangisidir?
a) border b) bgcolor c) bordercolor d) align
- 25) Paragraf için kullanılan HTML etiketi aşağıdakilerden hangisidir?
a) <p> b) <hr> c) <td> d) <tr>
- 26) Bir yazıyı kalın(bold) yapmak için kullanılan HTML etiketi aşağıdakilerden hangisidir?
a) b) <i> c) d) <u>
- 27) Sayfaya resim yerleştirmek için kullanılan HTML etiketi aşağıdakilerden hangisidir?
a) b) <body> c) <div> d) <table>
- 28) Numaralı liste için kullanılan etiketler hangisidir?
a) .. b) ..
c) <dl>..</dl> d) <dt>..</dt>
- 29) Aşağıda verilen link komutlarından hangisi doğrudur?
a) Tıklayınız</img/a>
b) Tıklayınız
c) <href="http://www.meb.gov.tr">
d) Tıklayınız
- 30) Hangisi geçerli bir mail adresi bağlantısıdır?
a) <link href="mailto:megep@meb.gov.tr"> mailto:megep@meb.gov.tr</link>
b) <href="mailto:megep@meb.gov.tr"> maillerinizi bekliyoruz.
c) <href="to:megep@meb.gov.tr">to:megep @meb.gov.tr
d) megep@meb.gov.tr
- 31) Resmin kaynağını belirtmek için kullanılan HTML parametresi aşağıdakilerden hangisidir?
a) img b) align c) src d) border
- 32) Mouse ile resmin üzerine gelindiğinde istenilen bir mesajın çıkmasını sağlayan HTML parametresi aşağıdakilerden hangisidir?
a) alt b) value c) src d) top
- 33) Bir tablo veya resmin genişliğini ayarlamak için kullanılan HTML parametresi aşağıdakilerden hangisidir?
a) height b) width c) left d) top
- 34) Bir tablo veya resmin yüksekliğini ayarlamak için kullanılan HTML parametresi aşağıdakilerden hangisidir?
a) height b) width c) left d) top
- 35) Bir tablonun sütununda yer alan bilginin yatay hizalamasını ayarlamak için kullanılan HTML parametresi aşağıdakilerden hangisidir?
a) top b) align c) valign d) height
- 36) Bir tablonun sütununda yer alan bilginin dikey hizalamasını ayarlamak için kullanılan HTML parametresi aşağıdakilerden hangisidir?
a) top b) align c) valign d) height

“ DOĞRU TERCİHLER SİZİ ÇÖZÜME GÖTÜRÜR “

Bizi Tercih Ettiğiniz İçin Teşekkür Ederiz, Tüm Kursiyerlerimize Sınavlarında Başarılar Dileriz.
İLETİŞİM : 0 (258) 265 57 52 - 241 75 15 - 0530 565 95 60 – 532 168 41 11 www.cozumkariyer.com

- 37) Bir yazının biçimlendirilmesi için kullanılan HTML etiketi aşağıdakilerden hangisidir?
a) b) <body>
c) <title> d) <table>
- 38) Bir yazının yazı karakter boyutunu değiştirmek için kullanılan HTML parametresi aşağıdakilerden hangisidir?
a) size b) height c) title d) width
- 39) Bir yazının yazı karakter tipini değiştirmek için kullanılan HTML parametresi aşağıdakilerden hangisidir?
a) size b) face c) title d) color
- 40) Bir yazının yazı karakter rengini değiştirmek için kullanılan HTML parametresi aşağıdakilerden hangisidir?
a) size b) face c) title d) color
- 41) Kayan yazı oluşturmak için kullanılan HTML etiketi aşağıdakilerden hangisidir?
a) <iframe> b) <div> c) <p> d) <marquee>
- 42) Bir form oluşturmak için kullanılan HTML etiketi aşağıdakilerden hangisidir?
a) <form> b) <input> c) <submit> d) <body>
- 43) Herhangi bir bilgisayara bağlanmak için karmaşık IP numaralarını akılda tutmak yerine hatırlanması ve yazılması kolay alan adlarına ne denir?
a) Browser b) İnternet c) Domain d) Server
- 44) Birçok bilgisayar sisteminin birbirine bağlı olduğu, dünya çapında yaygın olan ve sürekli büyüyen iletişim ağına ne denir?
a) IP b) Domain c) İnternet d) Protokol
- 45) Aşağıdaki eşleştirmelerden hangisi yanlıştır?
a) gov: Hükümet kurumları b) com: Ticari kurumlar
c) edu: Eğitim kurumları d) org: Askeri kurumlar
- 46) FTP nedir?
a) Dosya transfer protokolü b) İnternet protokolü
c) Alan adı d) Web sunucu
- 47) Standart bir html dosyasının uzantısı aşağıdakilerden hangisi olabilir?
a) txt b) doc c) html d) http
- 48) Aşağıdaki programlardan hangisi site hazırlamak ve yönetmek için en ideal programdır?
a) Flash b) Dreamweaver
c) Fireworks d) Excel
- 49) HTML'nin uzun hali aşağıdakilerden Hangisidir?
a) Hyper Text Markup Language
b) Hyper Main Language
c) Http Text Markup Language
d) Hotmail

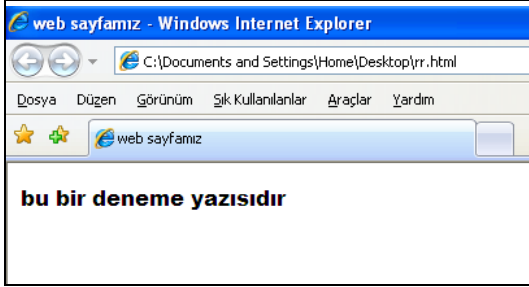
“ DOĞRU TERCİHLER SİZİ ÇÖZÜME GÖTÜRÜR “

Bizi Tercih Ettiğiniz İçin Teşekkür Ederiz, Tüm Kursiyerlerimize Sınavlarında Başarılar Dileriz..

İLETİŞİM : 0 (258) 265 57 52 - 241 75 15 - 0530 565 95 60 – 532 168 41 11 www.cozumkariyer.com

50) Aşağıdakilerden hangisi ile Web Sayfası oluşturulamaz

- a) Fireworks
- b) Word
- c) Dreamweaver
- d) **Norton Antivirüs**



51) Yandaki ekran görüntüsü için Aşağıdaki kodlardan hangisi yazılmalıdır?

a)

```
<html>
<head>
<title> web sayfamız </title>
</head>
<body>
<p> <font face="arial black"> bu bir deneme yazısıdır </font></p>
</body>
</html>
```

b)

```
<html>
<head>
<title> Uygulama Sınavı </title>
</head>
<body>
<p> <font bgcolor="arial black"> bu bir deneme yazısıdır </font></p>
</body>
</html>
```

c)

```
<html>
<head>
<title> web sayfamız </title>
</head>
<body>
<p> <font="arial black"> bu bir deneme yazısıdır </font></p>
</body>
</html>
```

d)

```
<html>
<head>
<title> web sayfamız </title>
</head>
```

“ DOĞRU TERCİHLER SİZİ ÇÖZÜME GÖTÜRÜR “

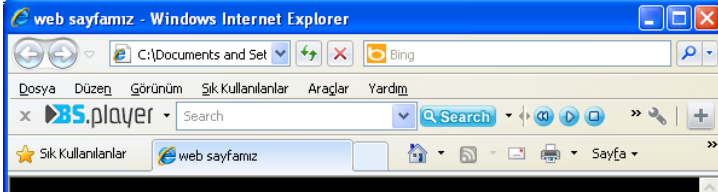
Bizi Tercih Ettiğiniz İçin Teşekkür Ederiz, Tüm Kursiyerlerimize Sınavlarında Başarılar Dileriz..

İLETİŞİM : 0(258) 265 57 52 - 241 75 15 - 0530 565 95 60 – 532 168 41 11

www.cozumkariyer.com

```
<body>
<p> <font size="arial black"> bu bir deneme yazısıdır </font></p>
</body>
</html>
```

52)



Web sayfamızın başlık çubuğunda “web sayfamız “yazması için aşağıdaki kodlardan hangisi yazılmalıdır?

a)

```
<html>
<head>
<title> Uygulama sınavımız </title>
</head>
</html>
```

b)

```
<html>
<head>
<title> web sayfamız </title>
</head>
</html>
```

c)

```
<html>
<body>
<title> web sayfamız </title>
</ body >
</html>
```

d)

```
<html>
<title> web sayfamız </title>
</html>
```

53) . Aşağıdakilerden hangisi yanlıştır.

- a)
 satır başı yapar
- b) <u> </u> tagları yazıların altına çizgi koyar
- c) yazılar arasında boşluk bırakır
- d) <i> </i> tagları yazıları eğik yapar

54) . Html kodlarında “Size” niçin kullanılır?

- a) Yazı Tipi
- b) Yazı Boyutu
- c) Resim Boyutu
- d) Resim Alanı

“ DOĞRU TERCİHLER SİZİ ÇÖZÜME GÖTÜRÜR “

Bizi Tercih Ettiğiniz İçin Teşekkür Ederiz, Tüm Kursiyerlerimize Sınavlarında Başarılar Dileriz..

İLETİŞİM : 0 (258) 265 57 52 - 241 75 15 - 0530 565 95 60 – 532 168 41 11 www.cozumkariyer.com

- 55) . Html kodlarında “bgcolor” niçin kullanılır?
a) Yazı Rengi
b) Kenarlık Rengi
c) Arka Plan Rengi
d) Tablo Rengi
- 56) . Belgelerim klasörü içerisinde bulunan resim.jpg isimli resmi web sayfanızın arka planına yerleştirmek için aşağıdaki kodlardan hangisi yazılır.
a) < body background="c:\belgelerim\resim.jpg">
b) < body back ground="c:\belgelerim\resim.jpg">
c) < body bgcolor="c:\belgelerim\resim.jpg">
d) < body background= resim.jpg >
- 57) . Sayfanızın arka planını mavi yapmak için aşağıdaki kodlardan hangisi yazılır
a) <body bgcolor="blue">
b) <head bgcolor="blue">
c) <body bg color="blue">
d) <body background="blue">
- 58) . Sayfanın açılacağı yeri belirlemek için aşağıdaki kodlardan hangisi kullanılır?
a) href
b) target
c) head
d) size
- 59) .
Yukarıdaki kod yazıldığında aşağıdakilerden hangisi gerçekleşir
a) www.sayfaadi.com adresi aynı sayfada açılacak
b) www.sayfaadi.com adresi siyah renkte açılacak
c) www.sayfaadi.com adresi yeni sayfada açılacak
d) www.sayfaadi.com yazısına tıklayınca deneme.gif resmi açılacak
60. Hücre etrafındaki çerçevenin kalınlığını belirlemek için aşağıdaki kodlardan hangisi kullanılır.
a. Align
b. background
c. Cellpadding
d. Cellspacing
61. Hücre içindeki elemanların (metin, resim, vs.) çerçeveden uzaklığını belirlemek için kullanılan kod aşağıdakilerden hangisidir?
a. Cellpadding
b. Cellspacing
c. Bordercolordark
d. Bordercolor
62. Aşağıdakilerden hangisi bir renk kodudur?
a. color="#FFFFFF"
b. color="&FFFFFF"
c. color=">FFFFFF"
d. color="*FFFFFF"

“ DOĞRU TERCİHLER SİZİ ÇÖZÜME GÖTÜRÜR “

Bizi Tercih Ettiğiniz İçin Teşekkür Ederiz, Tüm Kursiyerlerimize Sınavlarında Başarılar Dileriz.

İLETİŞİM : 0 (258) 265 57 52 - 241 75 15 - 0530 565 95 60 – 532 168 41 11

www.cozumkariyer.com

63. Sayfaya eklenen resim için “width” kodu ne anlama gelir?

- a. Resmin Çerçeve kalınlığı
- b. Resimin gölgesi
- c. Resmin yüksekliği
- d. Resmin genişliği

64. Sayfaya eklenen resim için “height” kodu ne anlama gelir?

- a. Resmin Çerçeve kalınlığı
- b. Resimin gölgesi
- c. Resmin yüksekliği
- d. Resmin genişliği

65. Sayfaya eklenen resim için “src” kodu ne anlama gelir?

- a. Resmin bulunduğu yeri bu parametre ile bildiririz
- b. Resmin türünü bu parametre ile bildiririz
- c. Resmin yüksekliğini parametre ile bildiririz
- d. Resmi aratmak için bu parametre kullanılır

66.

```
<table border="1">
<tr>
<td>Hücre1</td>
<td>Hücre2</td>
</tr>
<tr>
<td>Hücre1</td>
<td>Hücre2</td>
</tr>
</table>
```

Yukarıdaki yazılı olan html koduna göre oluşturulan tablo için aşağıdakilerden hangisi doğrudur.

- a) Tablo 2 Satır Ve 2 Sütundan Oluşmaktadır
- b) Tablo 4 Satır Ve İki Sütundan Oluşmaktadır
- c) Tablo 4 Satır 4 Sütundan Oluşmaktadır
- d) Tablo 1 Satır 1 Sütundan Oluşmaktadır

67. deneme.gif isimli resmi tıkladığımızda www.sayfaadi.com adresini yeni bir sayfada açması için aşağıdaki kodlardan hangisi yazılmalıdır.

- a. ` `
- b. ` `
- c. ` `
- d. ` `

68. 1 satır ve 2 sütundan oluşan bir tablo oluşturmak için aşağıdaki kodlardan hangisi yazılmalıdır

a)

```
<table border="1">
<tr>
<td>Hücre1</td>
</tr>
</table>
```

“ DOĞRU TERCİHLER SİZİ ÇÖZÜME GÖTÜRÜR “

Bizi Tercih Ettiğiniz İçin Teşekkür Ederiz, Tüm Kursiyerlerimize Sınavlarında Başarılar Dileriz..

İLETİŞİM : 0 (258) 265 57 52 - 241 75 15 - 0530 565 95 60 – 532 168 41 11 www.cozumkariyer.com

b)

```
<table border="1">  
<td>  
<tr>Hücre1</tr>  
<tr >Hücre2</tr>  
</td>  
</table>
```

c)

```
<table border="1">  
<tr>  
<td >Hücre1</td>  
<td >Hücre2</td>  
</tr>  
</table>
```

d)

```
<table border="1">  
<tr>  
</td >Hücre1</td>  
</td >Hücre2</td>  
</tr>  
</table>
```

69. Tablolar hangi taglar arasına yazılır

- a. **<table>...</table>**
- b. <tb>...</tb>
- c. <tr>...</tr>
- d. <td>...</td>

70. html kodları yazarken renk kodları kaç basamaktan oluşur?

- a. 4
- b. 9
- c. **6**
- d. 3

71. Aşağıdaki renk karşılaştırmalarından hangisi yanlıştır.

- a. Red = kırmızı
- b. Black=Siyah
- c. Blue=Mavi
- d. **Yellow= Yeşil**

72. Yazı boyutu için aşağıdaki kodlardan hangisi kullanılır

- a. **size**
- b. face
- c. color
- d. bold

“ DOĞRU TERCİHLER SİZİ ÇÖZÜME GÖTÜRÜR “

Bizi Tercih Ettiğiniz İçin Teşekkür Ederiz, Tüm Kursiyerlerimize Sınavlarında Başarılar Dileriz..

İLETİŞİM : 0(258) 265 57 52 - 241 75 15 - 0530 565 95 60 – 532 168 41 11 www.cozumkariyer.com

```
<table width="250" height="250" bgcolor="#ffffff" border="2" cellpadding="2" cellspacing="2">
<tr>
<td align="center">hücre</td>
</tr>
</table>
```

Yukarıda yazılı olan kod için aşağıdakilerden hangisi doğrudur?

- Tablo 2 hücreden oluşmuştur
- Hücre İçine Yazılan Metin Hücrenin Ortasına Hizalanmıştır
- Hücre İçine Yazılan Metin Hücrenin Üstüne Hizalanmıştır
- Tablo 2 sütundan Oluşmuştur

73. Aşağıdaki web adreslerinden hangisi doğrudur?

- www.kırçicegi.com
- www.cozum.com
- www.abcbilism.com
- www.kaygisizlar.com

74. Aşağıdaki web adreslerinden hangisi askeri bir siteye aittir?

- www.kkk.mil.tr
- www.pau.edu.tr
- www.kkk.gov.tr
- www.kkk.com.tr

75. aşağıdaki mail adreslerinden hangisi doğrudur?

- alicaliiskan@mynet.com
- alicaliiskan@mynet.com
- alicaliskan@mynet.com
- Alicaliskan&mynet.com

76. “www ” nun anlamı nedir?

- World Wide Web
- World White Web
- Wide White Web
- Web White World

77. Bilgisayar Ahlakı üzerine aşağıdakilerden hangisi yanlıştır

- Kesinlikle, bilgisayarı, başkalarına zarar vermekte kullanabilirsiniz
- Kesinlikle, bilgisayarı hırsızlık yapmakta kullanmayın
- Kesinlikle, sosyal içeriğini düşünmeden bir program yazmayın
- Kesinlikle, sahibinden izinsiz başkalarının bilgisayar kaynaklarını kullanmayın

78. HTML kod sisteminde oluşturulan tablolara başlık eklemek için aşağıdaki taglardan hangisi kullanılır?

- <tr>
- <td>
- <tb>
- <th>

“ DOĞRU TERCİHLER SİZİ ÇÖZÜME GÖTÜRÜR “

Bizi Tercih Ettiğiniz İçin Teşekkür Ederiz, Tüm Kursiyerlerimize Sınavlarında Başarılar Dileriz.

İLETİŞİM : 0 (258) 265 57 52 - 241 75 15 - 0530 565 95 60 – 532 168 41 11 www.cozumkariyer.com

79. HTML kod sisteminde oluşturulan tablolar ile ilgili olarak aşağıdakilerden hangisi yanlıştır?
- Başlıklar <th> etiketi ile belirtilir
 - Eğer bir border parametresi belirtmezseniz, tablonuz kenarlık olmadan görüntülenir
 - Tablolar <table> etiketi ile belirtilir
 - Bir tablo <td> etiketi satırlara bölünür ve her satır da <tr> etiketi ile sütunlara bölünür.
80. Html Kod sistemine göre aşağıdaki tag ve karşılaştırmalarından hangisi yanlıştır
- Resim
 - <p> Bir paragraf belirtir
 - <hr> Sayfada yatay bir çizgi çizer
 - <body> sayfaya insan resmi ekler
81. Kodlayın, Tıklayın, Görün... yandaki html koduna göre aşağıdakilerden hangisi doğrudur?
- "Kodlayın, Tıklayın, Görün " yazısı tıklanıldığında www.html.com.tr adresi açılacak
 - www.html.com.tr adresi açılınca "Kodlayın, Tıklayın, Görün" yazısı çıkacak
 - Href kodu yazınca karşımıza www.html.com.tr adresi çıkacak
 - Yanlış bir koddur

82. Aşağıdaki ekran görüntüsü için aşağıdaki kodlardan hangisi yazılmalıdır



- a)
- ```
<html>
<head>
<title>Başlık Etiketleri-2</title>
</head>
<body>
<h1><center>Sayfama Hoşgeldiniz</center></h1>
<p>HTML etiketleri ile, </p>
Yazıları
koyu
<i>italik </i>
ve
<u>altı çizili </u>
olarak yazabiliyorum
</body>
</html>
```

“ DOĞRU TERCİHLER SİZİ ÇÖZÜME GÖTÜRÜR “

Bizi Tercih Ettiğiniz İçin Teşekkür Ederiz, Tüm Kursiyerlerimize Sınavlarında Başarılar Dileriz.  
İLETİŞİM : 0(258) 265 57 52 - 241 75 15 - 0530 565 95 60 – 532 168 41 11 [www.cozumkariyer.com](http://www.cozumkariyer.com)

b)

```
<html>
<head>
 <title>Başlık Etiketleri-2</title>
</head>
<body>
 <h1><center>Sayfama Hoşgeldiniz</center></h1>
 <p>HTML etiketleri ile, </p>
 Yazıları

koyu </br>
 <i>italik </i>
 ve
 <u>altı çizili </u>
 olarak yazabiliyorum
</body>
</html>
```

c)

```
<html>
<head>
 <title>Başlık Etiketleri-2</title>
</head>
<body>
 <h1><center>Sayfama Hoşgeldiniz</center></h1>
 <p>HTML etiketleri ile, </p>
 Yazıları

koyu </br>
 <i>italik </i>
 ve
 <u>altı çizili </u>
 olarak yazabiliyorum
</body>
</html>
```

d)

```
<html>
< body >
 <title>Başlık Etiketleri-2</title>
</ body >
< head >
 <h1><center>Sayfama Hoşgeldiniz</center></h1>
 <p>HTML etiketleri ile, </p>
 Yazıları
 koyu
 <i>italik </i>
 ve
 <u>altı çizili </u>
 olarak yazabiliyorum
```

“ DOĞRU TERCİHLER SİZİ ÇÖZÜME GÖTÜRÜR “

Bizi Tercih Ettiğiniz İçin Teşekkür Ederiz, Tüm Kursiyerlerimize Sınavlarında Başarılar Dileriz..

İLETİŞİM : 0(258) 265 57 52 - 241 75 15 - 0530 565 95 60 – 532 168 41 11

[www.cozumkariyer.com](http://www.cozumkariyer.com)



</ head >

</html>

83. Aşağıdaki metin biçimlendirmek için kullanılan tag karşılaştırmalarından hangisi yanlıştır

- a. <h1>....<h6> Başlık (heading ) etiketi
- b. <u>.....</u> Aradaki metni altı çizili (underline ) olarak yazar.
- c. <i>.....</i> Aradaki metni eğik (italic ) yazar
- d. <h>.....</h> Aradaki metni koyu (bold ) yazar.

84. <u>.....</u> tagı aşağıdakilerden hangisi için kullanılır

- a. Aradaki metin koyu yazılır
- b. Aradaki metnin üzerine çizgi çizer
- c. Aradaki metnin altını çizgili yapar
- d. Aradaki metnin başına ve sonuna <u> yazar

85. <i>.....</i> tagı aşağıdakilerden hangisi için kullanılır

- a. Aradaki metin koyu yazılır
- b. Aradaki metni italik yazar
- c. Aradaki metnin altını çizgili yapar
- d. Aradaki metnin başına ve sonuna <i> yazar

86. <hr> tagı aşağıdakilerden hangisi için kullanılır

- a. Sayfada yatay bir çizgi çizer
- b. Sayfada dikey bir çizgi çizer
- c. Sayfada kalın bir çizgi çizer
- d. Satır başı yapar

87. Aşağıdaki HTML Kodlarından Hangisi Sıralı Listeler İçin Kullanılır

- a. <ul>  
<li>Denizli</li>  
<li>İzmir</li>  
</ul>

- b. <il>  
<li>Denizli</li>  
<li>İzmir</li>  
</il>

- c. <uu>  
<li>Denizli</li>  
<li>İzmir</li>  
</uu>

- d. <lu>  
<li>Denizli</li>  
<li>İzmir</li>  
</lu>

“ DOĞRU TERCİHLER SİZİ ÇÖZÜME GÖTÜRÜR “

Bizi Tercih Ettiğiniz İçin Teşekkür Ederiz, Tüm Kursiyerlerimize Sınavlarında Başarılar Dileriz..

İLETİŞİM : 0(258) 265 57 52 - 241 75 15 - 0530 565 95 60 – 532 168 41 11

[www.cozumkariyer.com](http://www.cozumkariyer.com)

88. Aşağıdaki HTML Kodlarından Hangisi Sırasız Listeler İçin Kullanılır

a. `<ul>`  
`<li>FrontPage</li>`  
`<li>Dreamweaver</li>`  
`</ul>`

b. `<ol>`  
`<li>FrontPage</li>`  
`<li>Dreamweaver</li>`  
`</ol>`

c. `<lo>`  
`<li>FrontPage</li>`  
`<li>Dreamweaver</li>`  
`</lo>`

d. `</ol>`  
`<i>FrontPage</li>`  
`<i>Dreamweaver</li>`  
`<ol>`

89. `<font size="3" face="Times"> Uygulama Sınavı </font>`

Yukarıdaki HTML kodunda yer alan **Size** için aşağıdakilerden hangisi doğrudur?

- a. Metnin kalınlık miktarını  
b. Metnin kenardan uzaklık miktarını  
c. Metnin yazı puntosunu  
d. Metnin yazı stil numarasını

90. Aşağıdaki Html kodlarından hangisi yanlış yazılmıştır?

- a. `<body bgcolor="yellow">`  
b. `<table border :1>`  
c. ``  
d. `<body bgcolor="#000000">`

91. HTML etiketleri için aşağıdakilerden hangisi yanlıştır

- a. HTML etiketlerinde tüm Türkçe karakterler kullanılabilir  
b. HTML etiketleri çift olarak kullanılır. (başlama – bitiş)  
c. Başlama ve bitiş etiketleri arasında kalan herşeye ise **öge içeriği (element contents)** denir  
d. HTML kodlarını yazmak için özel bir düzenleyiciye ihtiyacınız yoktur

92. Hangi şıkta verilen tag'ların hepsi tablolar ile ilgilidir?

- a. `<thead><body><tr>`  
b. `<table><tr><tt>`  
c. `<table><tr><td>`  
d. `<table><head><tfoot>`

93. Hangisi bir tablo hücresi içini sola hizalamak için kullanılır?

- a. `<tdleft>`  
b. `<td valign="left">`  
c. `<td align="left">`  
d. `<td leftalign>`

“ DOĞRU TERCİHLER SİZİ ÇÖZÜME GÖTÜRÜR “

Bizi Tercih Ettiğiniz İçin Teşekkür Ederiz, Tüm Kursiyerlerimize Sınavlarında Başarılar Dileriz.

İLETİŞİM : 0 (258) 265 57 52 - 241 75 15 - 0530 565 95 60 – 532 168 41 11

[www.cozumkariyer.com](http://www.cozumkariyer.com)

94. Maddeleri alt alta numaralandırılmış olarak listelemeyi nasıl yaparsınız?
- <list>
  - <ul>
  - <ol>
  - <dl>
95. Maddeleri alt alta madde imi kullanarak listelemeyi nasıl yaparsınız?
- <list>
  - <ul>
  - <ol>
  - <dl>
96. Hangisi arkaplan resmi eklemek için kullanılan doğru yöntemdir?
- <background img="arkaplan.gif">
  - 
  - <body background="arkaplan.gif">
  - 
97. Hangisi resim eklemek için kullanılan doğru yöntemdir?
- <img href="resim.gif">
  - <img>resim.gif</img>
  - <image src="resim.gif">
  - 
98. Domain Name nedir?
- Sunucunun IP adresinin sözel karşılığıdır
  - Href
  - İstemcinin IP adresinin sözel karşılığıdır
  - Host Name ile eş anlamlıdır
99. Bir web dökümanında <a ...="pascal.html" >Pascal Dersleri </a> ifadesinde ... yerine aşağıdakilerden hangisi yazılmalıdır?
- http
  - href
  - mailto
  - name
100. FTP nedir?
- Web servisiyle yapılan dosya işlemleridir
  - İnternet üzerinde bir servistir
  - Sunucuya dosya yüklemeye yarayan bir paket programdır
  - Hiçbiri
101. 2x2 tablo yaratan HTML kodu nedir?
- <table 2x2> ... </table>
  - <table> 2x2 </table>
  - <table> <tr><tr><tr><tr> <td></td><td></td> </table>
  - <table> <tr><td></td><td></td></tr> <tr><td></td><td></td></tr> </table>
102. Tabloda çerçeve kalınlığını belirleyen niteleme (attribute) nedir?
- Border
  - Cellpadding

“ DOĞRU TERCİHLER SİZİ ÇÖZÜME GÖTÜRÜR “

Bizi Tercih Ettiğiniz İçin Teşekkür Ederiz, Tüm Kursiyerlerimize Sınavlarında Başarılar Dileriz.

İLETİŞİM : 0 (258) 265 57 52 - 241 75 15 - 0530 565 95 60 – 532 168 41 11

[www.cozumkariyer.com](http://www.cozumkariyer.com)

- c. Cellspacing  
d. Width
103. Bütün tablonun zemin rengini belirleyen niteleme (attribute) nedir?  
a. `<table color="red"> </table>`  
b. `<table> color="red" </table>`  
c. `<table bgcolor="red"> </table>`  
d. `<table> color="red" </table>`
104. `<table align="center">` nitelemesi ne yapar?  
a. Tablodaki bütün verileri hücrelerin içinde ortalar  
b. Tablodaki bütün verileri satırlara göre ortalar  
c. Bütün tabloyu ekrana göre yatay ortalar  
d. Bütün tabloyu ekrana göre dikey ortalar
105. `<tr align="right">` nitelemesi ne yapar?  
a. Tablodaki bütün verileri hücrelerin içinde sağa yanaşık yazar  
b. Satırdaki bütün verileri hücrelerin içinde sağa yanaşık yazar  
c. Bütün tabloyu ekranın sağına yanaştırır  
d. Bütün satırı ekranın sağına yanaştırır
106. `<td align="left">` nitelemesi ne yapar?  
a. Tablodaki bütün verileri hücrelerin içinde sola yanaşık yazar  
b. Bir hücredeki veriyi hücrenin içinde sola yanaşık yazar  
c. Bütün tabloyu ekranın soluna yanaştırır  
d. Bütün satırı ekranın sağına yanaştırır
107. Tabloda hücreler arası açıklığı belirleyen niteleme (attribute) nedir?  
a. Border  
b. Cellpadding  
c. Cellspacing  
d. Width
108. Tablo genişliğini belirleyen niteleme (attribute) nedir?  
a. Border  
b. Cellpadding  
c. Cellspacing  
d. Width
109. DNS nedir?  
a. Sunucunun IP adresinin sözel karşılığını belirleyen sistemdir.  
b. Host Name.  
c. İstemcinin IP adresinin sözel karşılığını belirleyen sistemdir.  
d. Domain Name ile eş anlamlıdır
110. Bir web dökümanında `<img ...="kedi.jpg" alt="kedi" >` ifadesinde ... yerine aşağıdakilerden hangisi yazılmalıdır?  
a. Link  
b. Href  
c. Mailto  
d. Src

“ DOĞRU TERCİHLER SİZİ ÇÖZÜME GÖTÜRÜR “

Bizi Tercih Ettiğiniz İçin Teşekkür Ederiz, Tüm Kursiyerlerimize Sınavlarında Başarılar Dileriz..

İLETİŞİM : 0 (258) 265 57 52 - 241 75 15 - 0530 565 95 60 – 532 168 41 11 [www.cozumkariyer.com](http://www.cozumkariyer.com)

111. Bir web dökümanında `<a href="...cozum@yahoo.com">Bize Yazın</a>` ifadesinde ... yerine aşağıdakilerden hangisi yazılmalıdır?
- http:
  - http://
  - mail:
  - mailto:**
112. Bir web dökümanının zeminine **bulut.gif** adlı bir resim yerleştirmek için aşağıdakilerden hangisi kullanılır?
- `<Body back-color="bulut.gif">`
  - `<Body back-ground-color="bulut.gif">`
  - `<Body background="bulut.gif">`**
  - `<body bgcolor="bulut.gif">`
113. `http://mail.pau.edu.tr/~sci/dersler/teorik/uygulama.html` ifadesi nedir?
- Host Name
  - Domain Name
  - url**
  - IP Adresi
114. `http://mail.pau.edu.tr/~sci/dersler/teori/uygulama.html` ifadesinde " pau " nedir?
- Host Name
  - Domain Name**
  - url
  - IP Adresi

## HTML SINAV SORULARI

- HTML nedir?
  - a) Sayfa içindeki metinlerin tarayıcıda nasıl görüneceğini ve işlevsel olacağını düzenleyen işaret dilidir.**
  - Diğer sayfaları bağlayan linkler
  - Nesneyi bağlayan linkler
  - XML etiketleri
- Html etiketleri hangi karakterler arasına yazılır?
  - a) < >**
  - # #
  - { }
  - " "
- Aşağıdakilerden hangisi bir web sitesinin varsayılan anasayfa dosyasının adıdır?
  - anasayfa.htm
  - anasayfa.html
  - c) index.html**
  - giris.htm
- Başlık etiketlerinde hangisinde yazı boyutu en büyüktür?
  - a) <h1>**
  - <h2>
  - <h3>
  - <h4>
- Bir web sayfası hangi HTML etiketi ile başlar?
  - <body>
  - b) <html>**
  - <head>
  - <title>
- HTML dokümanına ilişkin tanımlamaların yapıldığı HTML etiketi aşağıdakilerden hangisidir?
  - <body>
  - <html>
  - c) <head>**
  - <title>
- HTML dokümanının başlık çubuğunda yer alacak başlık yazısı hangi HTML etiketleri arasına yazılır?
  - <body>
  - <html>
  - <head>
  - d) <title>**
- HTML dokümanının esas içerik kısmı hangi HTML etiketi ile başlar?
  - a) <body>**
  - <html>
  - <head>
  - <title>

“ DOĞRU TERCİHLER SİZİ ÇÖZÜME GÖTÜRÜR “

Bizi Tercih Ettiğiniz İçin Teşekkür Ederiz, Tüm Kursiyerlerimize Sınavlarında Başarılar Dileriz.  
İLETİŞİM : 0 (258) 265 57 52 - 241 75 15 - 0530 565 95 60 – 532 168 41 11 [www.cozumkariyer.com](http://www.cozumkariyer.com)

9. Alt satıra geçmek için kullanılan HTML etiketi aşağıdakilerden hangisidir?  
a) `<br>` b) `<hr>` c) `<enter>` d) `</p>`
10. Bir çizgi eklemek için kullanılan HTML etiketi aşağıdakilerden hangisidir?  
a) `<br>` b) `<hr>` c) `<draw>` d) `<layer>`
11. Aşağıdakilerden hangisi boşluk bırakmak için kullanılır?  
a) `<br>` b) `&nbsp;` c) `<hr>` d) `<b>`
12. Link(bağlantı) oluşturmak için kullanılan HTML etiketi aşağıdakilerden hangisidir?  
a) `<a>` b) `<li>` c) `<img>` d) `<div>`
13. Oluşturulacak linke ait dosyanın belirlendiği HTML parametresi aşağıdakilerden hangisidir?  
a) a b) href c) src d) align
14. Linkin tıklanması durumunda sayfanın aynı pencere içinde açılmasını sağlayan HTML parametresi aşağıdakilerden hangisidir?  
a) `target="_top"` b) `target="_parent"`  
c) `target="_self"` d) `target="_blank"`
15. Linkin tıklanması durumunda sayfanın yeni pencerede açılmasını sağlayan HTML parametresi aşağıdakilerden hangisidir?  
a) `target="_top"` b) `target="_parent"` c) `target="_self"` d) `target="_blank"`
16. Tablo oluşturmak için kullanılan HTML etiketi aşağıdakilerden hangisidir  
a) `<body>` b) `<html>` c) `<head>` d) `<table>`
17. Tablo içerisinde satır açmak için kullanılan HTML etiketi aşağıdakilerden hangisidir?  
a) `<td>` b) `<tr>` c) `<column>` d) `<row>`
18. Tablo içerisinde sütun açmak için kullanılan HTML etiketi aşağıdakilerden hangisidir?  
a) `<td>` b) `<tr>` c) `<column>` d) `<row>`
19. Tabloda aynı satırları birleştirmeyi sağlayan etiket hangisidir?  
a) border b) rowspan c) colspan d) cellpadding
20. Bir tablonun arkaplanına resim yerleştirmek için kullanılan HTML parametresi aşağıdakilerden hangisidir?  
a) bgcolor b) img c) image d) background
21. Bir tablonun arkaplan rengini ayarlamak için kullanılan HTML parametresi aşağıdakilerden hangisidir?  
a) bgcolor b) img c) image d) background
22. HTML sayfasının arka zeminini mavi yapmak için hangi HTML satırı kullanılır?  
a) `<body color="blue">` b) `<body bgcolor="blue">`  
c) `<body background="blue">` d) `<body set="blue">`
23. Bir tablonun kenarlık kalınlığını ayarlamak için kullanılan HTML parametresi aşağıdakilerden hangisidir?  
a) border b) height c) width d) align
24. Bir tablonun kenarlık rengini ayarlamak için kullanılan HTML parametresi aşağıdakilerden hangisidir?  
a) border b) bgcolor c) bordercolor d) align

“ DOĞRU TERCİHLER SİZİ ÇÖZÜME GÖTÜRÜR “

Bizi Tercih Ettiğiniz İçin Teşekkür Ederiz, Tüm Kursiyerlerimize Sınavlarında Başarılar Dileriz..

İLETİŞİM : 0 (258) 265 57 52 - 241 75 15 - 0530 565 95 60 – 532 168 41 11

[www.cozumkariyer.com](http://www.cozumkariyer.com)

25. Paragraf için kullanılan HTML etiketi aşağıdakilerden hangisidir?  
a) `<p>` b) `<hr>` c) `<td>` d) `<tr>`
26. Bir yazıyı kalın(bold) yapmak için kullanılan HTML etiketi aşağıdakilerden hangisidir?  
a) `<b>` b) `<i>` c) `<li>` d) `<u>`
27. Sayfaya resim yerleştirmek kullanılan HTML etiketi aşağıdakilerden hangisidir?  
a) `<img>` b) `<body>` c) `<div>` d) `<table>`
28. Numaralı liste için kullanılan etiketler hangisidir?  
a) `<ol><li>..</ol>` b) `<ul><li>..</ul>`  
c) `<dl><li>..</dl>` d) `<dt><li>..</dt>`
29. Aşağıda verilen link komutlarından hangisi doğrudur?  
a) `<a img="http://www.meb.gov.tr"> Tıklayınız</img/a>`  
b) `<a href="http://www.meb.gov.tr"> Tıklayınız </a>`  
c) `<href="http://www.meb.gov.tr">`  
d) `<a link="http://www.meb.gov.tr"> Tıklayınız</a>`
30. Hangisi geçerli bir mail adresi bağlantısıdır?  
a) `<link href="mailto:megep@meb.gov.tr"> mailto:megep@meb.gov.tr</link>`  
b) `<href="mailto:megep@meb.gov.tr"> maillerinizi bekliyoruz.`  
c) `<href="to:megep@meb.gov.tr">to:megep @meb.gov.tr`  
d) `<a href="mailto:megep@meb.gov.tr"> megep@meb.gov.tr</a>`
31. Resmin kaynağını belirtmek için kullanılan HTML parametresi aşağıdakilerden hangisidir?  
a) `img` b) `align` c) `src` d) `border`
32. Mouse ile resmin üzerine gelindiğinde istenilen bir mesajın çıkmasını sağlayan HTML parametresi aşağıdakilerden hangisidir?  
a) `alt` b) `value` c) `src` d) `top`
33. Bir tablo veya resmin genişliğini ayarlamak için kullanılan HTML parametresi aşağıdakilerden hangisidir?  
a) `height` b) `width` c) `left` d) `top`
34. Bir tablo veya resmin yüksekliğini ayarlamak için kullanılan HTML parametresi aşağıdakilerden hangisidir?  
a) `height` b) `width` c) `left` d) `top`
35. Bir tablonun sütununda yer alan bilginin yatay hizalamasını ayarlamak için kullanılan HTML parametresi aşağıdakilerden hangisidir?  
a) `top` b) `align` c) `valign` d) `height`
36. Bir tablonun sütununda yer alan bilginin dikey hizalamasını ayarlamak için kullanılan HTML parametresi aşağıdakilerden hangisidir?  
a) `top` b) `align` c) `valign` d) `height`
37. Bir yazının biçimlendirilmesi için kullanılan HTML etiketi aşağıdakilerden hangisidir?  
a) `<font>` b) `<body>` c) `<title>` d) `<table>`
38. Bir yazının yazı karakter boyutunu değiştirmek için kullanılan HTML parametresi aşağıdakilerden hangisidir?  
a) `size` b) `height` c) `title` d) `width`

“ DOĞRU TERCİHLER SİZİ ÇÖZÜME GÖTÜRÜR “

Bizi Tercih Ettiğiniz İçin Teşekkür Ederiz, Tüm Kursiyerlerimize Sınavlarında Başarılar Dileriz..

İLETİŞİM : 0 (258) 265 57 52 - 241 75 15 - 0530 565 95 60 – 532 168 41 11

[www.cozumkariyer.com](http://www.cozumkariyer.com)

39. Bir yazının yazı karakter tipini değiştirmek için kullanılan HTML parametresi aşağıdakilerden hangisidir?  
a) size b) face d) title d) color
40. Bir yazının yazı karakter rengini değiştirmek için kullanılan HTML parametresi aşağıdakilerden hangisidir?  
a) size b) face c) title d) color
41. Kayan yazı oluşturmak için kullanılan HTML etiketi aşağıdakilerden hangisidir?  
a) <iframe> b) <div> c) <p> d) <marquee>
42. Bir form oluşturmak için kullanılan HTML etiketi aşağıdakilerden hangisidir?  
a) <form> b) <input> c) <submit> d) <body>
43. 89.12.34.139 adresi neyi ifade eder?  
a) Ev adresini b) Telefon numarasını  
c) IP adresini d) MAC adresini
- Hangisi alan adı ile IP adresi eşleştirmesini yapar?  
a) DNS b) TCP/IP c) DHCP d) http
44. Hangisi web sunucu yazılımıdır?  
a) Apache b) Dreamweaver  
c) Fireworks d) Internet Explorer
45. Browser (tarayıcı) program ne işe yarar?  
a) Kâğıt üzerindeki yazıları bilgisayara aktarır.  
b) İnternete bağlantı sağlar.  
c) İnternet sayfalarını bilgisayarımızda görmeyi sağlar.  
d) İnternet bağlantısını hızlandırır
46. Hangisi bir web tarayıcı yazılımıdır?  
a) Apache b) Dreamweaver c) Fireworks d) Firefox
47. Herhangi bir bilgisayara bağlanmak için karmaşık IP numaralarını akılda tutmak yerine hatırlanması ve yazılması kolay alan adlarına ne denir?  
a) Browser b) İnternet c) Domain d) Server
48. Birçok bilgisayar sisteminin birbirine bağlı olduğu, dünya çapında yaygın olan ve sürekli büyüyen iletişim ağına ne denir?  
a) IP b) Domain c) İnternet d) Protokol
49. Aşağıdaki eşleştirmelerden hangisi yanlıştır?  
a) gov: Hükümet kurumları b) com: Ticari kurumlar  
c) edu: Eğitim kurumları d) org: Askeri kurumlar
50. FTP nedir?  
a) Dosya transfer protokolü b) İnternet protokolü  
c) Alan adı d) Web sunucu
51. Standart bir html dosyasının uzantısı aşağıdakilerden hangisi olabilir?  
a) txt b) doc c) html d) http

“ DOĞRU TERCİHLER SİZİ ÇÖZÜME GÖTÜRÜR “

Bizi Tercih Ettiğiniz İçin Teşekkür Ederiz, Tüm Kursiyerlerimize Sınavlarında Başarılar Dileriz.  
İLETİŞİM : 0 (258) 265 57 52 - 241 75 15 - 0530 565 95 60 – 532 168 41 11 [www.cozumkariyer.com](http://www.cozumkariyer.com)



52. Aşağıdaki programlardan hangisi site hazırlamak ve yönetmek için en ideal programdır?  
a) Flash                      **b) Dreamweaver**                      c) Fireworks                      d) Excel

### HTML TEST SINAV SORULARI

1. Numaralı liste için kullanılan etiketler hangisidir?

A) `<ol><li>..</ol>`

B) `<ul><li>..</ul>`

C) `<dl><li>..</dl>`

D) `<dt><li>..</dt>`

2. Hangisi tabloda çerçeve kalınlığını belirler?

A) `<table line="1">`

B) `<table format="1">`

**C) `<table border="1">`**

D) `<table frame="1">`

3. Tabloya başlık eklemek için hangi etiket kullanılır?

A) `<hd>başlık</hd>`

**B) `<th>başlık</th>`**

C) `<ht>başlık</ht>`

D) `<page>başlık</page>`

4. Aşağıda verilen link komutlarından hangisi doğrudur?

A) `<a img="http://www.meb.gov.tr">Tıklayınız<img/a>`

B) `<href="http://www.meb.gov.tr">`

**C) `<a href="http://www.meb.gov.tr">Tıklayınız</a>`**

D) `<a link="http://www.meb.gov.tr">Tıklayınız</a>`

5. HTML nedir?

A) Belgelerin içindeki metinlerin tarayıcıda (browser) nasıl görüneceğini ve işlevsel

olacağını düzenleyen işaretlerdir.

“ DOĞRU TERCİHLER SİZİ ÇÖZÜME GÖTÜRÜR “

Bizi Tercih Ettiğiniz İçin Teşekkür Ederiz, Tüm Kursiyerlerimize Sınavlarında Başarılar Dileriz..

İLETİŞİM : 0(258) 265 57 52 - 241 75 15 - 0530 565 95 60 – 532 168 41 11 [www.cozumkariyer.com](http://www.cozumkariyer.com)

B) Diğer sayfaları bağlayan linkler

C) Nesneyi bağlayan linkler

D) XML etiketleri

**6. HTML etiketleri hangi karakterlerle belirtilir?**

A) !

B) ( )

C) #

D) < >

**7. Hangisi HTML'de metin düzenlemeyi sağlayan etikettir?**

A) <END>

B) <BEGIN>

C) <TITLE>

D) <FONT>

**8. Yazı büyüklüğünü 7 yapmak için hangi HTML etiketi kullanılır?**

A) <FONT NAME SIZE="7">

B) <FONT WEIGHT="7">

C) <FONT SIZE="7">

D) <FONT HEIGHT="7">

**9. Bir HTML belgesinde link özellikleri, başlık, anahtar sözcüklerinin ve WEB sayfası ile ilgili temel özelliklerin olduğu bölüm hangi etiketlerle sınırlandırılır?**

A) <BODY>

B) <HEAD>

C) <SCRIPT>

D) <TITLE>

**10. HTML elemanlarının görüntülenmesinde bir satır aşağıya inmek için hangi etiket kullanılır?**

A) <BR>

B) <NEWLINE>

**“ DOĞRU TERCİHLER SİZİ ÇÖZÜME GÖTÜRÜR “**

**Bizi Tercih Ettiğiniz İçin Teşekkür Ederiz, Tüm Kursiyerlerimize Sınavlarında Başarılar Dileriz..**

**İLETİŞİM : 0(258) 265 57 52 - 241 75 15 - 0530 565 95 60 – 532 168 41 11 [www.cozumkariyer.com](http://www.cozumkariyer.com)**

C) <BREAKNEW>

D) <BL>

**11. Hangisi geçerli bir mail adresi bağlantısıdır?**

A) <link href="mailto:megep@meb.gov.tr">mailto:megep@meb.gov.tr</link>

B) <href="mailto:megep@meb.gov.tr">maillerinizi bekliyoruz.

C) <href="to:megep@meb.gov.tr">to:megep@meb.gov.tr

D) <a href="mailto:megep@meb.gov.tr">mailto:megep@meb.gov.tr</a>

**12. HTML sayfasının arka zeminini sarı yapmak için hangi HTML satırı kullanılır?**

A) <BODY COLOR="YELLOW">

B) <BODY BGCOLOR="YELLOW">

C) <BODY BACKGROUND="YELLOW">

D) <BODY SET="YELLOW">

**13. Tablo içinde yeni bir satır eklemek için hangi HTML etiketi kullanılır?**

A) <TH>

B) <TR>

C) <TD>

D) <NL>

**14. Bir tablonun hücre rengini değiştirmek için hangi etiket kullanılır?**

A) <TABLE BGCOLOR="...">

B) <TABLE BG="...">

C) <TABLE BACKGROUND="...">

D) <TABLE PIC="...">

**15. Tabloda aynı satırları birleştirmeyi sağlayan etiket hangisidir?**

A) CELLPADDING

B) ROWSPAN

C) CELLSPACING

D) COLSPAN

**“ DOĞRU TERCİHLER SİZİ ÇÖZÜME GÖTÜRÜR “**

**Bizi Tercih Ettiğiniz İçin Teşekkür Ederiz, Tüm Kursiyerlerimize Sınavlarında Başarılar Dileriz..**

**İLETİŞİM : 0(258) 265 57 52 - 241 75 15 - 0530 565 95 60 – 532 168 41 11 [www.cozumkariyer.com](http://www.cozumkariyer.com)**

16. Hangisi bağlantıyı yeni bir pencerede açar?

A) target="\_blank"

B) target="\_parent"

C) target="\_self"

D) target="\_top"

17. Hangisi metin düzenleme etiketlerinden değildir?

A) <H4>...</H4>

B) <B>...</B>

C) <TR>...</TR>

D) <P>...</P>

18. Aşağıdakilerden hangisi listelerde kullanılan parametrelerden değildir?

A) START

B) FACE

C) COMPACT

D) TYPE

19. Herhangi bir bilgisayara bağlanmak için karmaşık IP numaralarını akılda tutmak yerine hatırlanması ve yazılması kolay alan adlarına ne denir?

A) Browser

B) İnternet

C) Domain

D) Server

20. Aşağıdakilerden hangisi arama motoru çeşitlerindedir?

A) Client

B) Server

C) Crawler

D) Browser

“ DOĞRU TERCİHLER SİZİ ÇÖZÜME GÖTÜRÜR “

Bizi Tercih Ettiğiniz İçin Teşekkür Ederiz, Tüm Kursiyerlerimize Sınavlarında Başarılar Dileriz..

İLETİŞİM : 0(258) 265 57 52 - 241 75 15 - 0530 565 95 60 – 532 168 41 11 [www.cozumkariyer.com](http://www.cozumkariyer.com)

21. Photoshop programının çalışma dosyalarının uzantısı nedir?


- a. psd
- b. gif
- c. jpg
- d. Swf

22. Dreamweaver’da resim ekleme işlemi hangi menü aracılığı ile yapılır?

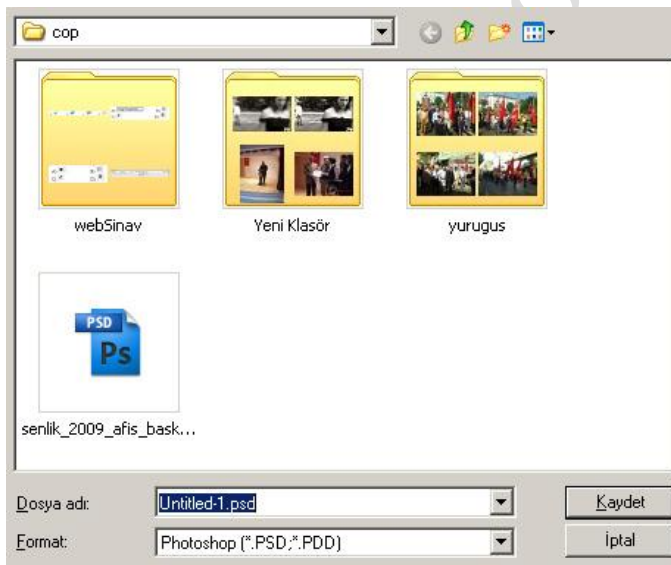
- A) Insert/Layer
- B) Insert/Layer Out
- C) Insert/image
- D) Layer/Insert

23. FTP ne anlama gelmektedir?

- A) World Wide Web
- B) File Transfer Protocol
- C) Font Transfer Point
- D) Protocol File Transfer

24. Photoshop programında yandaki şekil ne işe yarar ? 

- a. Geri Alma
- b. Seçme
- c. Silgi
- d. Kopyalama



“ DOĞRU TERCİHLER SİZİ ÇÖZÜME GÖTÜRÜR “

Bizi Tercih Ettiğiniz İçin Teşekkür Ederiz, Tüm Kursiyerlerimize Sınavlarında Başarılar Dileriz..

İLETİŞİM : 0(258) 265 57 52 - 241 75 15 - 0530 565 95 60 – 532 168 41 11

[www.cozumkariyer.com](http://www.cozumkariyer.com)

25. Photoshop programında yukarıdaki şekil neyi ifade ediyor?

- a. File > Save
- b. File > New
- c. Edit > Undo
- d. Edit > Copy

26. DNS nedir?

- A )Sunucunun IP adresinin sözel karşılığını belirleyen sistemdir.
- B )Host Name
- C )İstemcinin IP adresinin sözel karşılığını belirleyen sistemdir.
- D )Yeni teknoloji bilgisayarlardır.

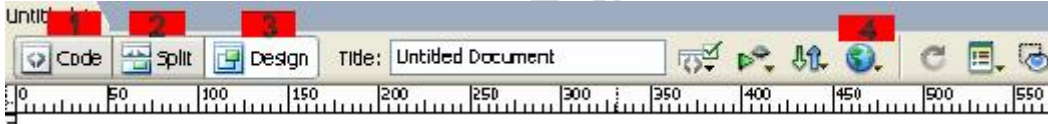
27. Fireworks programını hangi firma üretmektedir?

- a. Macromedia
- b. Adobe
- c. Borland
- d. Microsoft

Ana Sayfa.....index.html  
Okulumuz.....okulumuz.html  
Atatürk.....atatürk.html  
İletişim.....iletisim.html

28. Yukarıda kelimeler ve linkler eşleştirilmiştir. Buna göre hangi kelimeye link verme işlemi yanlış uygulanmıştır?

- A ) Ana Sayfa B ) Okulumuz C ) Atatürk D ) İletişim



29. Dreamweaver programında kod ve dizayn görünümünü aynı anda görmek isteyen birisi yukarıda numaralarla belirtilen butonlardan hangisini kullanmalıdır?

- A ) 1
- B ) 2
- C ) 3
- D ) 4

30. Aşağıdakilerden hangisi sitelerimizi oluştururken kullanabileceğimiz grafik ve resimleri düzenlemek amaçlı tasarlanmış programlardan olabilir?

- A-Flash
- B-Dreamweaver

“ DOĞRU TERCİHLER SİZİ ÇÖZÜME GÖTÜRÜR “

Bizi Tercih Ettiğiniz İçin Teşekkür Ederiz, Tüm Kursiyerlerimize Sınavlarında Başarılar Dileriz.

İLETİŞİM : 0(258) 265 57 52 - 241 75 15 - 0530 565 95 60 – 532 168 41 11 [www.cozumkariyer.com](http://www.cozumkariyer.com)

C-Photoshop

D-Filezilla

31.Aşağıdakilerden hangisi sitelerimizi oluştururken kullanabileceğimiz grafik ve resimleri düzenlemek amaçlı tasarlanmış programlardan olabilir?

A- Flash

B- Dreamweaver

C- Fireworks

D- Filezilla

32.Photoshop programında hazırlayıp kaydettiğimiz resim dosyalarının uzantısı ne olabilir?

a. xyz

b. exe

c. jpg

d. swf

33.Aşağıdaki linklerden hangisi yanlış verilmiştir?

A) <http://www.meb.gov.tr>

B) [iletisim.htm](#)

C) [personel.html](#)

D) [agaçören.gov.tr](#)

34.Web sayfalarında yer alan resimlerin ideal çözünürlüğü kaç pixel/inç olmalıdır?

a.72

b.100

c.720

d. 111

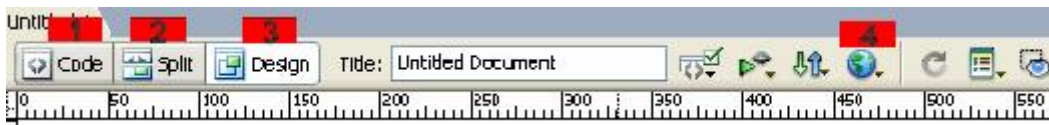
35.Fireworks'te resimlerle toplu halde ve birden fazla komut seçeneğiyle düzenlemeler yapabildiğimiz işlemin adı nedir?

A- Attach to Path

B- Batch Process

C- Trim Canvas

D- Maskeleye



“ DOĞRU TERCİHLER SİZİ ÇÖZÜME GÖTÜRÜR “

Bizi Tercih Ettiğiniz İçin Teşekkür Ederiz, Tüm Kursiyerlerimize Sınavlarında Başarılar Dileriz..

İLETİŞİM : 0 (258) 265 57 52 - 241 75 15 - 0530 565 95 60 – 532 168 41 11

[www.cozumkariyer.com](http://www.cozumkariyer.com)

36.Dreamweaver programında yaptığı sayfa dizaynını internet explorerda önizleme yapmak isteyen birisi yukarıda numaralarla belirtilen butonlardan hangisini kullanmalıdır?

- A ) 1
- B ) 2
- C ) 3
- D ) 4

37.Flash'ta timeline'a (zaman çizelgesi) bir boş anahtar kare (blank keyframe) eklemek için hangi tuş kullanılır?

- A- F6
- B- F8
- C- F1
- D- F7

38.Macromedia programlarının hepsinde nesneleri hizalamak için kullanılan panel hangisidir?

- a. Layers
- b. History
- c. Align
- d. Colors

39.Motion ve Shape Tween animasyonlarında saat yönünde dönme hareketi hangi komutla sağlanır?

- A- Rotate-CCW
- B- Rotate-CW
- C- Ease -CW
- D- Rotate-Auto

40.Dreamweaver'da paragraf vermeden bir alt satıra geçmek için hangi tuş kombinasyonu kullanılır?

- A- Ctrl+Enter
- B- Enter
- C- Shift+Enter
- D- Tab+Enter

41. <tr> ve <td> etiketlerinin görevi nedir ?

- A) <tr> etiketi, tablo satırını temsil eder. <td> etiketi tablo verisini temsil eder ve hücre olarak da bilinir.
- B) <tr> etiketi, tablo sütununu temsil eder. <td> etiketi tablo verisini temsil eder ve hücre olarak da bilinir. 3
- C) <tr> etiketi, tabloyu temsil eder. <td> etiketi tablo satırını temsil eder ve hücre olarak da bilinir.
- D) <tr> etiketi, tablo satırını temsil eder. <td> etiketi kenarlık kalınlığını temsil eder ve hücre olarak da bilinir.

42. <h3> ... </h3> etiketi ne işe yarar?

- A) Üçüncü paragrafı belirler.
- B) Üçüncü sayfayı belirler.
- C) Üçüncü başlık stili belirler.
- D) Hiçbiri

“ DOĞRU TERCİHLER SİZİ ÇÖZÜME GÖTÜRÜR “

Bizi Tercih Ettiğiniz İçin Teşekkür Ederiz, Tüm Kursiyerlerimize Sınavlarında Başarılar Dileriz..

İLETİŞİM : 0(258) 265 57 52 - 241 75 15 - 0530 565 95 60 – 532 168 41 11 [www.cozumkariyer.com](http://www.cozumkariyer.com)



43.<b> ... </b> etiketi ne işe yarar?

- A ) Paragraf başı yapar  
B ) Koyu yazmaya yarar  
C ) Altı çizili yazar  
D ) Yana yatık yazar

44. <a href>...</a> etiketi ne işe yarar?

- A ) Altı çizili yazar  
B ) Resim eklemeye yarar  
C ) Link vermeye yarar  
D ) Yazı tipini değiştirmeye yarar

45.“Sayfanın başlığını belirtir. Burada yazılanlar browser'in üst tarafında browser adıyla beraber gösterilir.” Bu açıklama hangi etikete aittir?

- A ) title  
B ) a href  
C ) body  
D ) html

46.<u>...</u> etiketinin işlevi nedir?

- A ) Yazıyı ortalar  
B ) Altı çizili yazar  
C ) Paragraf başı yapar  
D ) Hiçbiri

47.<font face>....</font> etiketinin işlevi nedir?

- A ) Yazı tipini belirler  
B ) Yazı boyutunu belirler  
C ) Yazı rengini belirler  
D ) Yazıyı hizalamak içindir

48.Aşağıdakilerden hangisi resim ekleme etiketidir?

- A ) a href  
B ) img  
C ) center  
D ) body

49.Tabloda çerçeve kalınlığını belirleyen özellik hangisidir?

- A )Border  
B )Cellpadding  
C )Cellspacing  
D )Width

50.CSS (Cascading Style Sheet) ile aşağıdakilerden hangisi yapılamaz.

- A)Bir tablonun border'ının rengi kırmızı yapılması  
B)Bir yazının fontunun Arial yapılması  
C) Bir link alt çizgisinin kaldırılması  
D)Bir link'in üzerine gelindiğinde link'in renginin değiştirilmesi  
E) Bir sayfanın yeniden yüklenmesi

51.Bir tablo hücrelerinin genişliğini diğer hücrelerden daha büyük yapmak için td tag'inin hangi özelliği kullanılır.

- A) cols  
B)rows  
C)colspan  
D)rowspan  
E)columns

52.test.css dosyalarındaki style'leri kullanmak için hangi tag kullanılmalıdır.

- A)html  
B)style  
C)link  
D)body  
E)head

53.Bir sayfadaki tüm linklerin alt çizgisini kaldırmak için aşağıdaki hangi style'li kullanmamız gerekir.

- A)a{ text-line:none }  
B)a{ text-decoration:none }  
C)link{ text-decoration:none }  
D)a{ text-decoration:none }

“ DOĞRU TERCİHLER SİZİ ÇÖZÜME GÖTÜRÜR “

Bizi Tercih Ettiğiniz İçin Teşekkür Ederiz, Tüm Kursiyerlerimize Sınavlarında Başarılar Dileriz..

İLETİŞİM : 0 (258) 265 57 52 - 241 75 15 - 0530 565 95 60 – 532 168 41 11

[www.cozumkariyer.com](http://www.cozumkariyer.com)

E)a{text-decoration:null}

54.Bir link tıklandığında bağlanılan sayfanın başka bir frame'de açılması için A tag'inin hangi attribute'si kullanılır.

A)link B)name C)target D)base E)frame

55.Aşağıdaki kodlardan hangisiyle yazıyı ortalarız

a) <center> b) <left> c) <body> d) <align>

56.FTP nedir?

a) Dosya transfer protokolü

b) İnternet protokolü

c) Alan adı

d) Web sunucu

57.Hangisi bir web tarayıcı yazılımıdır?

a) Apache b) Dreamweaver c) Fireworks d) Firefox

58.Bir yazının biçimlendirilmesi için kullanılan HTML etiketi aşağıdakilerden hangisidir?

a) <font> b) <body> c) <title> d) <table>

59.Mouse ile resmin üzerine gelindiğinde istenilen bir mesajın çıkmasını sağlayan HTML parametresi aşağıdakilerden hangisidir?

a) alt b) value c) src d) top

60.Hangisi geçerli bir mail adresi bağlantısıdır?

a) <link href="mailto:megep@meb.gov.tr"> mailto:megep@meb.gov.tr</link>

b) <href="mailto:megep@meb.gov.tr"> maillerinizi bekliyoruz.

c) <href="to:megep@meb.gov.tr">to:megep @meb.gov.tr

d) <a href="mailto:megep@meb.gov.tr"> megep@meb.gov.tr</a>

61.Bir tablonun arkaplan rengini ayarlamak için kullanılan HTML parametresi aşağıdakilerden hangisidir?

a) img b) bgcolor c) image d) background

62.Link(bağlantı) oluşturmak için kullanılan HTML etiketi aşağıdakilerden hangisidir?

a) <img> b) <li> c) <a> d) <div>

63.Harici stil sayfasını bağlamak için düğmesine tıklayarak yapılan işlem sonucunda sayfamıza eklenen komutlar aşağıdakilerden hangisidir?

a) <link href="stil.css" rel="stylesheet" type="text/css" />

b) <style type="text/css">

c) <meta http-equiv="Content-Type" content="text/html; charset=utf-8" />

d)stil

64. Parola:  web sayfasında yandaki görüntüyü oluşturan satır nedir?

a) Parola: <input type="checkbox" name="parola" >

“ DOĞRU TERCİHLER SİZİ ÇÖZÜME GÖTÜRÜR “

Bizi Tercih Ettiğiniz İçin Teşekkür Ederiz, Tüm Kursiyerlerimize Sınavlarında Başarılar Dileriz..

İLETİŞİM : 0 (258) 265 57 52 - 241 75 15 - 0530 565 95 60 – 532 168 41 11 [www.cozumkariyer.com](http://www.cozumkariyer.com)

b) Parola: <input type="radio" name="parola" >

c) Parola: <input type="password" name="parola" >

d) Parola: <input type="text" name="parola" >

65.<style>..</style>damgasi ne yapar?

A)Italik, bold, alt çizgi vb. font stilini belirler .

B)Formun bütün görünüsünü düzenler.

C)Tablonun bütün görünüsünü düzenler.

D)Bütün web sayfasinin görünüsünü düzenler.

66.<STYLE>..</STYLE>damgasi asagidakilerden hangisini ayarlar?

A)Web sayfasinda marj ayari

B)Web sayfasinda paragraf açıkligi

C)Web sayfasinda font tipini seçme

D)Hepsi

67.<STYLE>..</STYLE>damgasi asagidakilerden hangisini ayarlar?

A)Web sayfasinda karakter renklerini

B)Web sayfasinda zemin rengini

C)Web sayfasinda font büyüklüğünü (size)

D)Hepsi

68.BODY { font-family:Verdana, Tahoma, Arial, Helvetica, sans-serif ; } nitelemesi ne yapar?

A)Belirtilen fontlarin web sayfasinda dönüşümlü kullanilmasini saglar

B)Belirtilen fontlari kullanicinin makinasindaki tarayiciya yollar

C)Tarayici, sistemde var olan fontu, yazilis sirasiyla kullanir

D)Hiçbiri

69.P { color : "#FF0000"; } nitelemesi ne yapar?

A)Paragraflari zemin rengini kirmizi yapar

B)Bütün web sayfasinin zemin rengini kirmizi yapar

C)Paragraflarin karakter rengini kirmizi yapar

D) Bütün web sayfasinin karakter rengini kirmizi yapar

70.P { font-size : 10pt; } nitelemesi ne yapar?

a)Paragraflarlari 10 ar satir yapar

b)Paragraflarin harf büyüklüğünü ayarlar

c)Paragraflarin genisligini 10 ar karaktere ayarlar

d)Hiçbiri

71.A:link { color: #0000FF; } deyimi ne is yapar?

a)Ziyaret edilmemis hypertext link'in rengini belirler

b)Ziyaret edilmiş hypertext link'in rengini belirler

c)Ziyaret edilmek için tiklanan hypertext link'in rengini belirler

d)Üzerinde mouse gezinen hypertext link'in rengini belirler

72.A:visited { color: #FF00FF; } deyimi ne is yapar?

a)Ziyaret edilmemis hypertext link'in rengini belirler

“ DOĞRU TERCİHLER SİZİ ÇÖZÜME GÖTÜRÜR “

Bizi Tercih Ettiğiniz İçin Teşekkür Ederiz, Tüm Kursiyerlerimize Sınavlarında Başarılar Dileriz..

İLETİŞİM : 0 (258) 265 57 52 - 241 75 15 - 0530 565 95 60 – 532 168 41 11

[www.cozumkariyer.com](http://www.cozumkariyer.com)

- b) Ziyaret edilmiş hypertext link'in rengini belirler  
c) Ziyaret edilmek için tıklanan hypertext link'in rengini belirler  
d) Üzerinde mouse gezinen hypertext link'in rengini belirler

73.A:active { color: rgb(255, 0, 102); } deyimi ne iş yapar?

- a) Ziyaret edilmemiş hypertext link'in rengini belirler  
b) Ziyaret edilmiş hypertext link'in rengini belirler  
c) Ziyaret edilmek için tıklanan hypertext link'in rengini belirler  
d) Üzerinde mouse gezinen hypertext link'in rengini belirler

74.Div.color { background: rgb(204, 204, 255); } deyimi ne yapar?

- a) <div>..</div> ile sınırlanan bölgede text rengini belirler  
b) <div>..</div> ile sınırlanan bölgede çerçeve rengini belirler  
c) <div>..</div> ile sınırlanan bölgede zemin rengini belirler  
d) Hiçbiri

75.#bitki { color : #AA0080 ; } deyimi ne yapar?

- a) <P ID="bitki">..</P> ile sınırlanan paragrafın zemin rengini belirler  
b) <P ID="bitki">..</P> ile sınırlanan paragrafın text rengini belirler  
c) <P ID="bitki">..</P> ile sınırlanan paragrafın çerçeve rengini belirler  
d) Hiçbiri

76.Hangi CSS kuralı, "boxed" sınıf tanımı ile belirlenen, elemanların çevresine 1-pixel kalınlığında düz mavi kenar çizgisi çizer?

- A. .boxed { border: 1px solid blue; }  
B. #boxed { border: 1px solid blue; }  
C. boxed { border: 1px solid blue; }  
D. \$boxed { border: 1px solid blue; }  
E. !boxed { border: 1px solid blue; }

77.Bu CSS kuralı ne yapar: h1 { text-align: center; text-decoration: underline; }

- A. Butun yazılar yatay olarak ortalanır ve altı çizgili yapılır.  
B. Butun "h1" ile belirtilen paragraflar, ortalanır ve altı çizgili yapılır.  
C. "h1" id turu ile belirtilen paragraflar, ortalanır ve altı çizgili yapılır.  
D. Butun <h1> etiketleri yazılanlar ortalanır ve altı çizgili yapılır.  
E. hiçbirsey

78.P.dersler A:link { color : #FF00AA ; } deyimi neyi belirler?

- a) <P CLASS="dersler">..</P> ile sınırlanan paragrafın zemin rengini belirler  
b) <P CLASS="dersler">..</P> ile sınırlanan paragrafın text rengini belirler  
c) <P CLASS="dersler">..</P> ile sınırlanan paragrafın çerçeve rengini belirler  
d) Hiçbiri

79.P.dersler A:link { font-weight: 70% ; } deyimi neyi belirler?

- a) <P CLASS="dersler">..</P> içindeki karakterlerin koyuluğunu  
b) <P CLASS="dersler">..</P> içindeki karakterlerin büyüklüğünü  
c) <P CLASS="dersler">..</P> içindeki hypertext link karakterlerin koyuluğunu  
d) Hiçbiri

“ DOĞRU TERCİHLER SİZİ ÇÖZÜME GÖTÜRÜR “

80.A.plain {text-decoration: none; } damgasi ne yapar?

- a)Paragrafta satirbasi olmasini önler
- b)Paragrafa kenar süsleri koyar
- c)Paragrafta kenar süslerini kaldırır
- d)Hypertext link' te alt çizgiyi kaldırır

81.Bir paragrah içinde seçilen bir text'in rengini hangisi belirler ?

- a)<color="red"> ... </color>
- b)<FONTCOLOR="red"> ... </FONTCOLOR>
- c)<FONTCOLOR="red"> ... </FONT>
- d)Hiçbiri

82.Bir paragraf içinde seçilen bir text'in font büyüklüğünü hangisi belirler ?

- a)<size="+1"> ...</size> ...</size>
- b) <FONTSIZE="+1"> ... </FONTSIZE>
- c)<FONT SIZE="+1"> ... </FONT>
- d)Hicbiri

83.Bir paragraf içinde seçilen bir text'in font tipini hangisi belirler ?

- a)<TYPE="Arial">...</TYPE>
- b)<FONTTYPE="Arial">...</FONTTYPE>
- c)<FONTFACE="Arial">...</FONTFACE>
- d)<FONTFACE="Arial">...</FONT>

84.Çok sayıda web sayfasında aynı stili kullanmak için ne yapılır?

- a)Hepsinde aynı <style>...</style> nitelermeleri kullanılır
- b>Böyle bir iş yapılamaz
- c)Ortak bir CSS dosyasına link yapılır
- d)Hiçbiri

85.Hangi imagemap doğru kullanır?

- (a) <imgsrc="deitel.gif" alt="hello" usemap="hello" />.
- (b) <imgsrc="deitel.gif" alt="hello" map name="#hello" />.
- (c) <imgsrc="deitel.gif" alt="hello" usemap="#hello" />.
- (d) <imgsrc="deitel.gif" alt="hello" map="hello" />.

86.hangisi doğru XHTML kodudur?

- (a) <P></p>
- (b) <P></P>
- (c) <p></p>
- d) hiçbirisi

87.hangisi doğru XHTML kodudur?

- (a) <br />
- (b) <br>
- (c) <break />
- d) hiçbirisi

“ DOĞRU TERCİHLER SİZİ ÇÖZÜME GÖTÜRÜR “

Bizi Tercih Ettiğiniz İçin Teşekkür Ederiz, Tüm Kursiyerlerimize Sınavlarında Başarılar Dileriz..

İLETİŞİM : 0(258) 265 57 52 - 241 75 15 - 0530 565 95 60 – 532 168 41 11

[www.cozumkariyer.com](http://www.cozumkariyer.com)

88. Hangisinde XHTML değeri doğru kullanılmıştır?

- (a) width=90
- (b) width="90"**
- (c) WIDTH="90"
- d) hiçbirisi

89. <LINK REL="stylesheet" HREF="makale.css"> damgası ne yapar?

- a) Stylesheet adlı dosyaya link yapar
- b) Makale.css adlı dosyaya link yapar**
- c) Aynı Makale.css adlı dosyayı stil olarak kabul eder
- d) Hiçbiri

90. dikkat { border-color: #AACC00 ; } nitelemesi ne yapar?

- a) <P CLASS="dikkat"> ... </P> ile sınırlı bölgenin kenarlarının rengini belirler**
- b) <P CLASS="dikkat"> ... </P> ile sınırlı bölgenin karakterlerinin rengini belirler
- c) <P CLASS="dikkat"> ... </P> ile sınırlı bölgenin zemin rengini belirler
- d) Hiçbiri

91. UL { list-style-type: square ; } nitelemesi ne yapar?

- a) Listelenen maddeleri kare biçiminde bir çerçeveye alır
- b) Kullanıcının girdiği sayıların karesini yazar
- c) Listelenen maddelerin önüne kare simgesi koyar**
- d) Hiçbiri

92. CCS(cascading style sheets)de kurallar nelerden oluşur?

- a) Selectors and Declarations (seçiciler ve tanımlar)
- b) Properties and Declarations (özellikler ve tanımlar)
- c) Selectors and Attributes (seçiciler ve değerler)**
- d) hiçbirisi

93. CSS kodu, HTML dosyasının body kısmına yazılırsa bu xhtml komutu ne diye adlandırılır?

- a. Embedded
- b. Inline**
- c. External
- d. Imported

94. Aşağıdakilerden hangisi CSS selector(secici) olarak kullanılır?

- a. XHTML kod elemanı
- b. class adı
- c. id adı
- d. hepsi**

95. Web sayfasının içine link yapmak için hangi sembol kullanılır?

- a. @ symbol
- b. \* symbol
- c. % symbol
- d. # symbol**

“ DOĞRU TERCİHLER SİZİ ÇÖZÜME GÖTÜRÜR “

Bizi Tercih Ettiğiniz İçin Teşekkür Ederiz, Tüm Kursiyerlerimize Sınavlarında Başarılar Dileriz..

İLETİŞİM : 0 (258) 265 57 52 - 241 75 15 - 0530 565 95 60 – 532 168 41 11 [www.cozumkariyer.com](http://www.cozumkariyer.com)

96.Harici CSS style sheets dosyaları hangi uzantılı dosyada saklanır?

- a. .html
- b. .txt
- c. .css
- d. .txtcss

97.Harici CSS dosyaları, html dokumanının neresinde tanımlanır?

- a. dokuman sonunda
- b. <head> kısmında
- c. <body> kısmında
- d. dokuman başında

98.Hangi CSS kod, “offer” adlı blue(mavi) text, 20 px boyunda and Arial or sans-serif font larında tanım yapar?

- a. .offer { color:blue; font-size:20x; font-family:Arial,sans-serif; }
- b. .offer { color:blue; font-size:20px; font-family:Arial,sans-serif; }
- c. .offer { text:blue;font-size:20px; font-family:Arial,sans-serif; }
- d. #offer { text:blue;font-size:20px; font-family:Arial,sans-serif; }

99.“school.gif” resmine tıkladığında “school.htm” sayfasını açan kod hangisidir?

- a. <a href="school.htm" src="school.gif" alt="school"></a>
- b. <a href="school.htm"></a>
- c. 
- d. none of the above

100.html ve css arasındaki fark nedir?

- A) Html dosya transferi yapar, css dosya düzenini sağlar
- B) html içerik düzenler, css stil-görünüş düzenleme amaçlıdır
- C) html web dosyaları, css resim dosyaları içindir
- D) html stil bilgisi içerir, css içerik bilgisi içerir.

101.Hangisi komut nitelikleridir(attributes)?

- I. width
- II. href
- III. a
- IV. h3
- (a) IV
- (b) I, II ve IV
- (c) I ve II
- d) I ve IV

102.Hangisi “menu” adında bir class(sınıf) için bir selector(Secici)dir?

- a) menu
- b) #menu
- c) .menu
- d) > menu

“ DOĞRU TERCİHLER SİZİ ÇÖZÜME GÖTÜRÜR “

Bizi Tercih Ettiğiniz İçin Teşekkür Ederiz, Tüm Kursiyerlerimize Sınavlarında Başarılar Dileriz..

İLETİŞİM : 0(258) 265 57 52 - 241 75 15 - 0530 565 95 60 – 532 168 41 11

[www.cozumkariyer.com](http://www.cozumkariyer.com)



103. Tablolardaki hücreler arası kenar mesafesi hangi terimle ifade edilir?

- a. cellpadding
- b. cellspacing \*\*\*
- c. cellpadding
- d. cellpadding

104. Tabloyaya yazılan yazının hücre kenarına uzaklığı hangi terimle ifade edilir?

- a. cellpadding
- b. cellpadding
- c. cellspacing \*\*\*\*
- d. cellpadding

105. Tablolarda satırlar nasıl tanımlanır?

- a. <td> </td>
- b. <tr> </tr> \*\*\*\*
- c. <table> </table>
- d. hiçbirisi

106. Tablo başlıkları için hangi etiket kullanılır?

- a. <td> </td>
- b. <th> </th> \*\*\*\*\*
- c. <thead> </thead>
- d. hiçbirisi

107. "email" adında ve 40 boyunda XHTML form objesi hangisidir?

- a. <input type="text" id="email" width="40" />
- b. <input type="text" name="email" size="40" /> \*\*\*\*
- c. <input type="text" name="email" space="40" />
- d. <input type="text" width="40" />

108. Bir web anketinde öğrencilerin kullandığı cep telefon servisi sorulmaktadır. Öğrenciler birden fazla servis seçebilir. Hangi form objesi uygundur?

- a. check box \*\*\*\*
- b. radio button
- c. text box
- d. scrolling text box

109. Bir ankette öğrenciler bayan veya erkek olduğu sorulmaktadır. Öğrenciler her iki seçeneği seçemez, sadece birini seçebilir. Hangi form objesi uygundur?

- a. check box
- b. radio button \*\*\*\*\*
- c. text box
- d. scrolling text box

110. En tepedeki satırın yüzde 40, sonraki satırın önemli olmadan ayrıldığı frame komutu hangisidir?

- a) <FRAMESET ROWS= 40, \*>

“ DOĞRU TERCİHLER SİZİ ÇÖZÜME GÖTÜRÜR “

Bizi Tercih Ettiğiniz İçin Teşekkür Ederiz, Tüm Kursiyerlerimize Sınavlarında Başarılar Dileriz.

İLETİŞİM : 0(258) 265 57 52 - 241 75 15 - 0530 565 95 60 – 532 168 41 11 [www.cozumkariyer.com](http://www.cozumkariyer.com)



- b) <FRAMESET COLS= 40, \*>  
c) <FRAMESET ROWS= 40%, \*> \*\*\*\*  
d) <FRAME ROWS= 40%, \*>

111. Frame içinde menu.html dosyasını gösteren komut hangisidir?

- a) <FRAME SRC=menu.html> \*\*\*\*  
b) <FRAMESET SRC=menu.html>  
c) <FRAME=menu.html>  
d) <FRAMESET=menu.html>

112. Aşağıdaki font css özelliklerinde hangisi yanlıştır?

- a) font-family: Arial, Helvetica, sans-serif;  
b) font-size: 80%;  
c) font-style: italic;  
d) font-color: bold; \*\*\*\*

113. Aşağıdaki tablo(table) kodunda “kaç satır x kaç sütun” vardır?

<table><tr><td>100</td></tr> <tr><td>200</td></tr> <tr><td>300</td></tr> </table>?

- a) 2 x 2  
b) 1 x 3  
c) 2 x 1  
d) 3 x 1

114. CSS nin açılımı nedir ve niçin kullanılır?

- a. Cascading Style Sheets. Web sayfalarını stilize etmek için kullanılır.  
b. Computer Style Short. Bilgisayar stillerini kısaltmak için kullanılır.  
c. Computer Style Short. Bilgisayarda resimleri stilize eder.  
d. Cascading Style Sheets. Web sayfalarında gezinmek için kullanılır

“ DOĞRU TERCİHLER SİZİ ÇÖZÜME GÖTÜRÜR “

Bizi Tercih Ettiğiniz İçin Teşekkür Ederiz, Tüm Kursiyerlerimize Sınavlarında Başarılar Dileriz..

İLETİŞİM : 0(258) 265 57 52 - 241 75 15 - 0530 565 95 60 – 532 168 41 11

[www.cozumkariyer.com](http://www.cozumkariyer.com)

WWW.COZUMKARIYER.COM

“ DOĞRU TERCİHLER SİZİ ÇÖZÜME GÖTÜRÜR “

**Bizi Tercih Ettiğiniz İçin Teşekkür Ederiz, Tüm Kursiyerlerimize Sınavlarında Başarılar Dileriz..**

**İLETİŞİM : 0(258) 265 57 52 - 241 75 15 - 0530 565 95 60 – 532 168 41 11 [www.cozumkariyer.com](http://www.cozumkariyer.com)**